

اداره کل آموزش و پرورش استان اصفهان

معاونت آموزش متوسطه

اداره آموزش دوره اول متوسطه

# تحصیل آزمون پیشرفت

آموزش دوره اول متوسطه  
استان اصفهان

www.DarsYad.ir

مرحله اول

پایه هفتم

آزمون نمره منفی دارد

زمان : ۹۰ دقیقه

ردیف	نام درس	تعداد سوال	از شماره	تا شماره
۱	قرآن	۶	۱	۶
۲	پیامهای آسمان	۶	۷	۱۲
۳	عربی	۸	۱۳	۲۰
۴	ادبیات فارسی	۱۲	۲۱	۳۲
۵	مطالعات اجتماعی	۱۰	۳۳	۴۲
۶	ریاضی	۱۵	۴۳	۵۷
۷	علوم تجربی	۱۵	۵۸	۷۲
۸	زبان انگلیسی	۸	۷۳	۸۰

آذرماه ۱۳۹۳

## قرآن

- ۱- معنای کلمه «ها» در کدام گزینه با بقیه متفاوت است؟  
 الف) أَلَا إِنَّ لِلَّهِ مَا فِي السَّمَاوَاتِ وَالْأَرْضِ  
 ج) مَا خَلَقَ اللَّهُ ذَلِكَ إِلَّا بِالْحَقِّ  
 ب) وَمَا خَلَقَ اللَّهُ فِي السَّمَاوَاتِ وَالْأَرْضِ  
 د) هَلْ عَلِمْتُمْ مَا فَعَلْتُمْ بِيُوسُفَ
- ۲- ترجمه کدام گزینه نادرست است؟  
 الف) إِلَّا = مگر (ب) إلی = به  
 ج) علی = بر (د) أَلَا = آیا مگر
- ۳- کدام ترکیب حروف ناخوانای کمتری دارد؟  
 الف) ذِي الطَّوْلِ (ب) عَلَى الارضِ  
 ج) و فَمِنْ اِهْتَدَا (د) فِي اِخْتِلَافِ
- ۴- کدام ترکیب به صورت جمع ترجمه نمی‌شود؟  
 الف) مِلَّةً ءِابَاءِی (ب) اَجْرُ الْمُحْسِنِیْنَ  
 ج) قَالَ یَقُومُ (د) عَمَّا تَعْمَلُونَ
- ۵- ترجمه کدام گزینه درست است؟  
 الف) عَمَّا = از آنچه (ب) قُلِ اللّٰهُ = گفت خدا  
 ج) اَبِی = پدرانم (د) اِنَّنَّا = به راستیکه
- ۶- در آیه «رَبَّنَا اغْفِرْ لِيْ وَ لِوَالِدَیْ وَ لِلْمُؤْمِنِیْنَ یَوْمَ یَقُومُ الْحِسَابُ» چند گروه مورد مغفرت قرار می‌گیرند؟  
 الف) یک گروه (ب) دو گروه  
 ج) سه گروه (د) چهار گروه

## پیام‌های آسمان

- ۷- لطف و نعمت‌های خداوند به ما انسان‌ها، نشانگر کدام یک از گزینه‌های زیر نیست؟  
 الف) عنایت و توجه (ب) محبت  
 ج) مراقبت (د) عبادت
- ۸- کدام یک از گزینه‌های زیر از شرایط بهره‌مندی از یاری خدا نیست؟  
 الف) بد اخلاقی (ب) صبر  
 ج) دعا (د) نماز
- ۹- کدام یک از آیات زیر «به معاد و زندگی پس از مرگ» اشاره دارد؟  
 الف) لَئِنْ شَكَرْتُمْ لَأَزِيدَنَّكُمْ (ب) اِذْ يَتُوفَى الَّذِينَ كَفَرُوا (ج) هُوَ مَعَكُمْ اَیْنَ مَا كُنْتُمْ (د) اِنَّا كُنَّا نَسْتَعِیْنُ
- ۱۰- صدقه دادن فقط ..... نیست و هر نوع ..... در راه خدا را شامل می‌شود.  
 الف) جانی-کمک به دیگران (ب) زبانی-یاد دادن به دیگران (ج) مالی-کمک به دیگران (د) جانی-کار، حتی استراحت
- ۱۱- کدام جمله پیامبر رحمت را، کامل‌تر معرفی می‌کند؟  
 الف) بِالْمُؤْمِنِیْنَ رُؤُوفٌ رَّحِیْمٌ  
 ج) وَمَا اَرْسَلْنَاكَ اِلَّا رَحْمَةً لِّلْعَالَمِیْنَ  
 ب) اِنَّكَ لَعَلٰی خُلِقْتَ عَظِیْمٌ  
 د) لَقَدْ كَانَ لَكُمْ فِی رَسُوْلِ اللّٰهِ اَسْوَةٌ حَسَنَةٌ
- ۱۲- خوشحالی حضرت زهرا(س) از تقسیم کار مربوط به کدام صفت ایشان است؟  
 الف) علاقه شدید به پیامبر(ص) (ب) حضور در صحنه اجتماع (ج) حیا و عفت  
 د) ساده زیستی

## قریبی

- ۱۳- کدام گزینه نادرست است؟  
 الف) هَذَانِ، اَمَانَ مَسْرُورَانِ (ب) هُوَ لاءِ الرِّجَالِ، مَعْلَمُونَ (ج) هَذِهِ، لَاعِبَةٌ اِیْرَانِیَّةٌ (د) اَوْلَکِ، طَالِبَاتٌ نَاجِحَاتٌ
- ۱۴- پرسش و پاسخ در کدام گزینه درست می‌باشد؟  
 الف) اَیْنِ الطِّفْلِ؟ عِنْدَ اُمِّهِ.  
 ج) مَنِ اَنْتِ؟ اَنَا مَدِیْرَةُ الْمَدْرَسَةِ.  
 ب) مَنْ هِیَ؟ هُوَ زَکْرِیَّا الرَّازِیُّ.  
 د) لِمَنْ هَذِهِ الْحَقِیْبَةُ؟ هَذِهِ الْحَقِیْبَةُ هُنَا.

۱۵- متضاد کلمات «حَسَنٌ، رَخیصة، کثیر، جالس» به ترتیب می‌شود:

الف) سوء، غالیة، قلیل، وَقَفَ (ب) سوء، غالیة، قلیل، واقف (ج) سوء، قلیل، غالیة، واقف (د) أَحْسَنٌ، سوء، غالیة، قلیل

۱۶- ترجمه صحیح عبارت «اولئك اللعابث، صابرات» کدام است؟

الف) آنها، بازیکنانی شکمپا هستند. (ب) آن بازیکنان، شکمپا هستند. (ج) این بازیکنان، شکمپا هستند. (د) اینها، بازیکنانی شکمپا هستند.

۱۷- ترجمه کدام عبارت نادرست است؟

الف) لهذا الصَّفِّ، بابان کبیران: این کلاس، دو در بزرگ دارد. (ب) الولدُ الصالحُ، فخرُ للوالدین: فرزند خوب، باعث افتخار پدر و مادر است.

ج) الجهلُ موتُ الأحياء: نادانی، مرگ زندگان است. (د) عَلَيكَ بالتَّفَكُّرُ: او باید فکر کند.

۱۸- گزینه درست کدام است؟

الف) هولاء البنات، فی ذلك المسابقة ناجحات.

ب) هذان السيدتان، مجاهدتان.

ج) اولئك الأصدقاء، مسرورون.

د) زهراء و مريم، جالسان.

۱۹- کدام گزینه، پاسخ «مَنْ أنت؟» است؟

الف) انت مُدَرِّسٌ (ب) هو مديرُ المدرسة

ج) انا رَجُلٌ (د) هو ناجحٌ فی الصَّفِّ

۲۰- جمله «هِيَ سائِقَةُ السَّيَّارَةِ» در پاسخ کدام سوال است؟

الف) هَلْ هِيَ سائِقَةٌ؟ (ب) مَنْ هِيَ؟

ج) لِمَنْ السَّيَّارَةُ؟ (د) أ، لِسَيَّارَةِ سائِقَةٍ؟

### ادبیات فارسی

۲۱- معنی واژه های «فارغ، دمساز، بصیرت، تأمل» به ترتیب در کدام گزینه آمده است؟

الف) آسوده، همدم، چشم، تلاش و کوشش (ب) جدایی، همدم، آگاهی، اندیشه کردن

ج) راحت، سازگار، بینش و آگاهی، فکر کردن (د) آسوده، سازگار، درستی، درنگ کردن

۲۲- مفهوم کدام گزینه درست نیست؟

الف) تو را توش هنر می‌باید اندوخت (باید فن و دانش آموخت و تجربه اندوخت)

ب) بیاید هر دو پا محکم نهادن (توانا و قدرتمند شدن)

ج) فتاد از پای، کرد از عجز فریاد (ناتوان و خسته شد)

د) مثل یک چشمه سار، جاری شد (در بهار چشمه‌ها جاری می‌شوند)

۲۳- «قصه‌های مجید» و «گویر» به ترتیب از کدام نویسندگان هستند؟

الف) هوشنگ مرادی کرمانی و دکتر شریعتی (ب) نادر ابراهیمی و قیصر امین پور

ج) طاهره اید و دکتر شریعتی (د) قیصر امین پور و محمدجواد محبت

۲۴- املاي کدام گزینه با توجه به معنی آن نادرست است؟

الف) غیرت: آبرو (ب) اثنا: میانه‌ها

ج) اعتراف: بر زبان آوردن (د) سلاح: درستی

۲۵- در کدام گزینه مسند درست مشخص نشده است؟

الف) نگشت آسایشم یک لحظه دمساز

ب) ز وحشت سست شد بر جای ناگاه

ج) علی با عجله رفته است

د) دانه‌ها چون در زمین پنهان شود

۲۶- در کدام گزینه آرایه‌ی تشخیص و تشبیه وجود ندارد؟

الف) برگ درختان سبز در نظر هوشیار

هر ورقش دفتری است معرفت کردگار

ب) غنچه هم گفت گر چه دل تنگم

مثل لبخند باز خواهیم شد

ج) شبنم از روی برگ گل برخاست

گفت می خواهیم آفتاب شوم

د) این درختانند همچون خاکیان

دست‌ها بر کرده اند از خاکدان

۲۷- در کدام گزینه کلمه‌های هم خانواده نادرست آمده است؟

الف) متعال، تعالی، تعادل (ب) مقتدر، اقتدار، قادر (ج) شاعر، مشاعر، شعور (د) سعادت، سعید، مسعود  
۲۸- مفهوم بیت‌روبه‌رو در کدام گزینه درست ذکر نشده است؟ «جهان جمله فروغ‌روی حق‌دان / حق اندر وی زیدایی است پنهان»

الف) تمام دنیا پرتو وجود خداوند است. (ب) به دنیای گذران اعتماد نکنیم.  
ج) در پدیده‌های آفرینش با دقت نگاه کنیم. (د) طبیعت جلوه‌ای از حق است.

۲۹- با توجه به بیت «این زندگی، حلال کسانی که همچو سرو / آزاد زیست کرده و آزاد می‌روند»، کدام گزینه غلط است؟

الف) در این بیت، سرو نماد انسان‌های آزاده و وارسته می‌باشد. (ب) به دنیای مادی دل‌نبن‌دیم، تا برایمان حلال و خوش باشد.  
ج) این زندگی باید با حلال همراه باشد. (د) در این بیت آرایه تکرار و تشبیه وجود دارد

۳۰- مفرد و جمع واژه‌ها در کدام گزینه به درستی نوشته نشده است؟

الف) عنوان و عناوین (ب) علم و علوم (ج) اعجاز و معجزه (د) سیر و اسرار

۳۱- نقش کلماتی که زیر آن خط کشیده شده در کدام گزینه آمده است؟

الف) مفعول، متمم، مفعول (ب) نهاد، متمم، نهاد (ج) نهاد، متمم، مفعول (د) نهاد، قید، مفعول  
«دانه آرام بر زمین غلتید»  
رفت و انشای کوچکی را خواند»

۳۲- مفهوم کنایی در کدام گزینه نادرست آمده است؟

الف) بر کسی این در مکن زنه‌ار باز (کنایه از پنهان کردن راز) (ب) کوته‌ز درت دراز دستی (کنایه از زورگویی به درگاه خدا راه‌ناردر)  
ج) دست‌گیر (کنایه از کمک کردن و یاری رساندن) (د) دندان بر دندان ساییدن (کنایه از تعجب و شگفتی)

### مطالعات اجتماعی

۳۳- انسان‌ها از چه زمانی دارای حقوق طبیعی می‌شوند؟

الف) زمانی که تبعه یک کشور می‌شوند. (ب) از ابتدای خلقت و تولد.  
ج) زمانی که وارد مدرسه می‌شوند. (د) از سن ۱۸ سالگی.

۳۴- این جمله: «تلاش می‌کنم با زبانم دروغ نگویم یا غیبت نکنم» بیانگر مسئول بودن در برابر کیست؟

الف) خودم (ب) دیگران (ج) محیط زندگی (د) عالم خلقت

۳۵- صاحبان‌بنگاه‌ها، شرکت‌ها و کارفرمایان سازمان‌ها وظیفه دارند همه‌ی کارمندان و کارگران خود را در مقابل . . . . . بیمه کنند.

الف) تصادفات (ب) آتش‌سوزی (ج) حوادث ناشی از کار (د) بیماری‌ها

۳۶- نظارت بر انتخابات کشور، از وظایف کدام نهاد می‌باشد؟

الف) شورای نگهبان (ب) مجلس خبرگان (ج) مجلس شورای اسلامی (د) قوه مجریه

۳۷- کوه‌های کرکس در کدام قسمت ایران قرار دارد؟

الف) جنوب شرقی (ب) مرکز (ج) شمال شرقی (د) شمال غربی

۳۸- اگر در کنار نقشه‌ای این مقیاس خطی وجود داشته باشد، فاصله‌ی دو شهر که بر روی نقشه ۴ سانتیمتر است، بر روی

زمین چند کیلومتر است؟



الف) ۴۰۰ (ب) ۶۰۰ (ج) ۸۰۰ (د) ۱۰۰۰

۳۹- فاطمه با دیدن صحنه‌های بیماران کودکان غزه، به شدت متأثر شد و سعی کرد که خود را جای آنها بگذارد. به این کار او

چه می‌گویند؟

الف) همدلی (ب) همدردی (ج) همیاری (د) هم‌زیانی

۴۰- از مهم‌ترین عناصر آب و هوا به شمار می‌آید؟

(الف) ارتفاع و بارش (ب) دما و بارش (ج) ارتفاع و دما (د) دوری از دریا و ارتفاع

۴۱- دانش و مهارت جزء کدام عوامل تولید محسوب می‌شود؟

(الف) سرمایه (ب) منابع طبیعی (ج) اقتصاد (د) نیروی انسانی

۴۲- کدام گزینه صحیح نمی‌باشد؟

(الف) به مواد اولیه، مواد خام می‌گویند. (ب) ثبت تاریخ مصرف مواد غذایی و بهداشتی اجباری است.

(ج) هر کس می‌تواند به دلخواه کارگاه تولید مواد غذایی تاسیس کند. (د) موسسه استاندارد کیفیت کالاها را بررسی می‌کند.

### ریاضی

۴۳- ساده شده عبارت  $۳(x-۲ax-۵) - ۲(۴x-۳ax-۷)$  کدام گزینه است؟

(الف)  $-۵x+۱$  (ب)  $-۵x-۱$  (ج)  $-۵x-۱۲x+۱$  (د)  $-۵x+۱۲x-۱$

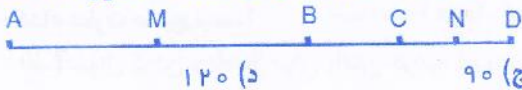
۴۴- دمای دو شهر A و B قرینه هم‌دیگر هستند و دمای شهر C، ۲ درجه زیر صفر است. قرینه میانگین این سه شهر کدام است؟

(الف) ۴ (ب) ۱۲ (ج) -۴ (د) -۱۲

۴۵- حاصل عبارت  $۸-۱۴ \div ۲ \times ۷ + ۳(-۷+۱۵)$  کدام گزینه است؟

(الف) -۱۷ (ب) ۱۷ (ج) ۳۱ (د) -۳۱

۴۶- در شکل زیر M وسط AB و N وسط CD می‌باشد. اگر  $BD = ۶۰$  و  $AC = ۱۲۰$  سانتی‌متر باشد. آنگاه طول MN کدام است؟ ( $AD = ۱۵۰$  سانتی‌متر)



(الف) ۱۵۰ (ب) ۶۰ (ج) ۹۰ (د) ۱۲۰

۴۷- اختلاف مکمل و متمم هر زاویه چند درجه است؟

(الف) ۹۰ درجه (ب) ۱۸۰ درجه (ج) ۵۵ درجه (د) نمی‌توان محاسبه کرد و به زاویه بستگی دارد.

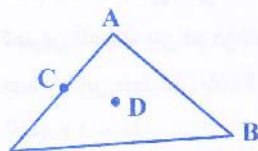
۴۸- حاصل عبارت  $(۸x-۲۱y) - (x-۳y)$  به ازای  $x = ۷۴$  و  $y = -۱۸۴$  کدام گزینه است؟

(الف) -۲۸۵ (ب) ۱۸۵ (ج) ۱۷۴ (د) -۷۴

۴۹- مثلث روبه‌رو را نسبت به کدام نقطه دوران دهیم تا شکل دوران یافته آن و خود مثلث (بدون این که تبدیل دیگری انجام

دهیم) تشکیل یک متوازی الاضلاع دهند؟

(الف) نسبت به نقطه‌ی A، ۹۰ درجه خلاف حرکت عقربه‌های ساعت  
(ب) نسبت به نقطه‌ی B، ۱۸۰ درجه  
(ج) نسبت به نقطه‌ی C، ۱۸۰ درجه  
(د) نسبت به نقطه‌ی D، ۱۸۰ درجه



۵۰- حاصل عبارت روبه‌رو کدام است؟

(الف)  $\frac{۱۲۷}{۱۲۸}$  (ب)  $\frac{۱}{۱۲۸}$  (ج) ۱۲۸ (د) ۱۲۷

۵۱- عدد بعدی در الگوی عددی زیر چیست؟

(الف) ۷۶۴ (ب) ۸۲۹ (ج) ۹۸۱ (د) ۸۶۴

۵۲- حاصل عبارت  $(۲a+۱)(۲a+۲)(۲a+۳) \dots (۲a+۱۰۰۰)$  به ازای  $a = -۲۵۱$  کدام است؟

(الف) ۱ (ب) صفر (ج) ۱۰۰ (د) -۱۰۰

۵۳- حاصل عبارت مقابل در کدام گزینه آمده است؟  
 (الف) ۳۴ (ب) ۱۸ (ج) ۳۶ (د) ۱۲

۵۴- کدام تبدیل هندسی جهت شکل را تغییر نمی‌دهد؟

(الف) دوران (ب) تقارن (ج) انتقال (د) گزینه‌های «الف» و «ب»

۵۵- با توجه به شکل مقابل اندازه زاویه  $x$  چند درجه است؟

(الف) ۶۰ (ب) ۳۰ (ج) ۴۰ (د) ۵۰



۵۶- یک توپ پس از هربار زمین خوردن یک سوم دفعه‌ی قبل بالا می‌آید. اگر پس از به زمین خوردن در دفعه سوم ۲۰۰ سانتیمتر بالا بیاید، در ابتدا از چه ارتفاعی رها شده است؟

(الف) ۳ متر (ب) ۱۸۰ سانتی‌متر (ج) ۳۰ متر (د) ۵۴۰۰ سانتی‌متر

۵۷- حاصل عبارت روبه‌رو کدام گزینه است؟

(الف) ۴۳ (ب) ۱۸۴ (ج) ۴۶۴ (د) ۱۰۰

### علوم تجربی

۵۸- کدام عبارت صحیح نیست؟

(الف) سوال کردن و تلاش برای یافتن جواب، مهمترین نکته در علم است.  
 (ب) گوگرد، نمک و جوهر نمک، در آب حل می‌شوند.  
 (ج) تبدیل علم به عمل را فناوری می‌گوییم.  
 (د) فن آوری‌ها، معایبی هم دارند.

۵۹- به نظر شما جرم یک توپ فوتبال معمولی حدوداً چقدر است؟

(الف)  $1/2$  - ۱ کیلوگرم (ب) ۴۰۰ - ۵۰۰ گرم (ج) ۱۵۰ - ۱۰۰ گرم (د) کمتر از ۱۰۰ گرم

۶۰- ماده‌ی اولیه برای ساخت کارد و چنگال چیست؟

(الف) سنگ معدن آهن (ب) مس (ج) فولاد زنگ نزن (د) چدن

۶۱- کمترین فاصله بین دو درجه‌ی متوالی در یک خط کش  $0/5$  سانتی‌متر است. کدام عدد نمی‌تواند حاصل اندازه‌گیری طول اجسام با این خط کش باشد؟

(الف)  $0/12$  متر (ب)  $0/135$  متر (ج) ۳۵ میلی‌متر (د) ۲۷ میلی‌متر

۶۲- کدام جمله درباره‌ی یخچال‌ها صحیح نیست؟

(الف) هر کجا که یخ و برف وجود داشته باشد، یخچال محسوب می‌شود.  
 (ب) در قطب‌های زمین یخچال‌های عظیمی وجود دارد.  
 (ج) در جایی یخچال تشکیل می‌شود که بارش‌ها عمدتاً به صورت برف هستند.  
 (د) در نقاط بلند و مرتفع سطح خشکی‌ها یخچال وجود دارد.

۶۳- کدام یک چکش خوار نیست؟

(الف) مس (ب) نقره (ج) طلا (د) گوگرد

۶۴- در حدود یک پنجم هوا را گاز اکسیژن تشکیل داده است. یک مخزن فلزی در بسته به گنجایش ۵ لیتر را از هوا پر می‌کنیم.

اگر بتوانیم اکسیژن موجود در این هوا را از کیسول خارج کنیم، حجم هوای باقی مانده چند لیتر خواهد بود؟

- الف) ۲ (ب) ۳ (ج) ۴ (د) ۵

۶۵- سه گلوله‌ی فلزی از جنس‌های آلومینیوم، مس و آهن و همچنین یک حلقه در اختیار داریم. در حالت عادی، گلوله‌ها از حلقه عبور می‌کنند. اگر هر سه گلوله را به یک اندازه گرم کنیم، احتمال عبور نکردن کدام گلوله از بقیه بیشتر است؟

- الف) آلومینیومی (ب) مسی (ج) آهنی (د) تفاوتی ندارند

۶۶- در بین جملات زیر، چند عبارت صحیح است؟

\* گوگرد، طلا و نمک را می‌توان به طور مستقیم از طبیعت به دست آورد.

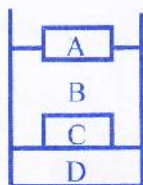
\* شیشه از ماسه و پلاستیک از نفت خام به دست می‌آید.

\* چوب پنبه از ناخن سخت تر است.

\* استحکام فولاد از پلاستیک بیشتر است.

- الف) ۱ (ب) ۲ (ج) ۳ (د) ۴

۶۷- با توجه به نحوه‌ی قرار گیری، ماده‌ی A، B، C و D به ترتیب از راست به چپ چه موادی هستند؟



الف) چوب پنبه، آلیاژ برنج، آب، جیوه

ب) آلیاژ برنج، آب، چوب پنبه، جیوه

ج) چوب پنبه، جیوه، آلیاژ برنج، آب

د) چوب پنبه، آب، آلیاژ برنج، جیوه

۶۸- کدام گزینه درباره‌ی فولاد زنگ نزن صحیح نمی‌باشد؟

الف) از آهن، نیکل و کروم به دست می‌آید.

ب) سخت تر و مقاوم تر از آهن است.

ج) ناخالصی‌های موجود بین اتم‌های آهن، باعث بهبود خواص آن شده است.

د) مقدار زیادی از فلزات مختلف به آهن اضافه شده است.

۶۹- برای تهیه ۱۰۰ تن فلز آهن، حدوداً به چند تن سنگ معدن نیاز داریم؟ (هر تن برابر ۱۰۰۰ کیلوگرم است)

- الف) ۲۰۰ (ب) ۵۰۰ (ج) ۱۰۰۰ (د) ۲۰۰۰

۷۰- آهک در کدام یک از موارد زیر کاربرد ندارد؟

الف) تهیه سیمان (ب) ورودی استخرها و گاوداری‌ها

ج) کوره بلند ذوب آهن (د) تهیه مغز مداد

۷۱- برای شکل دادن به کدام ماده باید به آن گرما دهیم؟

- الف) گل رس (ب) بتن (ج) شیشه (د) همه‌ی موارد

۷۲- کدام جمله صحیح است؟

الف) آبشار در جایی ایجاد می‌شود که آب در مسیر خود از سنگ‌های سست و نامقاوم به سنگ‌های مقاوم برسد.

ب) دریاچه‌ها در تامین مواد معدنی برای انسان، اهمیت چندانی ندارند.

ج) در زمین‌های شیب دار، رودخانه مسیر مارپیچ را به خود می‌گیرد.

د) صرف نظر از یخ‌های قطبی، بیشتر آب‌های شیرین در زیر سطح زمین قرار دارند.

## زبان انگلیسی

۷۳- علیرضا می‌خواهد با استفاده از تمام حروف زیر، ۲ اسم بسازد. به نظر شما کدام گزینه صحیح است؟

- a) Mana - Nima      b) Mina - Amin  
c) Mona - Mina      d) Amin - Mana



۷۴- یکی از دوستانم در متن زیر بعضی از کلمات را از نظر نوشتاری (حروف کوچک و بزرگ) اشتباه نوشته است. می‌توانید

آن کلمات را برایش پیدا کنید؟  
A: Hello, my name is Ali tamkini.      B: nice to meet you, Ali.

- a) a , c      b) a , d      c) b , d      d) c , d

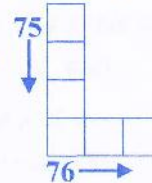
\* مریم باید جدول زیر را کامل کند. با انتخاب گزینه مناسب او را راهنمایی کنید.

75. . . . . is your name?

- a) Who      b) What      c) How      d) When

76. My birthday is in . . . . .

- a) Mehr      b) Day      c) Tir      d) Aban



۷۷- شادی به تازگی اسم وسایل تحریرش را به انگلیسی یاد گرفته است. برای اینکه مطمئن شوید او همه را بلد است با توجه

به تصاویر در انتخاب گزینه صحیح باریش کنید.

- a) pen , book , ruler , eraser  
b) eraser , ruler , pen , book  
c) ruler , eraser , book , pen  
d) pen , ruler , book , eraser



۷۸- محمد برای گرفتن بالن اسباب بازی از معلم ریاضی خود بایستی معمای داخل بالن را حل کند.

به نظر شما جواب معما کدام گزینه است؟

- a) ten      b) twelve  
c) fifteen      d) sixteen

\* پریسا برای ارتقاء به مرحله دوم آزمون زبان انگلیسی، بایستی به سوالات این متن پاسخ دهد.

در انتخاب گزینه صحیح او را کمک کنید.

Bitu is a student. she's thirteen but her classmate ,Sara ,is fourteen. Sahar and Tina are Bitu's friends, but they aren't in her class.

79. Who is Bitu's classmate?

- a) Sahar      b) Sara      c) Tina      d) Bitu

80. How old is Sara?

- a) 11      b) 12      c) 13      d) 14



\* دانش آموز عزیز!

شماره‌ی داوطلبی و رمز کارنامه‌ی خود را از روی پاسفنامه ببینید و در جدول روبه‌رو یادداشت کنید!  
شما می‌توانید با داشتن این دو کد، و مراجعه به سامانه‌ی اینترنتی [www.natiye.ir](http://www.natiye.ir) نتیجه‌ی آزمون خود را مشاهده کنید!