

علم بی همراه تہذیب نفس است کج انسان را بی مقام انسانیت صالح رساند.

امام خمینی (ہ)

ارزشیابی شناختی

وزارت آموزش و پرورش
ادارہ کل آموزش و پرورش
معاونت آموزش متوسطہ
ادارہ آموزش متوسطہ دورہ اول

پایہ ہشتم

نام و نام خانوادگی.....

کد داوطلبی :

کلمہ عبور :

* توجہ: برای مشاهده نتیجه الکترونیکی، کد داوطلبی و کلمہ عبور خود را با توجہ بہ پاسخ برگ در این قسمت یادداشت کنید.

جدول زمانبندی و منابع آزمون

ردیف	منابع آزمون	تعداد سوال	از شماره	تا شماره
۱	قرآن و پیام های آسمان	۱۵	۱	۱۵
۲	ریاضی	۱۵	۱۶	۳۰
۳	فارسی	۱۵	۳۱	۴۵
۴	علوم تجربی	۱۵	۴۶	۶۰
۵	عربی	۱۰	۶۱	۷۰
۶	مطالعات اجتماعی	۱۰	۷۱	۸۰
۷	زبان انگلیسی	۱۰	۸۱	۹۰

تعداد
سؤالات

مرحلہ
پاییز
۹۶

زمان
پاسخگویی
دقیقہ

آزمون نمرہ منفی دارد



مشاهده کارنامہ از طریق

۱- کانال تلگرام بہ آدرسی : @natijehazmon

۲- سامانہ اعلام نتیجہ : pishraft1400.ir



۳- برنامہ اندروید

قرآن و پیام های آسمان

- ۱- معنای کلمات مشخص شده به ترتیب کدام است؟ « وَ لَمْ يَتَّخِذْ وَلَدًا وَ لَمْ يَكُنْ لَهُ شَرِيكٌ فِي الْمُلْكِ »
 (۱) پدر - فرمانروایی (۲) پسر - پادشاه (۳) فرزند - همتا (۴) فرزند - فرمانروایی
- ۲- در ترجمه فارسی کدام عبارت لازم نیست حرف «ل» را معنا کنیم؟
 (۱) اِنْ فِي ذَلِكَ لآيَةٌ (۲) لَكُمْ اللَّيْلُ لِيَأْسَا (۳) لَهُ مُلْكُ السَّمَاوَاتِ (۴) اِذْ قَالَ لَهُمُ آخُوهُمْ
- ۳- کدام عبارت نشان دهنده این است که مؤمنان از بیهودگی روی گردان هستند؟
 (۱) هُمْ فِي صَلَاتِهِمْ خَاشِعُونَ (۲) هُمْ عَنِ اللَّغْوِ مُعْرِضُونَ (۳) هُمْ لِلزَّكَاةِ فَاعِلُونَ (۴) وَالَّذِينَ هُمْ مُحْسِنُونَ

الف) قرار داد روز را	(۱) أَرْسَلَ الرِّيحَ
ب) می فرستد باران را	(۲) مَاءً طَهُورًا
ج) فرستاد بادها را	(۳) جَعَلَ النَّهَارَ
د) آبی پاک کننده	

- ۴- معنای درست ترکیب های قرآنی در کدام گزینه به درستی آمده است؟
 (۱) ۱- ج ← ۲ ← ۳ ← الف
 (۲) ۱ ← ۲ ← الف ← ۳ ← ج
 (۳) ۱ ← ج ← ۲ ← د ← الف
 (۴) ۱ ← ج ← ۲ ← د ← الف

۵- معنای کدام جمله قرآنی نادرست است؟

- (۱) فَأَطِيعُوا اللَّهَ وَ أَطِيعُوا: تقوا خدا پیشه کنید و از من پیروی کنید.
 (۲) آیه « أَفَلَا يَنْظُرُونَ إِلَى الْإِبْرَةِ كَيْفَ خُلِقَتْ » انسان ها را به انجام چه کاری دعوت می کند؟
 (۳) چشم ارزشمندترین نعمت است.
 (۴) چشم از آفرینش انسان شگفت انگیز است.
 (۵) مهم ترین نتیجه ای که از موضوع مقابل می گیریم کدام است؟ (مخترعان بزرگ با الگو گرفتن از چشم موفق شده اند تلسکوپ بسازند).
 (۱) چشم ارزشمندترین نعمت است.
 (۲) آفرینش انسان شگفت انگیز است.
 (۳) تفکر در آفرینش مخلوقات
 (۴) اعتقاد داشتن به آفرینش موجودات

- ۸- ناصر هرگز حاضر نیست اشتباهاتش را بپذیرد و تصمیمی برای ترک آن ندارد. با توجه به این موضوع، رفتار ما باید با ناصر چگونه باشد؟
 (۱) در هر حال باید او را ببخشیم، زیرا خداوند از گناهان ما خواهد گذشت.
 (۲) نباید از اشتباهاتش چشم پوشی کنیم، زیرا جسارت او بیشتر می شود.
 (۳) به دلیل سرفراز شدن در میان مردم از اشتباهاتش چشم پوشی کنیم.
 (۴) اشتباهاتش را نادیده بگیریم ولی به دنبال انتقام و تنبیه کردن او باشیم.

۹- « خداوند بسیار آمرزنده است » این ویژگی به کدام نام خداوند اشاره دارد؟

- (۱) رحمان (۲) رحیم (۳) علیم (۴) غفار

۱۰- چه عاملی لذت و شیرینی نعمت های بهشت را برای بهشتیان بیشتر می کند؟

- (۱) پذیرایی با غذاهایی لذیذ و نوشیدنی های بهشتی
 (۲) بی شمار بودن نعمت ها
 (۳) وسعت نعمت ها
 (۴) جاوید ماندن در بهشت

۱۱- در رابطه با شیطان و اعمال جهنمیان کدام گزینه نادرست می باشد؟

- (۱) شیطان از جهنمیان می خواهد که او را سرزنش و نفرین کنند.
 (۲) جهنمیان وسوسه های شیطان را باور کرده بودند.
 (۳) شیطان اعتراف می کند که خداوند وعده راست می دهد.
 (۴) جهنمیان آرزو می کنند: ای کاش من مستی خاک بودیم.

۱۲- کدام گزینه در مورد (نعمت اهل بیت) به هنگام قیامت صحیح می باشد؟

- (۱) خداوند کریم تر از آن است که از نعمت اهل بیت از کسی سوال کند.
 (۲) شأن اهل بیت بالاست و خداوند در این باره از کسی سوال نمی کند.
 (۳) خداوند در مورد نعمت اهل بیت از پیامبر خودش سوال خواهد کرد.
 (۴) درباره نعمت محمد و آل محمد از ما سوال خواهد شد.

۱۳- پیامبر(ص) بعد از خود دو چیز گران بها به جا گذاشتند. آن دو کدامند؟

- (۱) عترت و اهل بیت (۲) کتاب خدا و چشمه کوثر (۳) قرآن و اهل بیت (۴) وحی الهی و معارف عمیق قرآن

۱۴- علت اصلی اینکه پیامبر(ص) برای هر گروهی از مسلمانان در مسیر مأموریت ها ، سرپرست تعیین می کردند چه بود؟

- (۱) پیروزی حتمی بر مشرکان
 (۲) آسیب ندیدن مسلمانان از کفار
 (۳) جلوگیری از ایجاد جنگ های داخلی
 (۴) رهایی از سر درگمی و تفرقه

۱۵- از "غدیر خم" به عنوان چه روزی یاد می شود؟

- (۱) برگزاری مراسم حج (۲) آغاز نبوت پیامبر (ص) (۳) کامل شدن دین اسلام (۴) ایمان آوردن حضرت علی(ع)

ریاضی

۱۶- حاصل عبارت مقابل کدام است؟

$$4 - 4 \div 2 \times (-2)^2 =$$

- (۱) صفر (۲) ۶- (۳) ۳ (۴) ۴- (۴) ۴-

۱۷- اگر عددی طبیعی کوچک تر از ۱۲۰ باشد برای تشخیص اول بودن آن عدد حداکثر چند تقسیم باید انجام داد؟

- (۱) ۳ (۲) ۴ (۳) ۵ (۴) ۶

۱۸- حاصل عبارت مقابل کدام است؟

$$\frac{3-1}{5} = \frac{1-1}{1-2}$$

- (۱) $-\frac{4}{5}$ (۲) $\frac{5}{4}$ (۳) $\frac{4}{5}$ (۴) $-\frac{5}{4}$

۱۹- با قرار دادن علامت های ((+)) یا ((-)) در جاهای خالی کوچک ترین عددی که می توان ساخت کدام است؟

$$5 \oplus (-6) \oplus (+3) \oplus (-9) =$$

- (۱) ۱۳- (۲) ۲۳ (۳) ۱۷- (۴) ۲۳-

۲۰- آیا یک عدد اول و یک عدد مرکب همیشه نسبت به هم اول هستند؟

- (۱) بلی، زیرا تنها شمارنده مشترک آن دو عدد یک است.
 (۲) بلی، زیرا بزرگ ترین شمارنده مشترک آن دو عدد همیشه یک است.
 (۳) خیر، زیرا شرط اینکه دو عدد نسبت به هم اول باشند آن است که هر دو عدد اول باشند.
 (۴) خیر، زیرا ممکن است عدد مرکب بر عدد اول بخش پذیر باشد.

۲۱- چه تعداد از اعداد مقابل عدد صحیح هستند؟

$$\frac{-6}{6}, +2\frac{5}{10}, -(-5)^2, -\frac{-4}{-2}, -\frac{\sqrt{27}}{\sqrt{3}}$$

- (۱) ۱ (۲) ۲ (۳) ۳ (۴) ۴

۲۲- ۱۵۳۶ عددی چهاررقمی است که مجموع رقم هایش ۱۵ می شود. چند عدد سه رقمی اول داریم که مجموع رقم هایشان ۱۵ باشد؟

- (۱) صفر (۲) ۱ (۳) ۱۰۰ (۴) ۲۳۷


۲۳- چند مورد از عبارت های زیر درست است؟

- متوازی الاضلاع محور تقارن ندارد.
- مثلث متساوی الاضلاع، مرکز تقارن دارد.
- دو خط عمود بر یک خط بر هم عمودند.

- (۱) صفر (۲) ۱ (۳) ۲ (۴) ۳

۲۴- مقدار x در شکل مقابل چقدر است؟

- (۱) ۹۵ (۲) ۶۵ (۳) ۱۷/۵ (۴) ۲۲/۵



۲۵- کدام گزینه نادرست است؟

- (۱) متوازی الاضلاعی که یکی از زاویه های آن قائمه باشد، مستطیل است.
 (۲) قطرهای هر مستطیل بر هم عمودند.
 (۳) اگر وسط ضلع های یک لوزی را به ترتیب به هم وصل کنیم چهارضلعی به دست آمده مستطیل است.
 (۴) لوزی نوعی متوازی الاضلاع است که چهار ضلع برابر دارد.

۲۶- اندازه هر زاویه داخلی یک ۱۲ ضلعی منتظم چند برابر اندازه زاویه خارجی آن است؟

- (۱) ۳ (۲) ۴ (۳) ۵ (۴) ۶

۲۷- جواب معادله ی رو به رو کدام است؟

$$\frac{1}{3} - \frac{1-3x}{5} = \frac{13}{15}x$$

- (۱) $\frac{1}{2}$ (۲) $-\frac{1}{2}$ (۳) $\frac{1}{9}$ (۴) $-\frac{1}{9}$

۲۸- در روش غربال اعداد اول، برای اعداد طبیعی از ۱ تا ۲۵۰ آخرین عددی که خط می خورد کدام است؟

- (۱) ۲۵۰ (۲) ۱۶۹ (۳) ۲۴۷ (۴) ۲۲۱

۲۹- ساده شده ی عبارت رو به رو کدام است؟

$$X(3 - X) + (X + 2)(X - 6) =$$

(۱) $-x - 12$ (۲) $2x^2 - x - 12$ (۳) $3x - 12$ (۴) $7x + 12$

۳۰- مقدار عددی عبارت رو به رو به ازای $x = 2$ و $y = -1$ کدام است؟

$$x - y^{x-y} =$$

(۱) ۱ (۲) ۲ (۳) ۳ (۴) ۴

فارسی

۳۱- در کدام گزینه غلط املایی وجود دارد؟

- (۱) خداوند برای ملخ دو حدقه ، چونان ماه تابان آفریده است.
 (۲) با دفع دشمن ، سالیان دراز می توانید پیروز و ظفرمند به بدر بگردید.
 (۳) اصل در خوردن ، آن است که لقمه حلال باشد.
 (۴) ایران همواره سرزمین فرّ و فروق و فرهیختگی بوده است.

۳۲- با توجه به بیت « نور خورشید در جهان ، فاش است / آفت از ضعف چشم خفاش است » مفهوم نمادین « خفاش » در کدام گزینه صحیح است؟

- (۱) خون آشامی (۲) شب کوری (۳) روز کوری (۴) ستمگری
 ۳۳- رابطه ی واژه ی « فراز » به « فرود » مثل :
 (۱) محکم است به سست (۲) خار است به خوار
 ۳۴- کدام ترکیب با گزینه های دیگر متفاوت است؟
 (۱) سفر زندگی (۲) بوی آب (۳) بیشه فرهنگ (۴) دانه شکر

۳۵- در کدام گزینه از « ادات تشبیه » استفاده شده است؟

- (۱) مهربان و ساده و بی کینه است / مثل نوری در دل آینه است . (قیصر امین پور)
 (۲) ماه ، برق کوچکی از تاج او / هر ستاره پولکی از تاج او (قیصر امین پور)
 (۳) چون با ادب و تمیز باشی / پیش همه کس عزیز باشی (ایرج میرزا)
 (۴) چون نیرسی کاین تماثل از کجا آمد پدید؟ / چون نجویی کاین تصاویر از کجا شد آشکار؟ (قانعی شیرازی)

۳۶- ساخت کدام گزینه با بقیه متفاوت است؟

- (۱) بستگی (۲) زرنگی (۳) دوندگی (۴) زندگی

۳۷- هر یک از واژه های مشخص شده را به نقش دستوری خود وصل کرده و گزینه صحیح را انتخاب نمایید.

الف - نهاد	۱- می باش به عمر خود سحر خیز
ب- مفعول	۲- خرسند شود ز تو خداوند
ج - مستند	۳- گفتم که از که برسم، جانا نشان کویت؟
د- متمم	۴- این همه صورت بزد بر صفحه ی هستی به کار

- (۲) ۱- الف ۲- ب ۳- ج ۴- د
(۴) ۱- ج ۲- الف ۳- د ۴- ب

۳۸- در کدام گزینه ، اولین کلمه « هسته گروه اسمی » است؟

- (۱) خیزید و خز آرید که هنگام خزان است.
(۲) لیخند تو خلاصه ی خوبی هاست.
(۳) کلام گزینه به مفهوم سخن پیامبر (ص): « قولو الحق و لو علی انفسکم، اشاره دارد؟

- (۱) می کوش که هر چه گوید استاد/ گیری همه را به چابکی یاد
(۲) زنهار مگو سخن به جز راست / هر چند تو را در آن ضررهاست
(۳) زین گفته، سعادت تو جویم / پس یاد بگیر هر چه گویم
(۴) جز راست نباید گفت / هر راست نشاید گفت

۴۰- کدام بیت با بقیه ابیات ، قرابت معنایی ندارد؟

- (۱) در دل او دوستی جایی نداشت / مهربانی هیچ معنایی نداشت.
(۲) مهربان و ساده و بی کینه است / مثل نوری در دل آینه است.
(۳) دوستی از من به من نزدیک تر / از رگ گردن به من نزدیک تر
(۴) عادت او نیست خشم و دشمنی / نام او نور و نشانش روشنی

۴۱- مفرد واژه های زیر در کدام گزینه به ترتیب صحیح است ؟

« تمانیل - فصول - حکما »

- (۱) مثال - فصل - حاکم (۲) تمثیل - فاصله - حکیم (۴) تمثال - فصل - حکیم

۴۲- بیت زیر از چند جمله تشکیل شده است؟

« زنهار ، مگو سخن به جز راست / هر چند تو را در آن ضررهاست »

- (۱) ۱ (۲) ۲ (۳) ۳ (۴) ۴

۴۳- کدام یک از ترکیبات زیر وصفی نمی باشد؟

- (۱) لقمه ی حلال (۲) مریدان شیخ (۳) ارزش های خاص (۴) هویت اصلی

۴۴- در کدام دسته از واژه های زیر، از بن مضارع استفاده شده است؟

- (۱) دلپذیر ، اندیشه ، لیخند (۲) شکافته ، انباشته ، رفتار (۳) آفریده ، خدا دادی ، پدچیدگی (۴) پوشیده ، گفتار ، آفریدگار

۴۵- روایت « مَنْ عَرَفَ نَفْسَهُ فَقَدْ عَرَفَ رَبَّهُ » بیانگر کدام مهارت زندگی است؟

- (۱) خود آگاهی (۲) تدبیر مناسب (۳) کشف و نوآوری (۴) ارتباط مؤثر

علوم تجربی

۴۶- عصبی که پیام را از اندام ها به مغز می رساند کدام است؟

- (۱) حسی (۲) حرکتی (۳) رابط (۴) حسی و حرکتی

۴۷- با افزایش دما میزان انحلال پذیری کدام ماده در آب کاهش می یابد؟

- (۱) نمک خوراکی (۲) پتاسیم نیترات (۳) شکر (۴) کربن دی اکسید

دو سوال زیر دارای چهار گزینه می باشد که در بخش ذیل آمده است گزینه مربوط به هر سوال را مشخص و در پاسخ برگ وارد کنید.


۴۸- غده..... در کودکی باعث رشد بهتر اندام ها به ویژه مغز و در بزرگسالی باعث افزایش هوشیاری می شود.

۴۹- غده..... باعث افزایش یون کلسیم در خون می شود.

- (۱) هیپوفیز (۲) پانکراس (۳) پارا تیروئید (۴) تیروئید

۵۰- می دانید مخلوط ها دارای ویژگی های مشخصی هستند. به نظر شما کدام گزینه ی زیر ویژگی مخلوط ناهمگن نیست؟

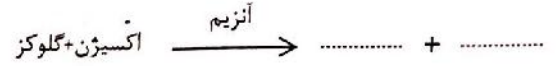
- (۱) اجزای تشکیل دهنده آن به طور غیر یکنواخت پراکنده شده است.
(۲) قابل تشخیص است.
(۳) اجزای تشکیل دهنده آن به طور یکنواخت پراکنده شده است.
(۴) از کاغذ صافی عبور نمی کند.



۵۱- قسمت های روی شکل را به ترتیب شماره نام گذاری کنید؟

- (۱) جسم یاخته ای، آسه، دارینه
- (۲) دارینه، جسم یاخته ای، آسه
- (۳) آسه، دارینه، جسم یاخته ای
- (۴) دندریت، آکسون، جسم یاخته ای

۵۲- معادله نوشتاری زیر را کامل کنید؟



- (۱) قند + کربن دی اکسید $\xrightarrow{\text{قند + بخار آب}}$
- (۳) کربن دی اکسید + بخار آب
- (۴) نمک + بخار آب

۵۳- در کدام یک از مفصل های زیر رباط وجود دارد؟

- (۱) ستون مهره های کمر
- (۲) استخوان جمجمه
- (۳) استخوان های جناغ سینه
- (۴) آرنج

۵۴- عنصری با عدد جرمی ۳۵ اگر تعداد نوترون های آن ۵ تا بیشتر از پروتون های آن باشد تعداد الکترون های این عنصر چقدر است؟

- (۱) ۲۰
- (۲) ۱۵
- (۳) ۳۰
- (۴) ۴۰

۵۵- در بدن استخوان ها توسط تاندون ها به یکدیگر متصل شده اند که سبب حرکت بدن می شوند.

- (۱) صحیح است، زیرا با منقبض شدن ماهیچه ها سبب حرکت بدن می شوند.
- (۲) صحیح است، زیرا سبب انتقال نیرو به استخوان ها می شود و موجب حرکت بدن می شود.
- (۳) غلط است، زیرا زرد پی به محل اتصال استخوان ها به ماهیچه ها گفته می شود.
- (۴) غلط است، زیرا بافت پیوندی محکمی که استخوان ها را در محل مفصل های متحرک به هم وصل می کند، رباط نام دارد.

۵۶- کدام یک از مخلوط های زیر تعلیقه (سوسپانسیون) نیست؟

- (۱) دوغ
- (۲) شربت خاک شیر
- (۳) آب لیمو
- (۴) خون

۵۷- علی یک حبه قند را روی شعله چراغ گاز قرار می دهد قند شروع به سوختن می کند و ذوب می شود. پس از دور کردن از شعله خاموش می شود سپس مقداری منگنز دی اکسید را به آن اضافه می کند دوباره روی شعله می گیرد و سپس آن را دور می کند کدام گزینه ی زیر در مورد اتفاقی که رخ می دهد درست بیان شده است؟

- (۱) قند خاموش می شود زیرا اکسیژن به آن نمی رسد.
- (۲) قند خاموش می شود زیرا منگنز دی اکسید کاتالیزگر نیست.
- (۳) قند می سوزد زیرا منگنز دی اکسید نقش کاتالیزگر را دارد.
- (۴) قند خاموش می شود زیرا کاتالیزگر آن خاکه گلدان می باشد.

۵۸- کدام گزینه از کاربرد های مواد پرتوزا نیست؟

- (۱) تولید انرژی
- (۲) شناسایی و درمان بیماری ها
- (۳) تشخیص آتش سوزی
- (۴) تفاوت در عدد جرمی عناصر

۵۹- ژیمناستیک کارها با تمرین کردن، کدام یک از قسمت های دستگاه عصبی خود را تقویت می کنند؟

- (۱) مخ
- (۲) پیاز مخ
- (۳) نخاع
- (۴) مخچه

۶۰- سلول کدام ماهیچه تک هسته ای، دوکی شکل است؟

- (۱) قلب
- (۲) بازو
- (۳) مردمک
- (۴) ساق پا

عربی

۶۱- همه کلمه ها با تصویر مقابل از نظر مفهوم ارتباط دارند به جز گزینه



- (۱) كُرَة
- (۲) لَاعِب
- (۳) غَالِيَة
- (۴) رِيَاظِي

۶۲- کلمات کدام گزینه هر دو با هم مترادف هستند؟

- (۱) شَاهَدٌ، رَأَى
- (۲) جَاءَ، ذَهَبَ
- (۳) بَيْعَ، شَرَاه
- (۴) حَزِينٌ، مَسْرُورٌ

۶۳- در جمله (اليوم، يوم الأحد و غداً يوم الاثنين: امروز شنبه و فردا یکشنبه است.) ترجمه چند کلمه اشتباه می باشد؟

- (۱) ۳
- (۲) ۱
- (۳) ۴
- (۴) ۲

۶۴- کدام جمله ترجمه ی آن کامل است؟

- (۱) الْفَرَسُ يَشَاهِدُ نَهْرًا وَيَشْرَبُ مِنَ الْمَاءِ: اسب از رودخانه آب می نوشد.
- (۳) لَوْنُ الثُّفَاحِ أَصْفَرٌ وَالزَّمَانُ أَحْمَرٌ: رنگ سیب زرد و قرمز است.

۶۵- ترجمه کدام جمله فقط دارای یک غلط می باشد؟

- (۱) أَنْتَ سَتَكْتُبُ رِسَالَةً لِصَدِيقِكَ: تو نامه ای به دوستت می نویسی.
- (۳) أَنْتِ فَهْمِيْنٌ مَعْنَى الْآيَاتِ السَّهْلَةِ: آیا معنی آیات سخت را فهمیدی؟

۶۶- فعل کدام گزینه به طور صحیح معنی شده است؟

- (۱) أَنَا نَجَّازٌ، أَصْنَعُ كُرْسِيًّا: من نجار هستم، صندلی را خواهم ساخت.
- (۳) أَنْتِ تَنْحَصِنُ الْمَرَضَى: تو بیماران را معاینه کردی.

۶۷- کدام جمله بر اساس واقعیت درست است؟

- (۱) عَالِمُ الْكِيْمِيَاءِ يَعْمَلُ فِي الْمَصْنَعِ
- (۳) يَغْسِلُ الْوَلَدُ وَجْهَهُ بِالْمَاءِ

۶۸- کدام پاسخ برای سوال (كَيْفَ حَالُكَ؟) مناسب نیست؟

- (۱) الْحَمْدُ لِلَّهِ
- (۲) فِي أَمَانِ اللَّهِ

۶۹- فعل کدام جمله ماضی می باشد؟

- (۱) هِيَ تَعْمَلُ فِي الْمَكْتَبَةِ
- (۲) أَكْتُبُ بِالْقَلَمِ الْأَسْوَدِ

۷۰- مفرد کدام جمع درست است؟

- (۱) رَسَائِلُ: رساله
- (۲) خَطَايَا: خطا

مطالعات اجتماعی

۷۱- رئیس قوه مجریه چه کسی است؟

- (۱) رهبر
- (۲) رئیس جمهور

۷۲- تنظیم لایحه در امور مختلف از وظایف چه نهادی می باشد؟

- (۱) دولت
- (۲) مجلس شورای اسلامی

۷۳- نظارت بر درآمدها و هزینه های دولت وظیفه ی چه نهادی است؟

- (۱) نهاد رهبری
- (۲) نهاد ریاست جمهوری

۷۴- تقسیم وظایف و مسئولیت ها در خانواده چه تأثیری بر اعضای آن خانواده دارد؟

(۱) باعث می شود هر عضوی از خانواده احساس کند که مفید است و همه کارهای خانواده بر دوش یک نفر قرار نمی گیرد.

(۲) باعث می شود اقتصاد خانواده رونق بیشتری بگیرد.

(۳) باعث می شود اعضای خانواده از یکدیگر راضی باشند و پدر و مادر خانواده استراحت کنند.

(۴) باعث می شود همه ی کارها بر دوش یک نفر قرار بگیرد و تعاون از بین برود.

۷۵- موقوفات چگونه باید مورد استفاده قرار بگیرند؟

(۱) دولت اسلامی تعیین می کند که چگونه از موقوفات استفاده شود.

(۲) همه ی مردم حق تصرف در موقوفات را دارند.

(۳) هیچ کس حق تصرف در موقوفات را ندارد مگر اینکه امام یا مرجع تقلید معین کند که در چه راهی مصرف شوند.

(۴) موقوفات باید به همان صورت که واقف معین نموده است استفاده شوند.

۷۶- کدام جمله درباره ی ارتباط درست نمی باشد؟

(۱) ارتباط برقرار کردن از نیازهای مهم بشر است و بدون ارتباط ما نمی توانیم زندگی کنیم.

(۲) ارتباط انسان ها را قادر می کند تا خواسته ها و نیازهای خود را به دیگران منتقل کنند.

(۳) اولین تحول مهم در ارتباطات اختراع تلفن توسط «گراهام بل» بود که توانست ارتباط با راه های دور را برقرار کند.

(۴) محبت کردن، تبادل افکار و اطلاعات و حل کردن مسایل از طریق ارتباط بین انسان ها میسر می شود.

- (۲) هِيَ تُحِبُّ طَبَّ الْعَيُونِ: او چشم پزشکی را دوست دارد.
- (۴) أَنْتَ سَتَغْرُقُ فِي الْبَحْرِ: تو در دریا غرق می شوی.

- (۲) تِلْكَ الْمَرْأَةُ تَنْفَعُ الْأُسْرَتَهَا: آن زن به اسیران سود رساند.
- (۴) هُنَّ وَصَلْنَ إِلَى عُرْفَتِهِنَّ: شما به اتاقتان نرسیدید.

- (۲) هَذَا الْوَلَدُ لَيَجِبُ سَيَّارَتَهُ: این پسر با ماشینش بازی می کند.
- (۴) أَلْتَعْرِفُ اللَّغَةَ الْعَرَبِيَّةَ؟: آیا زبان عربی را می دانی؟

- (۲) الْحَرَارَةُ شَدِيدَةٌ فِي فَصْلِ الشِّتَاءِ
- (۴) النَّظَرُ فِي الْمُصْحَفِ عِبَادَةٌ

- (۳) شَكَرًا
- (۴) أَنَا بَخِيرٌ

- (۳) إِشْتَرَيْتُ جَوَازًا جَمِيلًا
- (۴) نَحْنُ نَعِيشُ مَعَ الْإِنْسَانِ

- (۳) شُهَدَاءُ: شاهد
- (۴) أَسْبُوعٌ: سبعة

- (۳) رئیس مجلس شورای اسلامی
- (۴) وزیر کشور

- (۳) مجلس خبرگان رهبری
- (۴) شورای نگهبان

- (۳) مجلس شورای اسلامی
- (۴) مجلس خبرگان

۷۷- صحیح و غلط بودن جمله زیر را مشخص کنید.

«امام حسین (ع) پس از دریافت نامه ی مسلم عازم کوفه شد.»

- (۱) صحیح است، زیرا مردم کوفه با نوشتن نامه های فراوان پشتیبانی خود را از امام حسین اعلام کرده بودند.
 (۲) صحیح است، زیرا پس از ورود مسلم به کوفه هزاران نفر با مسلم به نمایندگی از امام حسین بیعت کردند.
 (۳) غلط است، زیرا امام حسین (ع) به نامه های مردم کوفه اعتنایی نکرد.
 (۴) غلط است، زیرا امام حسین به دلیل اینکه مسلم در نامه خود اوضاع کوفه را خبر داده بود از رفتن به کوفه صرف نظر کرد و راه کربلا را در پیش گرفت.

سه سؤال زیر دارای ۴ گزینه می باشد پاسخ صحیح هر سؤال را پیدا کرده و در پاسخ برگ وارد نمایید.

۷۸- کانون سواد آموزی و فراگیری علم و دانش براساس کدام یک از اقدامات رسول خدا (ص) در مدینه ایجاد شد.

۷۹- کدام یک از اقدامات پیامبر (ص) گامی در جهت ایجاد امت (جامعه) اسلامی شد؟

۸۰- اعلام رسمی حکومت اسلامی به رهبری پیامبر در شهر مدینه در پی کدام اقدام آن حضرت بود؟

- | | |
|------------------|-----------------------------------|
| (۱) واقعه ی غدیر | (۲) پیمان نامه ی سیاسی |
| (۳) تأسیس مسجد | (۴) پیمان برادری به جای تعصب قومی |

زبان انگلیسی

81- A: do you like it in Iran ? B: It's very great.

- 1) What 2) How 3) Who 4) Which

82- Europe is the name of a

- 1) country 2) nationality 3) continent 4) language

83- Ali and Reza a little persian

- 1) speak 2) live 3) drink 4) meet

84- A: Where is he from? He is from

- 1) Chinese 2) England 3) British 4) Iranian

85- Which sound is different ?

- 1) chair 2) watch 3) school 4) china

86- Which word is different?

- 1) afternoon 2) night 3) noon 4) week

87- A: When do you go to school ? B:

- 1) Every Friday 2) Every Weekday 3) Every Thursday 4) Every Weekend

88- My family relatives every day.

- 1) play 2) watch 3) visit 4) relax

89- Zagros is a(n) in Iran .

- 1) mountain 2) country 3) address 4) garden

90- A: I'm not good at English . Can you help me?

B:

- 1) Thank you 2) Sure 3) Fine 4) Bye