

باسمه تعالی
جمهوری اسلامی ایران
وزارت آموزش و پرورش
اداره کل آموزش و پرورش خراسان رضوی

دفترچه سؤالات آزمون پیشرفت تحصیلی

[دوره اول متوسطه]

مرحله اول سال تحصیلی ۹۸-۱۳۹۷ (۹۷/۹/۲۰)

پایه هشتم (نوبت عصر)

کد دفترچه : ۵

کد داوطلبی :

نام و نام خانوادگی :

تعداد سؤال :	۷۵ سؤال	ساعت شروع :	۱۳:۰۰ عصر
مدت پاسخ‌گویی:	۹۰ دقیقه	ساعت پایان :	۱۴:۳۰ عصر

ردیف	عنوان درس	تعداد	از	تا
۱	قرآن	۵	۱	۵
۲	پیام‌هاک آسمان	۷	۶	۱۲
۳	عربی	۸	۱۳	۲۰
۴	ریاضی	۱۵	۲۱	۳۵
۵	فارسی	۱۵	۳۶	۵۰
۶	علوم تجربی	۱۵	۵۱	۶۵
۷	مطالعات اجتماعی	۱۰	۶۶	۷۵

۷ به پاسخ‌های نادرست، نمره منفی تعلق نمی‌گیرد.
۷ استفاده از ماشین حساب، مجاز نیست.

توجه :

نام درس: قرآن	تعداد سؤال: ۵
----------------------	----------------------

- ۱- معنای کدام کلمه قرآنی درست است؟
 (۱) مَعَ: از (۲) تَتَّقُونَ: تقوا پیشه کنید (۳) زَوْج: ارزشمند (۴) ظَهْر: پاك کننده
- ۲- کدام ترکیب قرآنی درست معنا شده است؟
 (۱) نَجَعَلَهُمُ الْوَارِثِينَ: قرار داد آنها را جانشین (۲) لِقَوْمٍ يَشْكُرُونَ: برای گروهی که شکر می کنند.
 (۳) شَرِيكَ فِي الْمُلْكِ: همتایی در جهان (۴) وَإِلَى اللَّهِ الْمَصِيرُ: و از سوی خداست پاداش
- ۳- کدام گزینه ترجمه آیه زیر را کامل می کند؟

وَ أَدْخِلْنِي بِرَحْمَتِكَ فِي عِبَادِكَ الصَّالِحِينَ: و وارد کن مرا به کمک ... خودت در گروه ... شایسته ات.

- (۱) لطف/بندگان (۲) رحمت/بنده (۳) لطف/نیکوکاران (۴) فضل/بنده ات
- ۴- با تدبیر در آیه « وَإِنَّ رَبَّكَ لَهُوَ الْعَزِيزُ الرَّحِيمُ » به کدام صفات خدا پی می برید؟
 (۱) قدرت/عزت (۲) بی همتا/مهربان (۳) شکست ناپذیر/مهربان (۴) فرمانروا/بخشنده
- ۵- کدام ترجمه صحیح است؟
 (۱) الَّتِي أَنْعَمْتَ عَلَيَّ وَعَلَى وَالِدَتِي: که نعمت دادی بر من و بر پدر و مادرم.
 (۲) تَعَالَى اللَّهُ عَمَّا يُشْرِكُونَ: منزه است خدا از آنچه شریک قرار می دهد.
 (۳) تَتْلُوا عَلَيْكَ مِنْ نَبَأِ مُوسَى: خواندیم بر تو از داستان موسی.
 (۴) وَهُوَ الَّذِي جَعَلَ لَكُمُ اللَّيْلَ لِيَأْسَ: و او کسی است که قرار داد شب را آرامش.

نام درس: پیام های آسمان	تعداد سؤال: ۷
--------------------------------	----------------------

- ۶- در آیه « قُلْ يَا عِبَادِيَ الَّذِينَ أَسْرَفُوا عَلَىٰ أَنفُسِهِمْ لَا تَقْنَطُوا مِن رَّحْمَةِ اللَّهِ » خداوند انسان را به چه امری سفارشی می کند؟
 (۱) گناهان بزرگ و کوچک را ترک کنید (۲) از وعده های شیطان دوری کنید
 (۳) از لطف و بخشش خداوند نا امید نشوید (۴) خطای دیگران را نادیده بگیرید.
- ۷- نتیجه عفو و گذشت از نظر پیامبر اکرم (ص) چیست؟
 (۱) خشنودی خداوند (۲) عزیز و سرافرازی (۳) آمرزش الهی (۴) اصلاح رفتار خطاکار
- ۸- لطف و بخشش خداوند برای قدردانی از تلاش بهشتیان در کدام بیت زیر مشاهده می شود؟
 (۱) هرآن کس که بنمود کار نکو / همی ده برابر شود اجر او (۲) به غیر از محبت به غیر از سلام / در آنجا نباشد سخن یا کلام
 (۳) در آن روز نزد خدای جلیل / گروهی رفیعند و جمعی ذلیل (۴) زمین و سماوات از آن اوست / همه ملک گیتی به فرمان اوست
- ۹- کدام شخصیت زیر به حدیث ثقلین به طور کامل، عمل نموده است؟
 (۱) سجاد با ذکر سبحان الله نعمت های بهشتی را برای خود ذخیره می کند.
 (۲) فرشته با دقت در نظم جهان آفرینش، درس خداشناسی می گیرد.
 (۳) مریم علاوه بر تدبیر در قرآن، از رفتار ائمه اطهار نیز الگو می گیرد.
 (۴) علی طبق سفارش امام صادق (ع)، برای اقامه نماز به مسجد محله می رود.
- ۱۰- بر اساس آیه زیر، در چه روزی دین اسلام کامل و نعمت بر مردم تمام شد؟

الْيَوْمَ أَكْمَلْتُ لَكُمْ دِينَكُمْ وَأَتَمَمْتُ عَلَيْكُمْ نِعْمَتِي

 (۱) هجرت پیامبر (ص) (۲) مبعث رسول اکرم (ص)
 (۳) عید قربان (۴) عید غدیر
- ۱۱- آداب یا احکام واجب نماز در کدام گزینه به درستی اشاره شده است؟
 (۱) تمیز بودن لباس نمازگزار: « احکام واجب نماز »
 (۲) غصبی نبودن مکان نمازگزار: « احکام واجب نماز »
 (۳) پاک بودن بدن نمازگزار: « آداب نماز »
 (۴) پرپایی نماز به جماعت: « احکام واجب نماز »

۱۲- نماز کدامیک از نمازگزاران زیر باطل است؟

- (۱) بعد از خواندن نماز، متوجه نجس بودن بدنش می‌شود.
 (۲) مقداری موی گربه روی لباس نمازگزار است.
 (۳) با کمربندی از چرم گاو نماز می‌خواند.
 (۴) لباس نمازگزار با خون کمتر از یک سکه نجس شده است.

نام درس :	عربی	تعداد سؤال:	۸
-----------	------	-------------	---

۱۳- ترجمه کلمات مشخص شده در عبات «لِمَاذَا تَعْمَلُ مَعَ صَدِيقِكَ فِي الْمَصْنَعِ؟ لِحِدْمَةِ بِلَادِنَا» به ترتیب در کدام گزینه آمده است؟

- (۱) کارکردید/ وطن (۲) می‌سازی/ کشور (۳) ساختید/ وطن (۴) کاری‌کنی/ کشور

۱۴- کدام گزینه با ارتباط معنایی کلمات «خَلْفٌ، وَرَاءٌ» ناهماهنگ است؟

- (۱) جمیل، قَبِيح (۲) اُمٌّ، وَالِدَةٌ (۳) بَيْتٌ، مَنْزِلٌ (۴) عُدْوَانٌ، عِدَاوَةٌ

۱۵- ترجمه کدام جمله صحیح است؟

- (۱) الطَّبِيبُ فَحَصَ الْمَرَضِيَّ يَدَقَّةً. پزشك بیمار را به دقت معاینه کرد.
 (۲) كُلُّ وَاحِدٍ مِنَّا بِحَاجَةٍ إِلَى الْأَخْرَيْنِ. هر کدام از ما به دیگران نیازمندیم.
 (۳) الْعِلْمُ أَفْضَلُ مِنَ الْعِبَادَةِ. برترین عبادت، علم آموزی است.
 (۴) الْإِيرَانِيُونَ حَدَمُوا اللُّغَةَ الْعَرَبِيَّةَ كَثِيرًا. ایرانیان به زبان عربی بسیار احترام می‌گذارند.

۱۶- با توجه به متن «أَنَا أَحِبُّ الزَّرَاعَةَ كَثِيرًا. لِأَنَّ الزَّرَاعَةَ عَمَلٌ مُهِمٌّ لِتَقْدِيمِ الْبِلَادِ.»، کدام گزینه پاسخ سوال «ما هُوَ مِهْنَتِي؟» می‌باشد؟

- (۱) خَبَّاز (۲) حَلَوَاتِي (۳) فَلَاح (۴) مُمَرِّضٌ

۱۷- بیت «تا توانی می‌گریز از یار بد/ یار بد بدتر بود از مار بد» با کدام حکمت زیر ارتباط دارد؟

- (۱) مَنْ كَتَمَ عِلْمًا، فَكَأَنَّهُ جَاهِلٌ.
 (۲) سَلَامَةُ الْعَيْشِ فِي الْمُدَارَاةِ.
 (۳) الْإِنْسَانُ بَعْقَلِيهِ.
 (۴) الْوَحْدَةُ خَيْرٌ مِنْ جَلِيسِ السُّوءِ.

۱۸- در کدام گزینه «فعل مستقبل» به کار رفته است؟

- (۱) عَدَدُ أَيَّامِ الْأُسْبُوعِ سَبْعَةٌ.
 (۲) سَأَصِيرُ مُدْرَسَةَ الْكِيمِيَاءِ.
 (۳) الْمُسْلِمُ مَنْ سَلِمَ النَّاسُ مِنْ لِسَانِهِ.
 (۴) مَنْ سَأَلَ، عَلِمَ.

۱۹- ضمیر و فعل کدام جمله با یکدیگر متناسب است؟

- (۱) أَنْتَ تَعْرِفُ أُخِي.
 (۲) أَنَا عَسَلْتُ فُسْتَانِي.
 (۳) أَنْتِ أَسْأَلُ سُؤَالَ.
 (۴) هُنَّ كَتَبُوا دُرُوسَهُنَّ.

۲۰- کدام پرسش و پاسخ، مناسب تصویر مقابل است؟



- (۱) مَنْ هُوَ لَاعِبٌ؟ هُوَ لَاعِبَانِ
 (۲) هَلْ أَنْتُمْ جَالِسُونَ؟ نَعَمْ
 (۳) كَمَ لَاعِبًا فِي الصُّورَةِ؟ أَرْبَعَةٌ
 (۴) فِي أَيِّ رِيَاضَةٍ مُتَازُونَ؟ كُرَةَ الْقَدَمِ

نام درس :	ریاضی	تعداد سؤال:	۱۵
-----------	-------	-------------	----

۲۱- حاصل $4 \times 2 - 3$ برابر است با:

- (۱) -۲ (۲) +۵ (۳) -۵ (۴) +۲

۲۲- قرینه‌ی $1 - \frac{2}{5}$ برابر است با:

- (۱) $1 - \frac{5}{2}$ (۲) $\frac{5}{7}$ (۳) $\frac{7}{5}$ (۴) $-\frac{7}{5}$

۲۳- در عبارت $-\frac{3}{y} = -\frac{12}{x}$ مقدار x کدام گزینه است؟

- (۱) -۲۸ (۲) +۲۸ (۳) -۲۱ (۴) +۲۱

۲۴- کدام مقایسه درست است؟

- (۱) $-\frac{3}{6} > -\frac{1}{5}$ (۲) $\frac{3}{5} < 0/25$ (۳) $-\frac{1}{7} = +\frac{1}{7}$ (۴) $-\frac{1}{7} > -\frac{11}{5}$

۲۵- حاصل $91/91 + (-8/0.1) - 17/93$ به صورت تقریبی به کدام گزینه نزدیک تر است؟

- (۱) +۳ (۲) -۱۲ (۳) +۴ (۴) -۱۱

۲۶- حاصل عبارت $4\frac{1}{5} - 2\frac{1}{2}$ برابر است با:

- (۱) $-\frac{2}{10}$ (۲) $-\frac{67}{10}$ (۳) $-\frac{7}{10}$ (۴) $-\frac{26}{10}$

۲۷- کدام گزینه را می توان در \square مقابل قرار داد؟

$$-2\frac{1}{2} \times \square = 1$$

- (۱) $\frac{2}{5}$ (۲) $-\frac{2}{5}$ (۳) $\frac{1}{4}$ (۴) $-\frac{1}{4}$

۲۸- حاصل عبارت $(-\frac{25}{6} \div \frac{10}{3}) \times \frac{8}{5}$ برابر کدام گزینه است؟

- (۱) -۲ (۲) $-\frac{1}{2}$ (۳) $+\frac{5}{4}$ (۴) -۴

۲۹- کدام گزینه نادرست است؟

- (۱) هر عدد طبیعی و بزرگتر از یک، که هیچ شمارنده طبیعی به جز خودش و یک نداشته باشد، عدد اول نامیده می شود.
 (۲) عددهای طبیعی را می توان به سه بخش تقسیم کرد: عددهای اول، عددهای مرکب و عدد یک
 (۳) هر عدد طبیعی را که بتوانیم به صورت ضرب دو عدد طبیعی بزرگتر از یک بنویسیم، مرکب است.
 (۴) هر عدد طبیعی دست کم، دو شمارنده دارد.

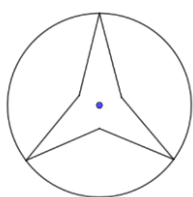
۳۰- در کدام گزینه دو عدد داده شده، نسبت به هم اول هستند؟

- (۱) ۱۴ و ۱۵ (۲) ۳ و ۶ (۳) ۵ و ۵ (۴) ۱۵ و ۱۸

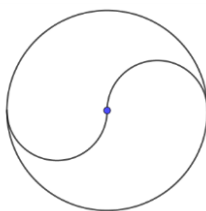
۳۱- در غربال اعداد ۱ تا ۵۰، در مرحله حذف مضارب ۵ کدام یک از گزینه های زیر برای اولین بار خط می خورد؟

- (۱) ۱۵ (۲) ۳۵ (۳) ۱۰ (۴) ۴۵

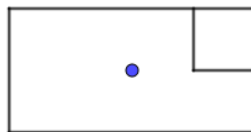
۳۲- در کدام شکل زیر نقطه مشخص شده مرکز تقارن شکل است؟



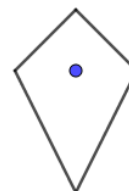
(۴)



(۳)



(۲)

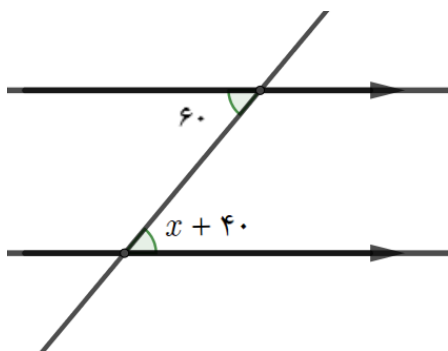


(۱)

۳۳- کدام یک از شکل های زیر ۴ محور تقارن دارد؟

- (۱) مستطیل (۲) شش ضلعی منتظم (۳) لوزی (۴) مربع

۳۴- با توجه به شکل مقدار x را بیابید.



- (۱) ۲۰
- (۲) ۳۰
- (۳) ۴۰
- (۴) ۶۰

۳۵- از دو عبارت $a \perp c$ و $a \perp b$ کدام یک از گزینه‌های زیر را می‌توان نتیجه گرفت؟

- (۱) $b \perp c$
- (۲) $a \parallel b$
- (۳) $b \parallel c$
- (۴) $a \parallel c$

نام درس:	فارسی	تعداد سؤال:	۱۵
----------	-------	-------------	----

۳۶- معنای واژه «تبار» در عبارت «تو از تبار ایرانیان نژاده و آزاده هستی» در کدام گزینه آمده است؟

- (۱) پیک
- (۲) اصل
- (۳) نجیب
- (۴) پاک

۳۷- همه واژه‌های مشخص شده، نادرست معنی شده‌اند به جز گزینه‌ی

- (۱) سالیان دراز می‌توانید پیروز و ظفرمند به سر برید. (ظفرمند: فاتح)
- (۲) زندگی کردن به یادگیری اصول و روش‌هایی نیاز دارد (اصول: شیوه‌ها)
- (۳) در سخن گفتن نیز باید اول، دل، پاک باشد و نیت درست باشد (نیت: لحن کلام)
- (۴) گویی ابزاری شده‌اند تا ما را از هویت اصلی خویش دور سازند. (هویت: قصد)

۳۸- کدام گزینه نادرستی املائی دارد؟

- (۱) عرض کرد: «آری، به قدر می‌گویم و بی‌موقع نمی‌گویم»
- (۲) از فرصت‌هایتان استفاده کنید تا پیروزی نصیب شما گردد.
- (۳) گودالی دید در آن خانه؛ چنان‌که جولاهاگان را باشد.
- (۴) میهن شکوهمند ما، این خاستگاه بخردان و دانایان.

۳۹- در کدام گزینه غلط املائی وجود دارد؟ (تشدید جزو غلط املائی به‌شمار نمی‌رود)

- (۱) بهلول گفت: این‌ها که تو گفتی همه فرع است و اصل آن است که لقمه حلال باید
- (۲) در آداب خواب اصل این است که در دل تو بغض و کینه و حسد مسلمانان نباشد.
- (۳) سفر زندگی، برای عده‌ای پر فراز و نشیب است.
- (۴) بهلول برخاست و فرمود: تو می‌خواهی مرشد خلق باشی.

۴۰- آثار زیر از قیصر امین‌پور است به جز گزینه ...

- (۱) در کوچه آفتاب
- (۲) تنفس صبح
- (۳) از آسمان سبز
- (۴) آینه‌های ناگهان

۴۱- با توجه به بیت مقابل کدام گزینه درست نیست؟ «می‌باش به عمر خود سحرخیز / وز خواب سحرگهان بپرهیز»

- (۱) سحرخیز و بپرهیز، قافیه‌اند
- (۲) خواب، متمم است
- (۳) عمرخود، ترکیب وصفی است
- (۴) بپرهیز، فعل امری است

۴۲- هسته گروه اسمی زیر کدام گزینه است؟ «آن رزمنده وارسته ایران اسلامی»

- (۱) رزمنده
- (۲) وارسته
- (۳) ایران
- (۴) اسلامی

۴۳- «مشبه‌به» در عبارت «دم کشیده‌اش گویی بادبان کشتی است که ناخدا آن را برافراشته است» کدام است؟

- (۱) برافراشتن
- (۲) بادبان
- (۳) دم کشیده
- (۴) ناخدا

۴۴- کدام گزینه درباره عبارت مقابل درست است؟ «تو از آن آزاداندیشانی هستی که پایدار و نستوه، استوار چون کوه می‌کوشند»

- (۱) آرایه «تشبیه» دارد و همه ارکان تشبیه در آن وجود دارد.
- (۲) آرایه «تشبیه» دارد، اما مشبه و وجه شبه آن حذف شده است.
- (۳) آرایه «تکرار» و «تشبیه» دارد.
- (۴) در این عبارت، دو تشبیه به‌کار رفته است.

۴۵- کدام گزینه از نظر معنایی با دیگر گزینه‌ها متفاوت است؟

- ۱) گفتم که روی خوبت از من چرا نهان است/ گفتا: تو خود حجایی، ورنه رُخم عیان است
- ۲) دوست نزدیک‌تر از من به من است/ وین عجب‌تر که من از وی دورم
- ۳) دوستی از من به من نزدیک‌تر/ از رگ گردن به من نزدیک‌تر
- ۴) چه کنم با که توان گفت که دوست/ در کنار من و من مهجورم

۴۶- همهٔ گزینه‌ها دربردارندهٔ مفهوم بیت زیر است به جز گزینهٔ...

«ده روز مهر گردون افسانه است و افسون/ نیکی به جای یاران فرصت شمار یارا»

- ۱) کوتاه بودن عمر
- ۲) غنیمت شمردن فرصت
- ۳) گردش روزگار
- ۴) نیکی کردن به دوستان

۴۷- در حکایت «همدلی» فرمانروا، رمز موفقیت و پیروزی فرزندانش را چه می‌دانست؟

- ۱) اتحاد و یاری یکدیگر
- ۲) قدرت زیاد
- ۳) زورآزمایی
- ۴) غلبه بر دشمن

۴۸- عبارت مقابل یادآور کدام ضرب‌المثل است؟ «سنگ شکافته شد و از قلب او چشمهٔ پاک و زلالی جوشید»

- ۱) سنگ تمام گذاشتن
- ۲) قند توی دل آب شدن
- ۳) آب آبادانی می‌آورد
- ۴) از محبت خارها گل می‌شود

۴۹- کدام گزینه با مفهوم مصراع زیر در تضاد است؟

«زنهار مگو سخن به جز راست»

- ۱) راستی کن که راستان رستند
- ۲) جز راست نباید گفت
- ۳) هر راست نشاید گفت
- ۴) راستی موجب رضای خداست

۵۰- این عبارت با کدام گزینه کامل می‌شود؟

«ای فرزندم! مرا کمترین گمانی در آن نیست که تو ایران را دوست می‌داری؛ لیک دوست داشتن، بسنده نیست» زیرا ...

- ۱) سرزمینی است که ما بدان می‌نازیم و سر از همگان بر می‌افزاییم.
- ۲) ایران را می‌باید شناخت تا بتوان آن را بدان سان که شایسته است و سزاوار، به دیگران شناساند.
- ۳) تویی که بر فر ایران خواهی افزود و آیندهٔ ایران را درخشان خواهی ساخت.
- ۴) در این روزگار، چشم و چراغ ایرانی و در جهان گرمی‌ترینی.

۱۵

تعداد سؤال:

علوم تجربی

نام درس:

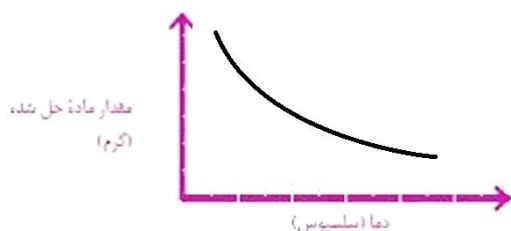
۵۱- همان گونه که می‌دانید هر محلول حداقل از دو جزء حلال و حل شونده تشکیل شده است. در بادکنک پر از هوا، حلال کدام است؟



بادکنک پر از هوا

- ۱) گاز اکسیژن
- ۲) گاز نیتروژن
- ۳) گاز کربن دی‌اکسید
- ۴) بخار آب

۵۲- انحلال‌پذیری (حل شدن) کدام ماده در آب با نمودار زیر هم‌خوانی دارد؟



- ۱) کاتکبود
- ۲) اکسیژن
- ۳) پتاسیم نیترات
- ۴) نمک خوراکی

۵۳- کدام دستگاه، اجزای یک مخلوط را بر اساس اختلاف نقطه جوش از هم جدا می‌کند؟

- ۱) دیالیز
- ۲) تصفیه آب
- ۳) کمباین (خرمن کوب)
- ۴) تقطیر

۵۴- کدام یک تغییر شیمیایی نیست؟

- ۱) انداختن میخ آهنی در محلول کاتکبود
- ۲) آزمایش کوه آتشفشان
- ۳) جوشیدن آب
- ۴) انداختن تخم‌مرغ در سرکه

۵۵- در واکنش سوختن شمع کدام ماده یا مواد، واکنش دهنده (ها) نامیده می شوند؟

گرما و نور + بخار آب + گاز کربن دی اکسید → گاز اکسیژن + شمع (هیدروکربن)

(۱) گاز اکسیژن و بخار آب (۲) بخار آب و کربن دی اکسید (۳) هیدروکربن و گاز اکسیژن (۴) شمع

۵۶- در واکنش تجزیه آب اکسیژنه، علاوه بر آب، گاز اکسیژن آزاد می شود. راه شناسایی گاز اکسیژن در آزمایشگاه در کدام گزینه به درستی بیان شده است؟

- (۱) خاموش شدن کبریت افروخته
 (۲) دمیدن گاز اکسیژن روی زغال نیمه افروخته و شعله ور شدن آن
 (۳) شیری رنگ شدن محلول آب آهک در اثر ترکیب با اکسیژن
 (۴) تغییر رنگ آب اکسیژنه در اثر ترکیب با اکسیژن

۵۷- بر اساس اطلاعات جدول، کدام ذره یک یون مثبت است؟

ذره A	p پروتون	n نوترون	e الکترون
ذره A	۶	۸	۶
ذره B	۱۷	۱۸	۱۸
ذره C	۱۱	۱۲	۱۰
ذره D	۸	۸	۸

(۱) A (۲) B (۳) C (۴) D

۵۸- اگر مدل بور را برای اتم های C، He، N و Be رسم نماییم، کدام اتم در لایه دوم خود، دو الکترون دارد؟

(۱) کربن (۲) هلیوم (۳) نیتروژن (۴) بریلیم

۵۹- مرکز کنترل فعالیت های غیرارادی مانند تنفس و ضربان قلب کدام بخش از دستگاه عصبی است؟

(۱) مخ (۲) مخچه (۳) نخاع (۴) بصل النخاع

۶۰- جاهای خالی در متن زیر به کمک کدام اصطلاحات علمی به درستی تکمیل می شود.

"به دارینه ها و آسه های بلند، الف گفته می شود. مجموعه آن ها در کنار هم که توسط غلافی احاطه شده اند، ب را تشکیل می دهند."

(۱) الف: تار عصبی ب: عصب (۲) الف: سلول عصبی (نورون) ب: عصب
 (۳) الف: عصب ب: تار عصبی (۴) الف: تار عصبی ب: سلول عصبی (نورون)

۶۱- گیرنده های صوتی در کدام بخش از گوش قرار دارند؟

(۱) گوش میانی (۲) بخش حلزونی گوش داخلی (۳) گوش خارجی (۴) مجاری نیم دایره گوش داخلی

۶۲- من چه بخشی از دستگاه حرکتی شما هستم؟

"بافت پیوندی محکمی هستیم که استخوان ها را در محل مفصل های متحرک به هم وصل می کنیم."
 (۱) زردپی (تاندون) (۲) غضروف (۳) رباط (۴) ماهیچه

۶۳- ماهیچه ای با ویژگی های زیر در کجای بدن ما، دیده می شود؟

نوع ماهیچه	عمل	رنگ
صاف	غیرارادی	سفید

(۱) قلب (۲) دیواره لوله گوارش (۳) سه سر بازو (۴) چهار سر ران

۶۴- در ماده ی زمینه ای استخوان، کدام مواد معدنی فراوان می باشند؟

(۱) کلسیم و فسفر (۲) رشته های پروتئینی
 (۳) کلسیم و آهن (۴) فسفر و منیزیم

۶۵- تنظیم دستگاه های بدن انسان، به چه صورت یا صورت هایی انجام می شود؟

(۱) عصبی (۲) عصبی و شیمیایی (۳) شیمیایی (۴) حرکتی و عصبی

نام درس :	مطالعات اجتماعی		تعداد سؤال: ۱۰
۶۶- همدلی و همکاری بین افراد یک محله ، علاوه بر ایجاد صمیمیت و همبستگی ، چه تأثیر دیگری دارد ؟	(۱) افزایش دوستی‌ها	(۲) اتحاد بین مردم	(۳) انجام بهتر کارها
(۴) محبت بیشتر بین مردم			
۶۷- سازمان‌های مردم‌نهاد برای فعالیت‌های خود از کجا مجوز می‌گیرند ؟	(۱) بیمه مرکزی	(۲) وزارت کشور	(۳) نهاد رهبری
(۴) مجلس			
۶۸- عالی‌ترین مقام رسمی کشور ، چه کسی است ؟	(۱) رئیس‌جمهور	(۲) نمایندگان مجلس	(۳) رئیس قوه قضاییه
(۴) رهبر			
۶۹- نمایندگان مجلس ، قدرت « استیضاح » چه کسانی را دارند ؟	(۱) وزرای دولت	(۲) اعضای شورای نگهبان	(۳) رئیس قوه قضاییه
(۴) نمایندگان مجلس خبرگان			
۷۰- نوجوانی چه گروه سنی را در بر می‌گیرد ؟	(۱) ۱۰ تا ۱۸ سالگی	(۲) ۱۲ تا ۱۶ سالگی	(۳) ۱۲ تا ۱۸ سالگی
(۴) ۱۰ تا ۱۶ سالگی			
۷۱- اولین کسی که باید از نوجوان در برابر آسیب‌ها و تهدیدات ، محافظت کند، کیست ؟	(۱) پلیس و قانون	(۲) اعضاء خانواده	(۳) مدرسه
(۴) خود نوجوان			
۷۲- کدام‌یک از رسانه‌های زیر <u>با توجه به نوع آن</u> ، با دیگر رسانه‌ها فرق می‌کند ؟	(۱) تلفن	(۲) علائم	(۳) اینترنت
(۴) رادیو			
۷۳- « پرداخت قبوض و ثبت‌نام در کنکور » جزء کدام‌یک از کاربردهای فناوری در زندگی روزمره ما است ؟	(۱) شرکت در فعالیت علمی	(۲) ارتباط سریع با دیگران	(۳) مکاتبه
(۴) بهره‌گیری از خدمات دولت الکترونیک			
۷۴- « عصر جاهلیت » ، به چه دوره‌ای در تاریخ عربستان ، گفته می‌شود ؟	(۱) اوضاع اجتماعی و فرهنگی مردم بعد از فوت پیامبر	(۲) اوضاع اقتصادی و سیاسی مردم قبل از بعث	(۳) اوضاع اجتماعی و فرهنگی مردم قبل از بعثت
(۴) اوضاع اقتصادی و سیاسی مردم بعد از فوت پیامبر			
۷۵- چه رویدادی در « سقیفه بنی ساعده » ، رخ داد ؟	(۱) تعیین ابوبکر به خلافت	(۲) مخالفت عمر با مهاجرین	(۳) تعیین عمر به خلافت
(۴) مخالفت ابوبکر با مهاجرین			

عنوان دفترچه	شماره سؤال	کد و نام درس	موضوع سؤال	گزینه صحیح	اصلاح کلید/ توضیح
(۵) پایه هشتم (نوبت عصر)	1	۲۲۶۰۱ - قرآن	ترجمه کلمه	4	
(۵) پایه هشتم (نوبت عصر)	2	۲۲۶۰۱ - قرآن	ترجمه ترکیب	2	
(۵) پایه هشتم (نوبت عصر)	3	۲۲۶۰۱ - قرآن	ترجمه آیه	1	
(۵) پایه هشتم (نوبت عصر)	4	۲۲۶۰۱ - قرآن	تدبیر در آیه	3	
(۵) پایه هشتم (نوبت عصر)	5	۲۲۶۰۱ - قرآن	ترجمه آیه	1	
(۵) پایه هشتم (نوبت عصر)	6	۲۲۶۰۲ - پیامهای آسمان	مفهوم آیه	3	
(۵) پایه هشتم (نوبت عصر)	7	۲۲۶۰۲ - پیامهای آسمان	نتیجه عفو و گذشت	2	
(۵) پایه هشتم (نوبت عصر)	8	۲۲۶۰۲ - پیامهای آسمان	پاداش بهشتیان	1	
(۵) پایه هشتم (نوبت عصر)	9	۲۲۶۰۲ - پیامهای آسمان	مفهوم حدیث ثقلین	3	
(۵) پایه هشتم (نوبت عصر)	10	۲۲۶۰۲ - پیامهای آسمان		4	
(۵) پایه هشتم (نوبت عصر)	11	۲۲۶۰۲ - پیامهای آسمان	آداب و احکام نماز	2	
(۵) پایه هشتم (نوبت عصر)	12	۲۲۶۰۲ - پیامهای آسمان	احکام نماز	2	
(۵) پایه هشتم (نوبت عصر)	13	۲۲۶۰۷ - عربی	واژه	4	
(۵) پایه هشتم (نوبت عصر)	14	۲۲۶۰۷ - عربی	مترادف و متضاد	1	
(۵) پایه هشتم (نوبت عصر)	15	۲۲۶۰۷ - عربی	ترجمه	2	
(۵) پایه هشتم (نوبت عصر)	16	۲۲۶۰۷ - عربی	پرسش و پاسخ	3	
(۵) پایه هشتم (نوبت عصر)	17	۲۲۶۰۷ - عربی	درک مطلب	4	
(۵) پایه هشتم (نوبت عصر)	18	۲۲۶۰۷ - عربی	شناخت فعل مستقبل	2	
(۵) پایه هشتم (نوبت عصر)	19	۲۲۶۰۷ - عربی	شناخت فعل و ضمیر	1	
(۵) پایه هشتم (نوبت عصر)	20	۲۲۶۰۷ - عربی	درک و فهم	4	
(۵) پایه هشتم (نوبت عصر)	21	۲۲۶۱۰ - ریاضی	اعمال روی اعداد صحیح	3	
(۵) پایه هشتم (نوبت عصر)	22	۲۲۶۱۰ - ریاضی	قرینه عبارت های گویا	3	
(۵) پایه هشتم (نوبت عصر)	23	۲۲۶۱۰ - ریاضی	کسرهای مساوی	2	
(۵) پایه هشتم (نوبت عصر)	24	۲۲۶۱۰ - ریاضی	مقایسه اعداد گویا	4	
(۵) پایه هشتم (نوبت عصر)	25	۲۲۶۱۰ - ریاضی	جمع اعداد گویا	1	
(۵) پایه هشتم (نوبت عصر)	26	۲۲۶۱۰ - ریاضی	جمع و تفریق اعداد گویا	2	
(۵) پایه هشتم (نوبت عصر)	27	۲۲۶۱۰ - ریاضی	معکوس یک عدد گویا	2	
(۵) پایه هشتم (نوبت عصر)	28	۲۲۶۱۰ - ریاضی	اعمال روی اعداد گویا	1	
(۵) پایه هشتم (نوبت عصر)	29	۲۲۶۱۰ - ریاضی	شناخت عدد اول	4	
(۵) پایه هشتم (نوبت عصر)	30	۲۲۶۱۰ - ریاضی	اعداد نسبت به هم اول	1	
(۵) پایه هشتم (نوبت عصر)	31	۲۲۶۱۰ - ریاضی	روش غربال	2	
(۵) پایه هشتم (نوبت عصر)	32	۲۲۶۱۰ - ریاضی	پیدا کردن مرکز تقارن	3	
(۵) پایه هشتم (نوبت عصر)	33	۲۲۶۱۰ - ریاضی	تعداد محورهای تقارن	4	
(۵) پایه هشتم (نوبت عصر)	34	۲۲۶۱۰ - ریاضی	زاویه های مساوی	1	
(۵) پایه هشتم (نوبت عصر)	35	۲۲۶۱۰ - ریاضی	خطوط موازی و عمود	3	
(۵) پایه هشتم (نوبت عصر)	36	۲۲۶۰۴ - فارسی	معنای واژگان	2	
(۵) پایه هشتم (نوبت عصر)	37	۲۲۶۰۴ - فارسی	معنای واژگان	1	
(۵) پایه هشتم (نوبت عصر)	38	۲۲۶۰۴ - فارسی	املاي واژگان	3	
(۵) پایه هشتم (نوبت عصر)	39	۲۲۶۰۴ - فارسی	املاي واژگان	4	
(۵) پایه هشتم (نوبت عصر)	40	۲۲۶۰۴ - فارسی	تاریخ ادبیات	3	
(۵) پایه هشتم (نوبت عصر)	41	۲۲۶۰۴ - فارسی	دستور زبان	3	
(۵) پایه هشتم (نوبت عصر)	42	۲۲۶۰۴ - فارسی	دستور زبان	1	
(۵) پایه هشتم (نوبت عصر)	43	۲۲۶۰۴ - فارسی	آرایه های ادبی	2	
(۵) پایه هشتم (نوبت عصر)	44	۲۲۶۰۴ - فارسی	آرایه های ادبی	1	
(۵) پایه هشتم (نوبت عصر)	45	۲۲۶۰۴ - فارسی	درک و دریافت متن	3	
(۵) پایه هشتم (نوبت عصر)	46	۲۲۶۰۴ - فارسی	درک و دریافت متن	4	
(۵) پایه هشتم (نوبت عصر)	47	۲۲۶۰۴ - فارسی	درک و دریافت متن	1	
(۵) پایه هشتم (نوبت عصر)	48	۲۲۶۰۴ - فارسی	درک و دریافت متن	4	
(۵) پایه هشتم (نوبت عصر)	49	۲۲۶۰۴ - فارسی	درک و دریافت متن	3	
(۵) پایه هشتم (نوبت عصر)	50	۲۲۶۰۴ - فارسی	درک و دریافت متن	2	
(۵) پایه هشتم (نوبت عصر)	51	۲۲۶۰۹ - علوم تجربی	اجزای مخلوط	2	
(۵) پایه هشتم (نوبت عصر)	52	۲۲۶۰۹ - علوم تجربی	تاثیر دما بر انحلال پذیری	2	

	4	جداسازی مخلوط ها	علوم تجربی - ۲۳۶۰۹	53	پایه هشتم (نوبت عصر)
	3	تفسیر های شیمیایی در خدمت زندگی	علوم تجربی - ۲۳۶۰۹	54	پایه هشتم (نوبت عصر)
	3	فراورده های سوختن	علوم تجربی - ۲۳۶۰۹	55	پایه هشتم (نوبت عصر)
	2	تغییرات شیمیایی	علوم تجربی - ۲۳۶۰۹	56	پایه هشتم (نوبت عصر)
	3	یون ها	علوم تجربی - ۲۳۶۰۹	57	پایه هشتم (نوبت عصر)
	4	نشانه های شیمیایی	علوم تجربی - ۲۳۶۰۹	58	پایه هشتم (نوبت عصر)
	4	بخش مرکزی دستگاه عصبی	علوم تجربی - ۲۳۶۰۹	59	پایه هشتم (نوبت عصر)
	1	نورون ها	علوم تجربی - ۲۳۶۰۹	60	پایه هشتم (نوبت عصر)
	2	شنوایی	علوم تجربی - ۲۳۶۰۹	61	پایه هشتم (نوبت عصر)
	3	مفاصل	علوم تجربی - ۲۳۶۰۹	62	پایه هشتم (نوبت عصر)
	2	ماهیچه ها	علوم تجربی - ۲۳۶۰۹	63	پایه هشتم (نوبت عصر)
	1	غده تیروئید	علوم تجربی - ۲۳۶۰۹	64	پایه هشتم (نوبت عصر)
	2	هماهنگی بدن	علوم تجربی - ۲۳۶۰۹	65	پایه هشتم (نوبت عصر)
	3	تاثیر همدلی	مطالعات اجتماعی - ۲۳۶۱۲	66	پایه هشتم (نوبت عصر)
	2	وقف	مطالعات اجتماعی - ۲۳۶۱۲	67	پایه هشتم (نوبت عصر)
	4	ارکان حکومت	مطالعات اجتماعی - ۲۳۶۱۲	68	پایه هشتم (نوبت عصر)
	1	دولت و مجلس	مطالعات اجتماعی - ۲۳۶۱۲	69	پایه هشتم (نوبت عصر)
	3	نوجوانی	مطالعات اجتماعی - ۲۳۶۱۲	70	پایه هشتم (نوبت عصر)
	4	محافظت از نوجوان	مطالعات اجتماعی - ۲۳۶۱۲	71	پایه هشتم (نوبت عصر)
	2	انواع رسانه ها	مطالعات اجتماعی - ۲۳۶۱۲	72	پایه هشتم (نوبت عصر)
	4	کاربرد رسانه	مطالعات اجتماعی - ۲۳۶۱۲	73	پایه هشتم (نوبت عصر)
	3	عصر جاهلیت	مطالعات اجتماعی - ۲۳۶۱۲	74	پایه هشتم (نوبت عصر)
	1	خلافت	مطالعات اجتماعی - ۲۳۶۱۲	75	پایه هشتم (نوبت عصر)