

پاسخ های پیشنهادی فعالیت ها و پرسش های کتاب زمین شناسی یازدهم

تهیه و تنظیم: محسن یوسفی

فصل ۱

یادآوری صفحه ۱۲

۱- با توجه به این که، نور خورشید حدود $۸/۳$ دقیقه نوری طول می کشد تا به زمین برسد.

فاصله متوسط زمین تا خورشید چند کیلومتر است؟

هرثانیه نوری ۳۰۰۰۰۰ کیلومتر است و یا هر دقیقه نوری ۱۸ میلیون کیلومتر که با ضرب عدد $۸/۳$ بر عدد ۱۸ میلیون کیلومتر نتیجه عدد ۱۴۹۴۰۰۰۰۰ کیلومتر به دست می آید که فاصله زمین و خورشید می باشد.

۲- به این فاصله در اصطلاح ستاره شناسی چه گفته می شود؟

فاصله متوسط زمین و خورشید ۱۵۰ میلیون کیلومتر است که به آن یک واحد نجومی گفته می شود.

فعالیت صفحه ۱۵

مطابق شکل، اگر طول عمر کهکشان راه شیری را به یک سال شمسی تبدیل کنیم، حوادث و رویدادهای زیر، در چه ماه هایی رخ داده است؟

در متن سوال اگر به جای طول عمر کره زمین، عمر جهان را مطرح کنیم، به ترتیب ماه های سال شمسی (از چپ به راست) می توانیم هر کدام از اتفاقات خواسته شده را در ماه های مورد نظر، در نظر بگیریم:

الف) پیدایش کهکشان راه شیری

مرداد

ب) منظومه شمسی

آذر


پ) پیدایش حیات

دی

ت) فناوری انسانی

اسفند

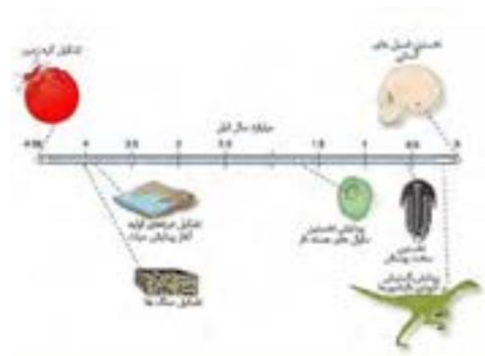
با توجه به شکل زیرهم می توان پاسخ داد(دوشکل را با هم مقایسه کنید)



اسفند	بهمن	دی	آذر	آبان	مهر	شهریور	مرداد	تیر	خرداد	اردیبهشت	فروردین
فناوری انسانی		فتوستنز و پیدایش حیات	پیدایش منظومه شمسی				پیدایش کهکشان راه شیری				پیدایش جهان

تفسیر کنید صفحه ۱۵

با توجه به شکل روبه رو، ترتیب تشکیل هوا کره، سنگ کره، زیست کره و آب کره را از قدیم به جدید ذکر کنید.



۱سنگ کره - ۲هواکره ابتدایی - ۳آبکره - ۴زیست کره

با توجه به شکل روبرو به ترتیب سنگ کره، هواکره، آب کره و زیست کره به وجود آمد. ۴ میلیارد سال پیش از سرد شدن سطح کره مذاب زمین پوسته یا سنگ کره به وجود آمد سپس با فعالیت های داخل زمین و وقوع آتشفشان ها، هواکره به وجود آمد و با ادامه فعالیت های زمین و ترکیب هیدروژن و اکسیژن، ابرهای باران را موجب ریزش باران زیادی در سطح زمین شدند و اقیانوس های بزرگ را به وجود آوردند و به این ترتیب آب کره به وجود آمد و از تعامل سه محیط سنگ کره، سنگ کره و آب کره محیط دیگری به وجود آمد که زیست کره نام دارد. اندامی ترین اشکال حیات تریلوبیت ها می باشند و سپس داینوسورها به وجود آمدند. در دوره کواترنر انسان به وجود آمد ...

فعالیت صفحه ۱۶

۱- دو نفر از ورزشکاران مورد علاقه خود را در نظر بگیرید، بدون توجه به شناسنامه آن ها، حدس بزنید که از نظر سن، کدام یک بزرگ تر و کدام کوچک ترند؟

قسمت اول: برای این فعالیت می توانیم ورزشکاران مختلفی را نام ببریم مثلاً علی دایی مسن تر است

از آقای مسعود شجاعی یا علی پروین مسن تر است از آقای علی کریمی و.....

این نوع تعیین سن، نسبی است یا مطلق؟

تعیین سن نسبی

۲- با جست و جو در اینترنت سن شناسنامه ای این دو نفر را با هم مقایسه کنید. چه تفاوتی بین این دو نوع تعیین سن وجود دارد؟

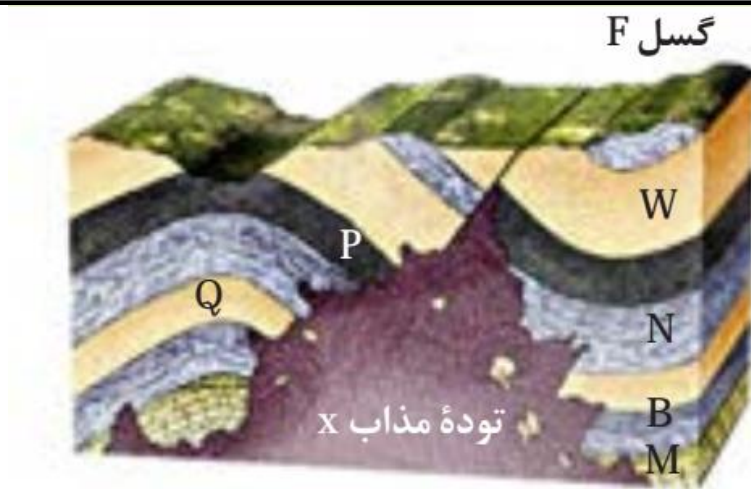
مسعود شجاعی ۳۳ سال سن دارد و علی دایی ۴۸ سال البته تا سال ۱۳۹۶

آقای علی پروین ۷۰ سال سن دارد و علی کریمی ۳۸ سال البته تا سال ۱۳۹۶

مهمترین اختلاف این است که تعیین سن نسبی حالت مقایسه ای دارد و کمیتی نیست اما در روش تعیین سن مطلق، دقت تعیین سن زیاد است و به شما یک کمیت را نشان می دهد.

یادآوری صفحه ۱۶

در کتاب علوم نهم با روش تعیین سن نسبی و اصول آن آشنا شدید. با توجه به آن، در شکل روبه رو، ترتیب وقایع را از قدیم به جدید شماره گذاری کنید.



به ترتیب از قدیم به جدید:

M- 1

B- 2

Q- 3

N- 4

P- 5

W- 6

۷- چین خوردگی ناودیس

۸- F گسل عادی یا نرمال

۹- X تزریق توده نفوذی

M	۱
B	۲
Q	۳
N	۴
P	۵
W	۶
چین خوردگی ناودیس	۷
F گسل عادی یا نرمال	۸
X تزریق توده نفوذی	

پیوند با ریاضی صفحه ۱۷

در جدول زیر، نیمه عمر برخی از عناصر رادیواکتیو و عنصر پایدار حاصل از آنها نشان داده شده است. با استفاده از اطلاعات موجود در آن، به پرسشهای زیر پاسخ دهید:

۱- برای تعیین سن نخستین که در کره زمین تشکیل شده اند، استفاده از کدام ماده رادیواکتیو مناسب تر است؟ چرا؟

اورانیوم ۲۳۸ زیرا نیمه عمر آن با سن زمین یکسان است.

۲- برای تعیین سن فسیل ماموت و یا جمجمه انسان اولیه، از کربن رادیواکتیو استفاده می شود. دلیل آن را توضیح دهید.

چون نیمه عمر کربن ۱۴ برابر با ۵۷۳۰ سال است که با سن این موجودات مطابقت دارد.

۳- با استفاده از کربن رادیواکتیو، سن فسیل ماموتی که تنها ماده رادیواکتیو را دارد محاسبه کنید.

طول نیمه عمر تعداد نیمه عمر = سن پدیده

سه نیمه عمر را سپری کرد:

۱- یک دوم

۲- یک چهارم

۳- یک هشتم

سه تا نیمه عمر دارد بنابراین:

$$۵۷۳۰ \times ۳ = ۱۷۱۹۰$$

۱۷۱۹۰ سال

یاد آوری صفحه ۱۹

در فصل زمین ساخت ورقه ای کتاب علوم نهم، در مورد حرکت ورقه های سنگ کره و پیامدهای آن مطالبی آموختید. در این باره به پرسش های زیر پاسخ دهید:

۱- علت حرکت ورقه های سنگ کره چیست؟

ورقه های پوسته زمین که از هم جدا هستند بر روی مواد خمیری نرم کره قرار دارند و به دلیل حرکت همرفتی مواد خمیری نرم کره و گوشته داغ فوقانی، ورقه ها حرکت می کنند. (جریان های همرفتی (کنوکسیونی) در گوشته داغ فوقانی)

۲- انواع حرکت ورقه ها را بیان کنید.

ورقه ها به سه شکل حرکت می کنند:

الف- دو ورقه از یکدیگر دور می شوند (واگرا)

ب- دو ورقه به هم برخورد می کنند (همگرا)

پ- دو ورقه در کنار یکدیگر می لغزند (امتداد لغز)

۳- پیامدهای حاصل از حرکت ورقه ها را ذکر کنید.

نتایج واگرایی ورقه ها :

ایجاد دره ها - تشکیل پوسته های جدید - تشکیل دریاها و اقیانوس های جدید - زمین لرزه - آتشفشان های خطی و نقطه ای

نتایج همگرایی ورقه ها :

برخورد ورقه ها و چین خوردگی - آتشفشان های انفجاری - زمین لرزه ها - فرورانش ورقه های اقیانوسی و فلز زایی - ایجاد رشته کوه ها

نتایج ورقه های امتداد لغز :

وقوع زمین لرزه و ایجاد گسل

پاسخ دهید صفحه ۲۰

عامل باز و بسته شدن اقیانوس ها چیست؟

وقتی دو ورقه اقیانوسی-اقیانوسی و یا اقیانوسی-قاره ای از یکدیگر دور می شوند موجب گسترش بستراقیانوس می شود و وقتی دو ورقه های اقیانوسی-اقیانوسی و یا اقیانوسی-قاره ای به یکدیگر نزدیک می شوند در اثر برخورد و فرورانش موجب بسته شدن بستراقیانوس می شود.

(عامل باز شدن حرکت واگرایی ورقه هاست و عامل بسته شدن همگرایی ورقه هاست)

چرا وسعت سطح زمین افزایش نمی یابد؟

در قسمتی از یک ورقه که مواد مذاب بالا می آید و موجب ایجاد پوسته جدید می شود در طرف دیگر پوسته تشکیل شده در اثر فرورانش به داخل گوشته نفوذ کرده و ذوب می شود و پوسته از بین می رود و به این دلیل وسعت سطح همه ورقه های زمین افزایش نمی یابد و ثابت است.

(چون در محل برخورد ها (همگرایی) ورقه هایی به زیر دیگر ورقه ها کشانده می شوند و به همان اندازه که باز شدن داریم به همان نسبت هم نزدیک شدن یا همگرایی ورقه ها را داریم که باعث می شود که مساحت زمین تغییر نکند.)

خود را بیازماید صفحه ۲۴

۱- وضعیت فصل ها در نیمکره شمالی و جنوبی را مقایسه کنید.

در زمانی که در نیمکره شمالی فصل تابستان می باشد در نیمکره جنوبی فصل زمستان است که به آن آهنگ فصلی گفته می شود.

۲- انحراف ۲۳/۵ درجه ای محور زمین، چه تأثیری در تشکیل فصل ها دارد؟

مهم ترین تاثیرات انحراف ۲۳/۵ درجه ای محور چرخشی زمین عبارتست از:

الف- به وجود آمدن فصل ها

ب- به وجود آمدن آهنگ فصلی

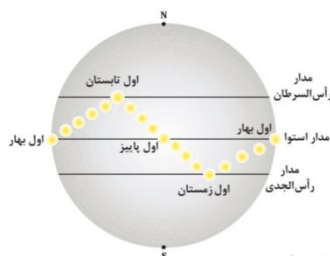
پ- تغییر در طول مدت شبانه روز در دو نیمکره در تابستان و زمستان

۳- جهت تشکیل سایه، در نیمکره شمالی و جنوبی چه تفاوتی دارد؟

جهت سایه در هنگام ظهر در نیمکره شمالی به طرف شمال است و همزمان در نیمکره جنوبی جهت سایه شاخص به طرف جنوب است یعنی عکس نیمکره شمالی

۴- در طول یک سال، خورشید در چه روزهایی بر استوا عمود می تابد؟

بر طبق شکل پایین فقط در دو روز خورشید بر استوا عمود می تابد یعنی اول فروردین و اول مهرماه



نتایج حاصل از تجزیه شیمیایی سنگ های یک منطقه در جدول رو به رو ارائه شده است. در کدام عناصر بی هنجاری مثبت و در کدام عناصر، بی هنجاری منفی دیده می شود؟

بی هنجاری	عنصر	درصدوزنی
منفی	Si	۱۷
منفی	Fe	۵
مثبت	Ca	۵,۹
منفی	Na	۱
مثبت	Cu	۰,۷
مثبت	Pb	۲
مثبت	Zn	۳
منفی	K	۱

یادآوری صفحه ۳۰

در کتاب علوم با مفهوم، ویژگی ها و کاربرد برخی از کانی ها آشنا شدید. تعیین کنید که کدام یک از تصاویر زیر کانی می باشد؟ چرا؟



الف

کانی نیست زیرا نبات طبیعی نیست.



ب

کانی است زیرا یخ جامد است.



پ

کانی نیست زیرا نفت مایع است و متبلور نیست.



کانی است زیرا گوگرد جامد و متبلور است و دارای ترکیب شیمیایی ثابت است.

جمع آوری اطلاعات صفحه ۳۱

در ساخت سرامیک و شیشه، از چه کانی هایی استفاده می شود؟ در این مورد، اطلاعات جمع آوری و در کلاس ارائه کنید.

- برای ساخت شیشه های معمولی که در زندگی روزمره بکار میروند، عمدتاً شامل سیلیس، کربنات کلسیم (یا آهک) و کربنات سدیم و زغال کک است (گاهی از فلدسپار و دولومیت نیز استفاده می شود). معمولاً این مواد را به صورت پودر یا دانه هایی به قطر ۰٫۲ تا ۲ سانتیمتر، مصرف می کنند. البته برای تهیه شیشه های مرغوب و کریستال، از سیلیس تقریباً خالص (کوارتز) استفاده می شود. در شیشه های معمولی حدود ۱/۲ درصد آلومین و ۰٫۰۸ تا ۰٫۰۳ درصد اکسید آهن سه ظرفیتی نیز وجود دارد.

- رس ها یا کانی های رسی پرمصرف ترین و قدیمی ترین مواد اولیه در صنعت سرامیک می باشند که دارای خاصیت پلاستیسیته بوده و خاصیت شکل پذیری را به بدنه می دهند. همچنین مهمترین و رایج ترین پرکننده ها در این صنعت، سیلیس و آلومینا هستند که از کائولینیت به دست می آیند. از انواع سیلیس آزاد موجود در طبیعت که در صنعت کاشی و سرامیک مورد استفاده قرار میگیرد، کوارتز صخره‌های، ماسه، ماسه سنگ، کوارتزیت و فلینت می باشد.

جمع آوری اطلاعات صفحه ۳۲

در مورد کانه های زیر، اطلاعات جمع آوری و جدول زیر را کامل کنید.

ترکیب شیمیایی	عنصر اقتصادی	کانه
Fe ₂ O ₃	fe	هماتیت
Fe ₃ O ₄	fe	مگنتیت
Al ₂ O ₃	al	بوکسیت
Cu ₂ FeS ₂	cu	کالکوپیریت
PbS	Pb	گالن
Ca ₅ (PO ₄) ₃ (Cl,F,OH)	P	آپاتیت

جمع آوری اطلاعات صفحه ۳۳

– در مورد عوامل مؤثر بر مقرون به صرفه بودن یک معدن، اطلاعاتی جمع آوری و به پرسشی زیر پاسخ دهید.

علاوه بر عوامل حجم و غلظت، چه عواملی در مقرون به صرفه شدن یک معدن دخالت دارند؟

ارزش ماده معدنی – عرضه و تقاضا – عیار ذخیره معدنی – تکنولوژی استخراج – شکل ذخیره معدنی – عمق ذخیره – تلغیظ و تصفیه – حمل و نقل و راه های دسترسی به معدن – آب و هوا و سیاست دولت ها و عوامل آشکار در مقرون به صرفه بودن یک معدن می باشد.

گفتوگو کنید صفحه ۳۳

۱- در آب دریاها درصد مناسبی از عنصر طلا وجود دارد. به چه دلیل، طلا را از دریا استخراج نمی کنیم؟

می توان گفت که حدود ۸ بیلیون تن از ذخایر طلا نیز در آب های اقیانوس های جهان حل شده اند. میزان طلا در آب دریا حدود ۱ تا ۲ میلی گرم در تن است که این رقم بستگی به نوع طلا نیز دارد. هنوز روشی برای اینکه طلا را از آب دریا استخراج کنند وجود ندارد. گرچه طلا بسار ارزشمند و کمیاب می باشد، ولی به طور گسترده ای در طبیعت پراکنده است. اما مشکل اینجا است که در بیشتر موارد طلای کافی وجود ندارد تا استخراج آن را مقرون به صرفه سازد. برای مثال، آب دریا مقدار اندکی طلا است، اما ذره ها آنقدر ریز هستند که هیچ کس نمی داند چگونه طلا را از دریا جدا کند. با وجود این آب اقیانوس ها بقدری زیاد است که احتمالاً به طور نسبی ده هزار میلیون تن طلا در آن وجود دارد.

۲- به چه دلیل برخی از معادن متروکه، پس از مدتی مورد بهره برداری مجدد قرار می گیرند؟

نیاز ملی یا منطقه ای، وضعیت بازار به لحاظ عرضه و تقاضا، تغییرات تکنولوژی استخراج، نیروی انسانی و بسیاری از عوامل دیگر می تواند در احیای یک معدن متروکه تأثیر داشته باشد.

جمع آوری اطلاعات صفحه ۳۵

در منطقه ای که زندگی می کنید، چه معادن فلزی وجود دارد؟ در مورد آنها تحقیق کنید.

درهراستان و درهرمنطقه ای متفاوت است. مثلاً دراستان قم مگنز وجوددارد. دراستان یزد آهن و دراستان کرمان مس وجوددارد و...

جمع آوری اطلاعات صفحه ۳۵

در مورد ذخایر پلاسرا طلای ایران اطلاعات جمع آوری کنید و محل آنها را بر روی نقشه ایران نشان دهید. ذخایر طلای پلاسری، در نتیجه ی هوازدگی و تخریب سنگ های طلادار، حاصل می شوند تغییرات دما، آب و حلال های طبیعی، سنگ ها را تجزیه و تخریب کرده و طلا را آزاد می نماید، سپس محصولات هوازدگی توسط آب های جاری حمل شده و در ضمن تا حد اندازه های کوچکی خرد می شوند بنابراین مقدار طلای بیشتری آزاد می شود.

طلا به خاطر داشتن جرم حجمی بالا، در میان توده های سیلت، ماسه و گراول جایگزین شده و به وسیله ی جریان رودخانه حمل می گردد بیشتر مواقع طلا مانند مواد سبک تر به مناطق دورتر حرکت می کند و در زمانی که سرعت جریان رودخانه برای حمل طلا به نقاط دورتر کافی نیست، مستقر شده و معمولا بر روی سنگ بستر متمرکز می شود و اصولا جرم حجمی بالای طلا در مقابل عمل حمل و نقل به آن مقاومتی مشابه بهدانه های درشت تر از ماسه می دهد.

تشکیل پلاسره های عظیم، با به وجود آمدن یک سطح مبنای جدید در منطقه که ناشی از تخریب عمیق و شدید سنگ هاست، همراه می باشد. ذخایر طلای پلاسری معمولا در مناطقی که رگه های طلا دار وجود دارند یافت می شوند ولی ذخائر موجود در رگه ها ممکن است بسیار کمتر یا ریزدانه تر از آن حدی باشند که از نظر اقتصادی قابل توجه باشد.

در مورد محل ذخایر طلای پلاسری میتوانیم طلای دامغان- اراک (آستانه) - موه اصفهان و گلپایگان را نام ببریم.

پیوند با ریاضی صفحه ۳۷

عیار اقتصادی طلا در ذخایر آن، حدود ۲ ppm است. محاسبه کنید در یک معدن طلا، از هر تن سنگی که استخراج می شود، چند گرم طلا به دست می آید؟

معنی PPM قسمت در میلیون است می توانیم که یک تن را به گرم ابتدا تبدیل کنیم:

$$\text{کیلوگرم } 1 = 1000 \text{ تن}$$

$$\text{گرم } 1 = 1000 \text{ کیلوگرم}$$

$$1000000 \text{ گرم} = 1000 \times 1000$$

$$2 \times \frac{1000000}{1000000} = 2 \text{ گرم}$$

جمع آوری اطلاعات صفحه ۳۷

در مورد فرایند فراوری طلا از کانسنگ، اطلاعات جمع آوری کنید و در کلاس ارائه دهید.

روش های جداسازی طلای آزاد و تغلیظ طلا از کانی ها شامل:

الف) روش های ثقلی

۱- لاوک شوئی

۲- جیک

۳- میزهای لرزان

۴- میزهای گردان

۵- جدا کننده مغناطیس

۶- جدا کننده های گریز از مرکز

۷- مخروپه های ری ایچرت (Reichert)

ب) روش فلوتاسیون

۲- روش های حل کردن فلز طلا از کانیها و کنسانتره ها

۱- روش غالگذاری (غالکاری)

۲- روش ملقمه

۳- روش کلریناسیون

۴- روش سیانوراسیون

۵- روش تیوره

۶- روشهای دیگر

۳- روش های رسوب گیری طلا از محلول طلا دار (روشهای بازیابی طلا)

۱- روش پودر روی

۲- روش c.i.p

۳- روش c.i.a

۴- روش های دیگر

۴- ذوب و تخلیص طلا

لازم به توضیح است که عملیات استحصال فلز طلا از سنگهای معدنی طلا دار، متناسب با چگونگی وجود طلا در کانی متفاوت می باشد.

کاوش کنید صفحه ۳۹

شاید تاکنون به نوع تراش گوهرها توجه کرده باشید. گوهرها به چه شکل هایی و توسط چه ابزارهایی تراش داده می شوند؟

تفاوت الماس و برلیان در چیست؟

۱- تراش برلیان - تراش تخت - تراش فلامک - تراش دامله یا همان cobocho نوع یمنی . پشت ماهی و.. وجود دارد . و دستگاه ها هم می توان به دستگاه تراش دامله و فست (زاویه دار) اشاره کرد.

۲- برلیان خود نوعی تراش است که در بالا ۴۵ درجه و در پایین ۳۸ درجه دارد و چون روی الماس به بهترین نحو خود را نشان می دهد به اشتباه الماس به این صورت تراش خورده را برلیان بیان می کنند. و در ضمن این نوع تراش بر روی انواع بریل و سفایر زیبا است اما هیچکدام ضریب شکست بالای الماس را ندارند. همچنین امروزه الماس با تراش های باگتی. اشکی و ... هم تولید میشه اما معمولا الماسهای با کیفیت درجه دو به بالا.

به عبارت دیگر:

برلیان : (Brilliant) این واژه عبارتی است که برای نوعی خاصی از تراش سنگ الماس استفاده می شود .

تراش برلیان در حقیقت از نوع دیگری از تراش، به نام تراش سویسی گرفته شده که در گذشته برای تراشیدن سنگ های قیمتی مختلف استفاده می شد .

در این نوع برش همواره سعی می شود جلوه های بصری سنگ الماس را بیشتر به نمایش گذاشته شود، لذا زاویه برش ها طوری طراحی شده که نور وارد شده، به صفحات بیشتری از تراش برخورد کرده و نهایتا به چشم بیننده برسد .

بنابراین دانشمندان موسسات بزرگ آمریکا و بلژیک همواره در تلاش برای بهتر کردن این نوع تراش بوده تا هر ساله استاندارد جدیدی را برای آن معرفی کنند .

این استاندارد می بایست توسط کلیه افرادی که در زمینه تراش الماس فعالیت دارند، چه کسانی که به روش سنتی عمل کرده و چه کسانی که با استفاده از دستگاه های پیشرفته این عمل را انجام می دهند، رعایت شود .

الماس : (Diamond) به طور کلی عموم مردم از سطح اطلاعاتی خوبی درباره سنگ الماس برخوردار هستند، از جمله اینکه این سنگ در دسته سنگ های قیمتی طبقه بندی شده ، بالاترین درجه سختی را دارا بوده، بسیار گرانبه است، در برخی موارد به عنوان پشتیبانی پول یک مملکت محسوب شده اند و ...

حتی در برخی موارد دیده شده بعضی از الماس ها دارای تاریخچه مختص خود هستند .

در نهایت بیان می شود به دلیل نوع تراش برلیان مورد استفاده برای سنگ های الماس پیوسته در حال تغییر و بهبود است، لذا عموم مردم این سنگ قیمتی را به عنوان برلیان می شناسند .

در صورتی که می بایست به خاطر داشته باشید برلیان تنها نوع تراش استفاده شده برای سنگ الماس می باشد .

از طرفی ممکن است از تراش برلیان برای تراشیدن سایر سنگ های قیمتی نیز استفاده شود.

پاسخ دهید صفحه ۴۲

به چه دلیل کانی کلسیت یا ژپس نمیتواند یک کانی قیمتی باشد؟

از مواردی که می تواند بر ارزش و قیمتی شدن کانی ها تأثیر بگذارد ، کمیاب بودن ، رنگ زیبا ، سختی بالا ، جلای مناسب ، تقاضای بازار و قیمت جهانی می باشد . این دو کانی دارای سختی کم ، و فراوان هستند و نمی تواند جزو کانی های قیمتی محسوب شود.

با هم بیندیشید صفحه ۴۳

اگر فشار و دما از حد مورد نیاز برای تشکیل نفت بیشتر یا کمتر شود، چه اتفاقی رخ می دهد؟

فرآیند تبدیل مواد آلی به نفت در دمای ۶۵ تا ۱۵۰ درجه سانتیگراد رخ میدهد که دمای متناظر با عمق ۲۰۰۰ تا ۵۵۰۰ متر است. در اعماق و دمای پایینتر نفت به گاز و زغالسنگ تبدیل می شود.

شرط مهم دیگر برای تشکیل نفت، فشار و زمان است و با پایین تر بودن عمق و دما، باید زمان بیشتری (میلیون ها سال) بگذرد تا نفت تشکیل شود. در صورتی که سنگ منشا در عمق کم یا مدت زمان کافی دفن نشود فرآیند تکامل نفت کامل نمی شود که نمونه آن شیل های نفتی است.

پس از تشکیل، نفت نباید به اعماق پایین تر برود (بالا رفتن دما آن را به گاز و زغال تبدیل می کند) بلکه به سنگ دیگری به نام مخزن که در اطراف یا بالای آن (سنگ منشاء) وجود داشته و منافذ کافی برای ذخیره نفت و گاز دارد، تبدیل می شود. با تشکیل نفت، فشار ایجاد شده نفت را به سمت بالا خواهد راند که این فشار موجب شکسته شدن سنگ و سهولت حرکت آن می شود.

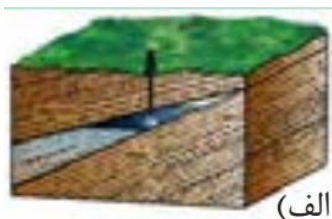
نتیجه : افزایش دما و فشار سبب می شود که نفت به گاز و زغال تبدیل شود و با کاهش فشار و دما ، زمان بیشتری لازم است تا نفت تشکیل شود.

کاوش کنید صفحه ۴۴

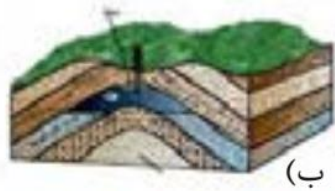
در مورد انواع تله های نفتی توضیح دهید.

انواع تله های نفتی

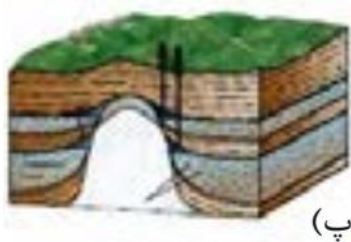
الف) نازک شدگی : مسدود شدن یک لایه به دلیل شکل ساختمانی آن می تواند باعث به تله افتادن نفت شود.



ب) تاقدیسی : به مرزهای خود محدود بوده و در رسوبات غیر تراوا محصور است.



پ) گنبد نمکی : تأثیرهای ناشی از حرکت صعودکننده نمک به صورت گوناگون از قبیل برگشتگی لایه های کناری و مجاور توده نمک ، در نهایت سبب تشکیل مخازن نفت می شود.



ت) گسلی : عامل سد کننده و بازدارنده سیال همچنین عامل انتقال و فراهم آورنده معبری تراوا جهت عبور سیال است .



ث) ریفی : حفرات میان قطعات اسکلتی مرجان ها می تواند جایگاه مناسبی برای نفت و گاز و آب باشد.



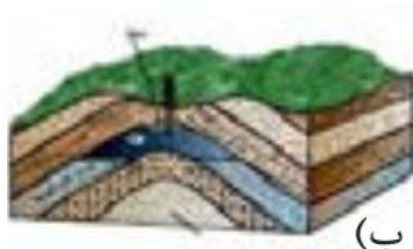
ج) ناپیوستگی زاویه دار : لایه های فوقانی بدون شیب می تواند نقش بازدارنده در حرکت انتقالی نفت داشته باشد.



(ج)

تله های نفتی ایران، بیشتر از کدام نوع هستند؟

بیشتر از نوع چینه ای (تاقدیس) می باشد (نوع ب)



(ب)

فکر کنید صفحه ۴۵

وجود ذخایر زغال سنگ در سیبری که سرزمینی سرد می باشد را چگونه توجیه می کنید؟

سیبری در ۲۰۰ میلیون سال پیش منطقه مردابی و گرمسیری بوده است.

لایه های زغال دار طبس، نشان دهنده چه نوع آب و هوایی در گذشته است؟

آب و هوای گرم و مرطوب - مرداب - کم اکسیژن

چرا برخی از مناطق با وجود جنگلی بودن، مکان مناسبی برای تشکیل زغال سنگ نیستند؟

برای تشکیل زغال سنگ مراحل اکسایش نباید طی شود که این شرط در همه مناطق جنگلی وجود ندارد و ماده آلی به دلیل اکسایش می پوسد.

فصل ۲

با هم بیندیشید صفحه ۵۰

چه عواملی بر مقدار برگاب و رواناب مؤثرند؟

میزان بارش، میزان نفوذپذیری رسوبات و سنگ ها، میزان تبخیر، میزان شیب زمین ، میزان پوشش گیاهی ، میزان گیاهک و...

تبخیر در چه بخش هایی از چرخه آب صورت می گیرد؟



باتوجه به شکل تقریبا در همه بخش ها تبخیر انجام می شود ولی مقدار تبخیر در جاهای مختلف با هم اختلاف زیادی دارد ولی اساسا تبخیر در دریاها و اقیانوس ها موجب تشکیل ابرها و بارش در خشکی ها می شود و...

پیوند با ریاضی صفحه ۵۱

آب در رودخانه ای با سطح مقطع ۱۰۰ مترمربع، و با سرعت متوسط دو متر بر ثانیه در جریان است. آبد هی رودخانه را محاسبه کنید.

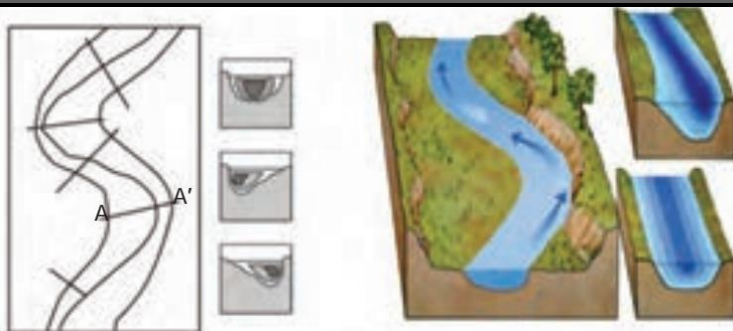
در یک ثانیه ۲ مترمکعب آب عبور می کند و در یک دقیقه ۱۲۰ مترمکعب آب عبور می کند و در یک ساعت ۷۲۰۰ مترمکعب و در یک شبانه روز ۱۷۲۸۰۰ مترمکعب آب عبور می کند.

اگر این رودخانه به یک تالاب منتهی شود، در طی یک هفته، چند متر مکعب آب را وارد تالاب میکند؟

۱۷۲۸۰۰ ضرب در ۷ می شود ۱۲۰۹۶۰۰ مترمکعب در یک هفته

فکر کنید صفحه ۵۱

مقدار رسوبگذاری و فرسایش را در نقاط A و A' مقایسه کنید.



در A بیشتر رسوب گذاری انجام می شود به دلیل سرعت کمتر آب نسبت به قسمت A'

در A' بیشتر عمل فرسایش انجام می شود به دلیل سرعت بیشتر آب نسبت به قسمت A

جمع آوری اطلاعات صفحه ۵۲

قدیمی ترین قنات جهان، در کدام استان کشور قرار دارد و نام آن چیست؟

قنات قصبه (کاريز گناباد) يا کاريز کيخسرو عميق ترين و قديمی ترين کاريز جهان است. آنگونه که از منابع کهن و همچنين سفرنامه ناصر خسرو و منابع شفاهی بر می آید آنرا کاريز کيخسرو می گفته اند.

حدود ۴۰۰۰۰ رشته قنات در کشور ما وجود دارد. بیشترین تعداد قنات در کدام یک از شش حوضه آبريز اصلی ایران حفر شده اند؟ دلیل آن چیست؟

بیشتر در حوضه آبريز داخلی (فلات مرکزی) قرار دارد به دلیل بارش کم و کمبود آب در این منطقه و...

پیوند با فیزیک صفحه ۵۳

چه نیرویی باعث تشکیل حاشیه مویینه می شود؟

به علت جاذبه مولکولی بین آب و سنگ و همچنین جاذبه بین خود ذرات ، علی رغم نیروی جاذبه زمین ، به صورت معلق می ماند .

اندازه ذرات خاک، چه تأثیری بر ضخامت حاشیه مویینه دارد؟

هرچه رسوبات دانه ریز تر و در نتیجه منافذ و مجاری نازک تر باشند، آب بیشتر بالا خواهد رفت. ضخامت منطقه مویینه معمولاً بین چند سانتیمتر تا ۲ الی ۳ متر است.

هنگامی که حاشیه مویینه، به سطح زمین می رسد، چه اتفاقی می افتد و چه مشکلاتی ایجاد می کند؟

در مناطق خشک و کویری آب های شور موجود در حاشیه مویینه به سطح زمین رسیده و بر اثر تبخیر، در سطح زمین لایه های نمکی رسوب می کند و شوره زارها را پدید می آورد و...

در مورد عوامل مؤثر بر تغییرات عمق سطح ایستابی در یک منطقه، اطلاعاتی جمع آوری و در کلاس ارائه دهید.

۱- میزان بارش سالانه و فصلی
با افزایش بارش میزان عمق سطح ایستابی کاهش می یابد و با کاهش بارندگی سالانه میزان عمق سطح ایستابی افزایش می یابد.

۲- میزان نفوذ آب به داخل زمین (تغذیه)
هرچقدر آب بیشتری به داخل زمین نفوذ کند میزان عمق سطح ایستابی کمتری شود و بالعکس

۳- تغییرات میزان بهره برداری
با افزایش میزان بهره برداری از آب های زیرزمینی سطح ایستابی پایین تر می رود و در نهایت آب شور می شود و...

پیوند با ریاضی صفحه ۵۴

بر اثر بهره برداری از یک آبخوان در یک دشت به مساحت ۲۰۰ کیلومتر مربع و تخلخل ۳۰ درصد، سطح ایستابی ۱۰ متر افت کرده است. چه حجمی از آب تخلیه شده است؟

مساحت ۲۰۰ کیلومتر مربع تقریباً می توان مربعی در نظر گرفت که طول اضلاع آن ۱۴۳۰۰ در ۱۴۰۰۰ متر است.

میزان افت سطح ایستابی هم ۱۰ متر می باشد.

ابتدا باید حجم کل را حساب کنیم:

$$۱۴۳۰۰ \times ۱۴۰۰۰ \times ۱۰ \text{ متر که می شود حدود } ۲ \text{ میلیارد مترمکعب}$$

میزان تخلخل هم ۳۰ درصد می باشد بنابراین ۳۰ درصد از ۲ میلیارد مترمکعب دارای آب بوده که تخلیه شده است و با روش تناسب عدد ۶۰۰ میلیون مترمکعب حاصل می شود یعنی حجم آب تخلیه شده ۶۰۰ میلیون مترمکعب می باشد.

چنانچه این حجم آب در طی ۳۰ روز پمپاژ شده باشد، میانگین آبدهی چاه ها چقدر بوده است؟

۶۰۰ میلیون مترمکعب را بر ۳۰ روز ضرب می کنیم و عدد ۱۸ میلیارد مترمکعب مترمکعب حاصل می شود یعنی هر ماه ۱۸ میلیارد مترمکعب آب زیرزمینی توسط چاه ها تخلیه شده می شود.

با بهره برداری ۱۰۰ میلیون مترمکعب آب از این آبخوان، سطح ایستابی چند متر افت خواهد کرد؟

۶۰۰ مترمکعب موجب پایین رفتن ۱۰ متر آب شده است و اگر ۱۰۰ میلیون مترمکعب آب تخلیه شود از طریق تناسب عدد ۱,۶ متر به دست می آید یعنی سطح ایستابی کمی بیش از ۱,۶ متر پایین می رود.

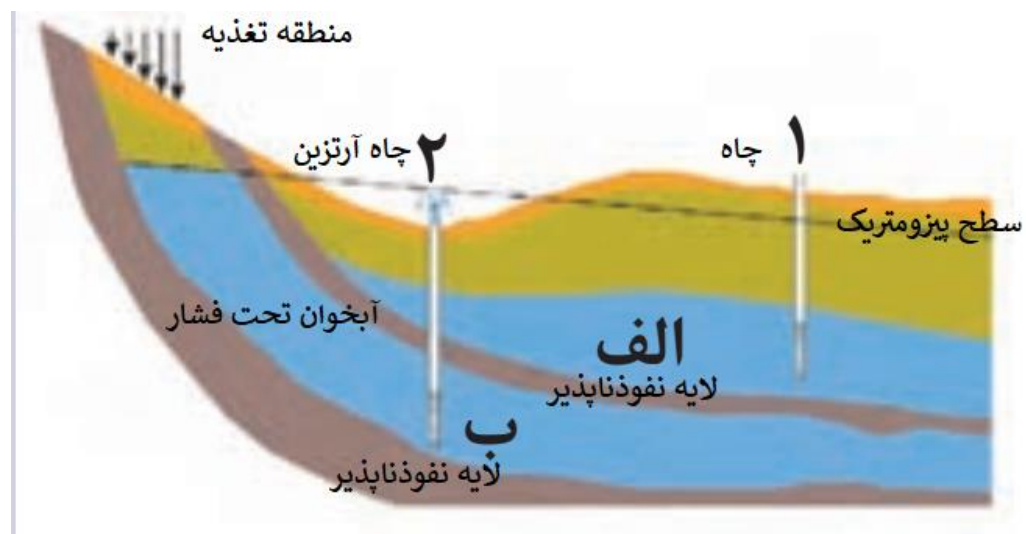
یادآوری صفحه ۵۵

در کتاب علوم پایه هفتم با آبخوان و انواع آن آشنا شدید. در این باره به پرسش های زیر پاسخ دهید:

۱- آبخوان چیست؟

قسمتی از پوسته زمین است که سوراخ‌ها یا خلل و فرج سنگ‌های آن از آب مملو و اشباع شده باشد. معمولاً منافذ و سوراخ‌های سنگ‌ها بر اثر بارندگی‌های ممتد از آب پر شده و با رسیدن به سطح غیرقابل تراوشی مانند سنگ‌های رسی در همان جا متوقف می‌گردد و به شکل چشمه‌سارهای مختلفی در سطح زمین آشکار می‌شود. بدیهی است متناسب با خارج شدن آب از این چشمه‌ها سطح آب‌های زیرزمینی افت کرده و پائین می‌رود. قاعدتاً سطح آب‌های زیرزمینی در فصل‌های مرطوب بالا آمده و برعکس در فصل‌های خشک پائین می‌رود ولی هیچگاه از سطح معینی بالاتر یا پائین‌تر نخواهد رفت. پائین‌ترین سطح آب زیرزمینی هر منطقه را سطح آب دائمی آن منطقه می‌نامند.

۲- در شکل زیر، نوع آبخوان‌های الف و ب را مشخص کنید.



۱- چاه‌های شماره یک و دو چه تفاوتی با یکدیگر دارند؟

چاه شماره ۲ چاه آرتزین می‌باشد یعنی آب با فشار بیرون می‌آید زیرا چاه به لایه تحت فشار وصل شده است ولی شماره ۱ چاه معمولی است و آب با فشار بیرون نمی‌آید چاه به آبخوان آزاد متصل شده است و این آبخوان تحت فشار نیست. در چاه شماره ۲ سطح پیزومتريک بالاتر از سطح زمین است و در نتیجه آب خود به خود از دهانه بیرون می‌ریزد ولی در چاه شماره ۱ سطح پیزومتريک پایین‌تر از سطح زمین است و آب خود به خود بالا نمی‌آید.

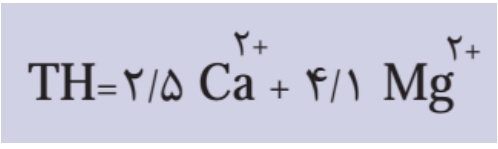
گفت و گو کنید صفحه ۵۶

در مناطق خشک، هر چقدر بهره برداری از آب‌های زیرزمینی بیشتر باشد، کیفیت آب، نامطلوب‌تر است.

دلیل آن را توضیح دهید.

درسفره‌های آب زیرزمینی همیشه آب شور به دلیل سنگین‌تر بودن در زیرمنابع آب شیرین قرار دارند. با افزایش بهره‌برداری بی‌رویه از آب‌های زیرزمینی، منابع آب شیرین تمام شده و آب شورتر و شورتر می‌گردد و...

سختی آب، به علت نمکهای محلول در آن است. یونهای کلسیم و منیزیم، به عنوان فراوان ترین یون های موجود در آب، ملاک تعیین سختی آب هستند.



TH:سختی کل (میلی گرم در لیتر کلسیم کربنات)
 نمونه آبی دارای ۵۰ میلیگرم در لیتر کلسیم و ۳۵ میلی گرم در لیتر منیزیم است. سختی کل آب چقدر است؟ تحقیق کنید که آیا

این آب برای شرب مناسب است؟

$$50 \times 2,5 = 125$$

$$35 \times 4,1 = 143,5$$

$$\text{نتیجه} = 268,5$$

سختی آب (کربنات کلسیم mg/lit)	55 - 5	100 - 56	200 - 101	500 - 201
نوع آب	سبک	سختی کم	متوسط	خیلی سخت

باتوجه به عدد به دست آمده و جدول میزان سختی آب خیلی سخت می باشد. این آب برای شرب اصلا مناسب نیست.

فکر کنید صفحه ۵۷

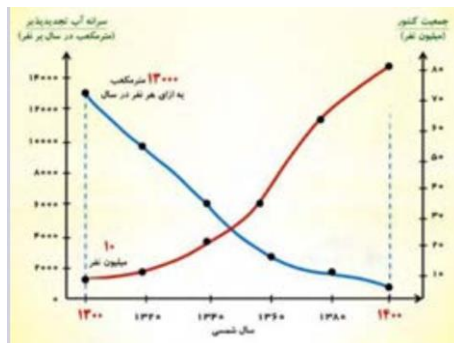
مقدار املاح موجود در آب دو چاه او ۲ شکل رو به رو را با هم مقایسه کنید.



چاه شماره ۲ به دلیل نزدیک بودن به نواحی کوهستانی و منطقه تغذیه مقدار املاح معدنی آن کمتر و آب شیرین تر است ولی چاه شماره ۱ به دلیل دور بودن از منطقه تغذیه و حرکت آب در مسیر طولانی و ترکیب شدن املاح معدنی در طول مسیر، مقدار املاح معدنی آن بیشتر است و...

نمودار روبه رو، تغییرات سرانه آب تجدیدپذیر و جمعیت کشور در قرن اخیر را نشان میدهد. نمودار را

تفسیر کنید.



در سال ۱۳۰۰ هجری شمسی سرانه آب تجدید پذیر برای ۱۳۰۰ مترمکعب به ازای هرنفردریک سال بوده است ولی متأسفانه این رقم در سال ۱۴۰۰ هجری خورشیدی به کمتر از ۲۰۰۰ مترمکعب رسیده است این رقم یعنی فاجعه و این رقم یعنی نابودی سرزمین ایران در آینده و این رقم یعنی در آینده هیرانی برای زنده ماندن آبی در این سرزمین ندارد. کاهش مصرف سرانه آب رابطه مستقیم با افزایش جمعیت در کشور دارد. در سال ۱۳۰۰ هجری شمسی جمعیت کشور ۱۰ میلیون نفر و در سال ۱۴۰۰ به بیش از ۸۰ میلیون نفر خواهد رسید و این زنگ هشدار است برای مسئولین که جلوی افزایش بی رویه جمعیت را با سیاست های درست بگیرند و تبلیغ افزایش جمعیت و فرزند آوری را نکنند زیرا با افزایش جمعیت کشور ما زودتر به فنا و نیستی می رسد و....

جمع آوری اطلاعات صفحه ۵۸

در منابع جستجو کنید و به پرسش های زیر پاسخ دهید:

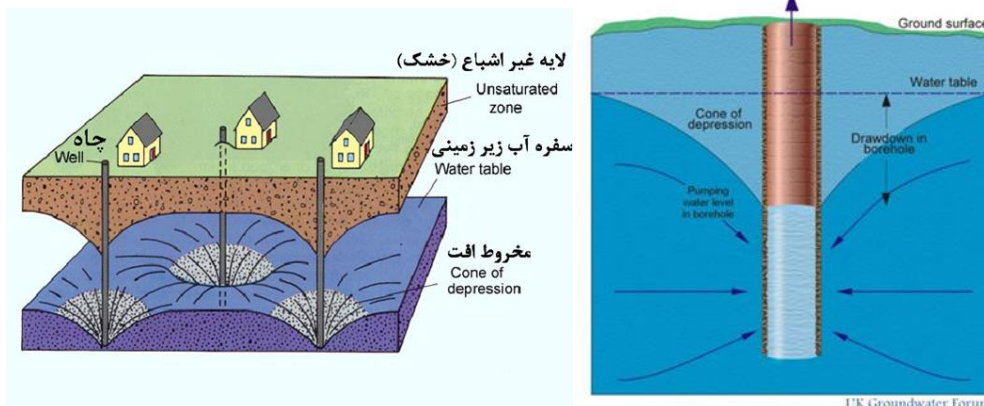
پرمصرف ترین و کم مصرف ترین استان کشور از نظر مصرف آب تجدیدناپذیر، کدام استان ها هستند؟
پرمصرف ترین استان کشور استان تهران است زیرا بیش از ۲۵ درصد جمعیت کشور در این استان زندگی می کنند و آب زیادی را مصرف می کنند و...

آیا محل سکونت شما در محدوده دشت های ممنوعه واقع شده است؟

این فعالیت بستگی به استان محل زندگی تان دارد.

گفت و گو کنید صفحه ۵۹

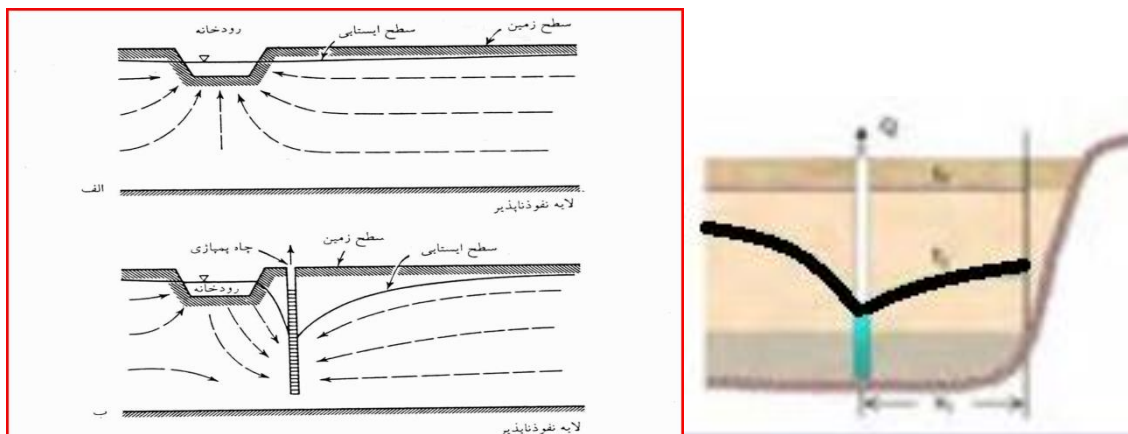
ابتدا به این شکل نگاه کنید:



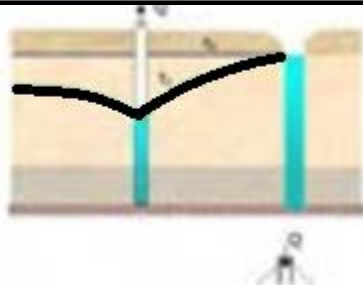
هنگام آبکشی از چاه سطح ایستابی یا پیزومتریک به صورت یک فرورفتگی مخروطی شکل است که راس آن در چاه وقائده آن در سطح ایستابی یا پیزومتریک اولیه واقع است. این فرورفتگی را اصطلاحاً مخروط افت می گویند.

۱- شکل های رو به رو، گسترش مخروط افت چاه در اثر بهره برداری و تلاقی آن با یک لایه نفوذناپذیر و یک رودخانه را نشان می دهد. در مورد تأثیر آنها بر روی شکل مخروط افت و میزان آب ورودی به چاه گفت و گو کنید.

اگر در این چاه آب را به شدت پمپاژ شود موجب جریان انحنایی آب های زیرزمینی از اطراف به طرف چاه می شود و باعث می شود آب رودخانه هم از طریق جریان انحنایی به طرف چاه شده و آب رود را کم می کند و اگر پمپاژ آب در چاه ادامه یابد به دلیل برخورد چاه به یک لایه نفوذناپذیر کم سطح ایستابی آبخوان پایین رفته و میزان آب چاه کاهش می یابد تا جایی که چاه خشک می شود و...



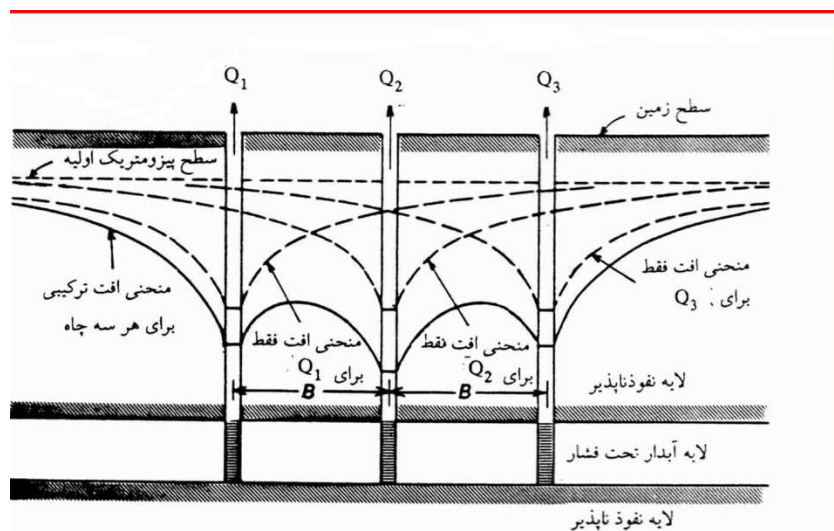
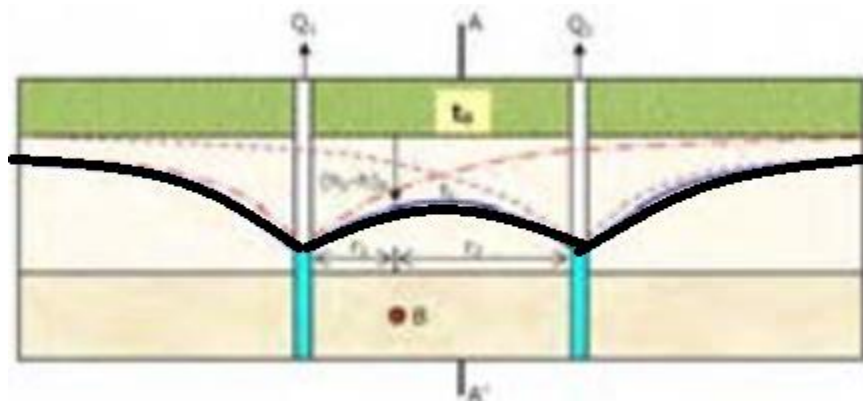
۲- اگر مخروط افت چاه با یک منبع آلاینده مانند یک چاه فاضلاب برخورد کند، چه اتفاقی می افتد؟



در این شکل مخروط افت چاه با یک چاه فاضلاب برخورد کرده است. در اثر جریان انحنایی آب که از چاه فاضلاب به طرف راس مخروط افت چاه انجام می شود فاضلاب وارد چاه شده و موجب آلودگی آب چاه و آبخوان می شود....

۳- شکل زیر، تلاقی مخروط افت دو چاه بهره برداری با یکدیگر را نشان می دهد. در مورد تأثیر این تلاقی بر روی میزان افت سطح ایستابی و دبی چاه ها گفت و گو کنید.

در این شکل مخروط افت دو چاه با یکدیگر تلاقی پیدا کرده اند. مقدار آب در هر دو چاه افت می کند. اگر یکی از چاه ها آب را پمپاژ کند در چاه کناری آب چاه افت می کند زیرا مخروط افت دو چاه با یکدیگر تلاقی پیدا کرده اند و...



کاوش کنید صفحه ۶۰

فرونشست دشت ها، چه پدیده های مخربی را می تواند به همراه داشته باشد؟

نشست زمین باعث ایجاد شکاف های عمیق در سطح زمین، کج شدن لوله های چاه، خرابی ساختمان ها و لوله زائی چاه ها می گردد. لوله زائی به پدیده ای گفته می شود که در آن به دلیل نشست زمین قسمتی از لوله چاه به خارج از سطح زمین رانده می شود.

تغذیه مصنوعی چیست و چگونه انجام می شود؟

تغذیه مصنوعی را می توان عملیات طراحی شده انسان برای انتقال آب از سطح زمین به داخل لایه آبدار، تعریف کرد.

هدف های تغذیه مصنوعی:

۱- کنترل رژیم آب شناسی ناحیه ای

۲- ذخیره آب

۳- کنترل کیفیت آب

روش های تغذیه مصنوعی

۱- روشهای افزایش تراوش

در این روش با انجام عملیاتی که بر روی ناهمواری سطح زمین، شیب، پوشش گیاهی و ... انجام می گردد میزان تراوش آب به زمین افزایش داده می شود.

۲- روشهای پخش سطحی

در این روش آب به سمت حوضچه ها یا استخرهای ساخته شده منحرف میشود تا از کف نفوذپذیر آنها به داخل زمین تراوش کند.

۳- تغذیه مصنوعی به وسیله چاهها

در این روش آب از طریق چاههای آبکشی معمولی یا چاههای تغذیه ای که به همین منظور حفر میشود، وارد زمین می گردد و باعث بالا آمدن سطح ایستابی میشود.

۴- تغذیه مصنوعی به وسیله قناتها

تغذیه مصنوعی به روش تزریق کردن آب در مجاری قناتهای خشک شده انجام میگردد.

۵- تغذیه واداری

تاسیسات استخراج آب زیر زمینی به صورت یک گالری یا رشته ای از چاههای کم عمق در فاصله نسبتاً نزدیکی از یک رودخانه یا دریاچه و به موازات آن قرار داده می شود و با استخراج آب از این تاسیسات، سطح ایستابی پایین میرود و در نتیجه موجب واداشتن حرکت آب به طرف سفره آب زیرزمینی میشود.

یادآوری صفحه ۶۲

در گذشته، با هوازدگی و انواع آن آشنا شدید. در این باره به پرسش های زیر پاسخ دهید:

۱- جنبه های مثبت و منفی هوازدگی را بیان کنید.

دراثرهوازدگی خاک و بسیاری از منابع معدنی به وجود می آیند مانند بوکسیت.

هوازدگی اگر به شکل طبیعی باشد جنبه منفی ندارد ولی اگر به وسیله فعالیت های انسان، هوازدگی تشدید شود آثار زیانباری به دنبال دارد مانند افزایش فرسایش خاک و پرت شدن دریاچه پشت سدها در اثر تشدید هوازدگی و فرسایش و...

۲- هر یک از تصاویر زیر، کدام نوع هوازدگی را نشان می دهد؟



الف-هوازدگی فیزیکی

ب-هوازدگی شیمیایی با باران اسیدی

پ-هوازدگی شیمیایی با گیاهان

ت-هوازدگی فیزیکی با حیوانات

جمع آوری اطلاعات صفحه ۶۴

درباره خاک مناطق مختلف آب و هوایی، اطلاعات جمع آوری و جدول زیر را کامل کنید

خاک مناطق	مقدار هوموس	ضخامت خاک
معتدل	زیاد	زیاد
حاره ای	کم (به دلیل شسته شدن هوموس ها به وسیله بارش زیاد)	خیلی زیاد
جنب قطبی	خیلی کم	خیلی کم
بیابانی	کم	کم

فکر کنید صفحه ۶۴

در هر یک از تصاویر زیر که نمونه ای از فرسایش زمین را نشان می دهد، کدام عامل فرسایشی،

دخالت بیشتری دارند؟



ب



الف

در این دو تصویر باد نقش بیشتری در فرسایش دارد ولی عامل اصلی چنین چشم اندازهایی فرسایش آبی - بادی است در گذشته در این مناطق باران زیادی می باریده است و در اثر وقوع سیلاب های سهمگین، شیارهایی به وجود آمده است و سپس با کاهش باران و بیابانی شدن منطقه، باد شیارهایی به وجود آمده را تغییر داده است و هنوز این عمل ادامه دارد و شیارها را فرسایش می دهد.

گفت و گو کنید صفحه ۶۵

درباره اثرات مثبت و منفی فعالیت های انسان در فرسایش خاک گفت و گو کنید.

تحقیقات جدید نشان می دهد انسان هم اکنون مهمترین عامل فرسایش خاک های سطحی زمین محسوب می شود و نقش تخریبی آن در این زمینه از نقش عوامل طبیعی بیشتر است. روند فرسایش خاکهای سطحی زمین توسط انسان هم اکنون بین ده تا ۱۵ برابر سریعتر از همین فرایند به شکل طبیعی است.

نقش انسان در فرسایش زمین از مدتها قبل توسط محققان شناسایی شده اما بروس ویلکینسون زمین شناس این دانشگاه و همکارانش در مطالعه ای جدید، میزان فرسایش صورت گرفته توسط انسان را با سایر عوامل طبیعی مقایسه کرده اند.

اطلاعات جمع آوری شده از سرتاسر جهان توسط این محققان نشان می دهد هر سال ۷۵ گیگاتن (۷۵ میلیارد تن) از خاکهای سطحی زمین دچار فرسایش می شود.

به گفته ویلکینسون، تا پیش از آغاز فرسایش زمین توسط انسان، این فرایند به شکل طبیعی و طی میلیونها سال توسط باد، آب و یخچالهای طبیعی به مرور صورت می گرفت اما هم اکنون انسان با شدت بسیار زیاد در حال فرسودن خاک زمین است که به ترتیب، کشاورزی، ساخت و ساز و معدنکاوی مهمترین فعالیت های انسان هستند که سبب فرسایش زمین می شود.

زمین از زمان دوره زمین شناسی فانروزویک در ۵۴۲ میلیون سال قبل تا دوره پلیوسن در ۵ میلیون سال قبل دارای فرسایش سالانه حدود ۵ گیگاتن خاک بوده و از آن تاریخ تا نزدیک به دو میلیون سال قبل با ظهور یخچالهای گسترده در سطح زمین و سپس عقب نشینی آنها فرسایش زمین به رقم سالانه ۱۶ گیگاتن در سال رسیده است.

نرخ کنونی فرسایش طبیعی زمین حدود ۲۱ گیگاتن در سال تخمین زده می‌شود. بیشترین فرسایش طبیعی در نقاط مرتفع زمین رخ می‌دهد به طوری که ۸۳ درصد از رسوبات رودهای جهان از تنها ۱۰ درصد از سطح زمین که ارتفاع بیشتری دارند شسته شده و به پایین آورده می‌شود. این درحالی است که انسان عمل فرسایش را معمولاً در نقاط پست‌تر از خشکی‌های زمین انجام می‌دهد به طوری که ۸۳ درصد از فرسایش مربوط به انسانها در ۶۳ درصد از خشکی‌های زمین رخ می‌دهد.

فکر کنید صفحه ۶۵

هر یک از پیامدهای زیر، مربوط به کدام نوع بارندگی (آرام و کوتاه – آرام و طولانی – شدید) است؟

- نفوذ آب به آبخوان (آرام و طولانی)

- فرسایش خاک (شدید)

- وقوع سیل (شدید)

ایجاد رواناب (آرام و کوتاه)

جمع آوری اطلاعات صفحه ۶۶

در مورد فرسایش خاک و عوامل مؤثر بر آن، اطلاعاتی جمع آوری کنید و به پرسشهای زیر پاسخ دهید.

۱- برای افزایش نفوذپذیری خاک، به منظور کاهش رواناب، چه اقدامی می‌توان انجام داد؟

- افزایش پوشش گیاهی در منطقه و جلوگیری از تخریب پوشش گیاهی در منطقه

- آتش زدن زمین‌های کشاورزی و...

۲- آتش زدن زمین‌های کشاورزی پس از برداشت محصول، چه تأثیری بر فرسایش خاک دارد؟

آتش سوزی هر ساله این محصولات خسارات مالی فراوانی به کشاورزان و اقتصاد جامعه وارد می‌آورد، لذا با توجه به اینکه که محصول گندم بسیار خشک و سریع‌الاشتعال است و وزش باد نیز از عواملی است که موجب تسریع و شدت آتش سوزی می‌شود، همه موارد فوق باعث از بین رفتن یک سال زحمت و تلاش کشاورز و ضرر و زیان به اقتصاد کشورمان می‌گردد. بنا بر این به کشاورزان محترم توصیه می‌گردد که جدا از آتش زدن بقایای بعد از برداشت گندم و جو خودداری نمایند. زیرا بازمانده محصول گندم (سفال گندم) برای زمین مفید و نوعی کود و پوشش محسوب می‌گردد. با آتش زدن سفال گندم باعث فقیرتر شدن زمین خود از نظر مواد آلی و همچنین آب قابل دسترس نشوید

با توجه به وجود بقایای گیاهی به صورت گسترده در مزارع انگیزه‌ها و اهداف مختلفی جهت از بین بردن آن برای کشاورزان وجود دارد که مهمترین این اهداف و انگیزه‌ها به صورت زیر می‌باشد:

- از بین بردن علف‌های هرز باقیمانده در مزارع تا در سال بعد هزینه‌های مبارزه با علفهای هرز کاهش یابد.

- از بین بردن آفات گیاهی و جلوگیری از ایجاد محیط مناسب تکثیر این آفات.

- ایجاد سهولت بیشتر در عملیات کاشت و داشت.

بقایای محصولات زراعی معمولاً توسط کشاورزان یا از مزرعه خارج می‌شوند یا مورد چرای دام قرار می‌گیرند و یا سوزانده می‌شوند. برخی کشاورزان برای رفع مزاحمت بقایای گیاهی راحت‌ترین روش یعنی سوزاندن آنرا انتخاب می‌کنند.

اگرچه آتش زدن در کوتاه مدت و در زمان سریعتر و با هزینه کمتر سبب از بین رفتن علفهای هرز و تا حدی آفات مزرعه می‌شود اما اثرات جبران ناپذیری در کاهش حاصلخیزی خاک و از بین رفتن حشرات مفید و شکارگر دارد. به علاوه، باعث فشردگی خاک در اثر کاهش درصد مواد آلی و رطوبت خاک در نتیجه عبور ماشینهای کشاورزی در هنگام آماده سازی زمین گشته که منجر به افزایش وزن مخصوص ظاهری خاک و کاهش تبدلات گازی خاک و نقصان شدید جمعیت انواع میکروارگانسیم های خاک می‌گردد. همه این موارد عملاً میزان باروری خاک مزرعه را در طی چند سال بعدی بشدت کاهش می‌دهد و هزینه ای به مراتب بالاتر بدنبال دارد. در گذشته های دور با رهاسازی این اراضی کم بازده، بهره برداران به نقاط دیگر روی می‌آوردند اما در زمان حاضر علاوه بر کاهش سطح زیرکشت محدودیت های زیاد دیگری نظیر دسترسی به منابع تولید و اراضی وسیع بکر وجود دارد که باعث کاهش مساحت زمین برای هر کشاورز به دلیل افزایش جمعیت و خرد شدن اراضی در طی فرایند قوانین مربوط به ارث و تفکیک آن وجود دارد.

بقایای گیاهی حداقل چهار نقش اساسی در تولیدات گیاهی بازی می‌کند. اول کاهش فرسایش آبی و بادی، دوم تامین مواد غذایی گیاه، سوم به عنوان یک مالچ فعالیت کرده و میزان هدر رفت آب خاک را کاهش می‌دهد و چهارم تعدیل کننده دمای خاک می‌باشد.

فصل چهارم

بیشتر بیندیشید صفحه ۶۹

با توجه به مورفولوژی منطقه، کدام محل را برای ساخت یک پل بر روی رودخانه پیشنهاد می‌کنید؟



در این شکل نمی‌توان دقیق توضیح داد ولی انتخاب مکان مناسب پل روی رودخانه به معیارهای زیادی همچون اقتصادی، حمل و نقل و ژئومورفولوژی وابسته است. مناسب ترین مکان ها برای احداث سازه پل در یک مطالعه موردی با استفاده از فرآیند تحلیل سلسله مراتبی (AHP) و منطق فازی در محیط GIS شناسایی

می شوند. ابتدا طول رودخانه بر اساس خصوصیات مشابه به چندین بازه تقسیم بندی می شود که هر کدام، یک گزینه برای انتخاب محل ساخت پل می توانند باشند. سپس معیارهای اصلی مکان یابی معرفی و با استفاده از آنها، لایه های مختلف GIS تعریف می شوند. گزینه هایی که حداقل معیارهای فنی مورد نیاز برای ساخت پل را تامین نمایند، حذف می شوند. گزینه های باقیمانده نسبت به هر یک از سه معیار تعریف شده وزن دهی می شوند. معیارها نیز با توجه به نظرات سه کارشناس خبره با یکدیگر مقایسه زوجی می شوند. بمنظور در نظر گرفتن عدم قطعیت مقایسات زوجی از منطق فازی استفاده می شود. سرانجام، بهترین گزینه ها بر اساس روش فرآیند تحلیل سلسله مراتبی فازی رتبه بندی می شوند. همچنین با توجه به وجود یک پل قدیمی در منطقه، دو سناریوی وجود یا عدم وجود پل قدیمی نیز بررسی می شود.

جمع آوری اطلاعات صفحه ۷۳

در مورد نزدیک ترین سد به محل سکونت خود، اطلاعاتی جمع آوری کنید و به موارد زیر پاسخ دهید:

۱- هدف از احداث سد

۲- نوع سد

۳- جنس سنگ پی سد

با توجه به محل زندگی خود پاسخ دهید.

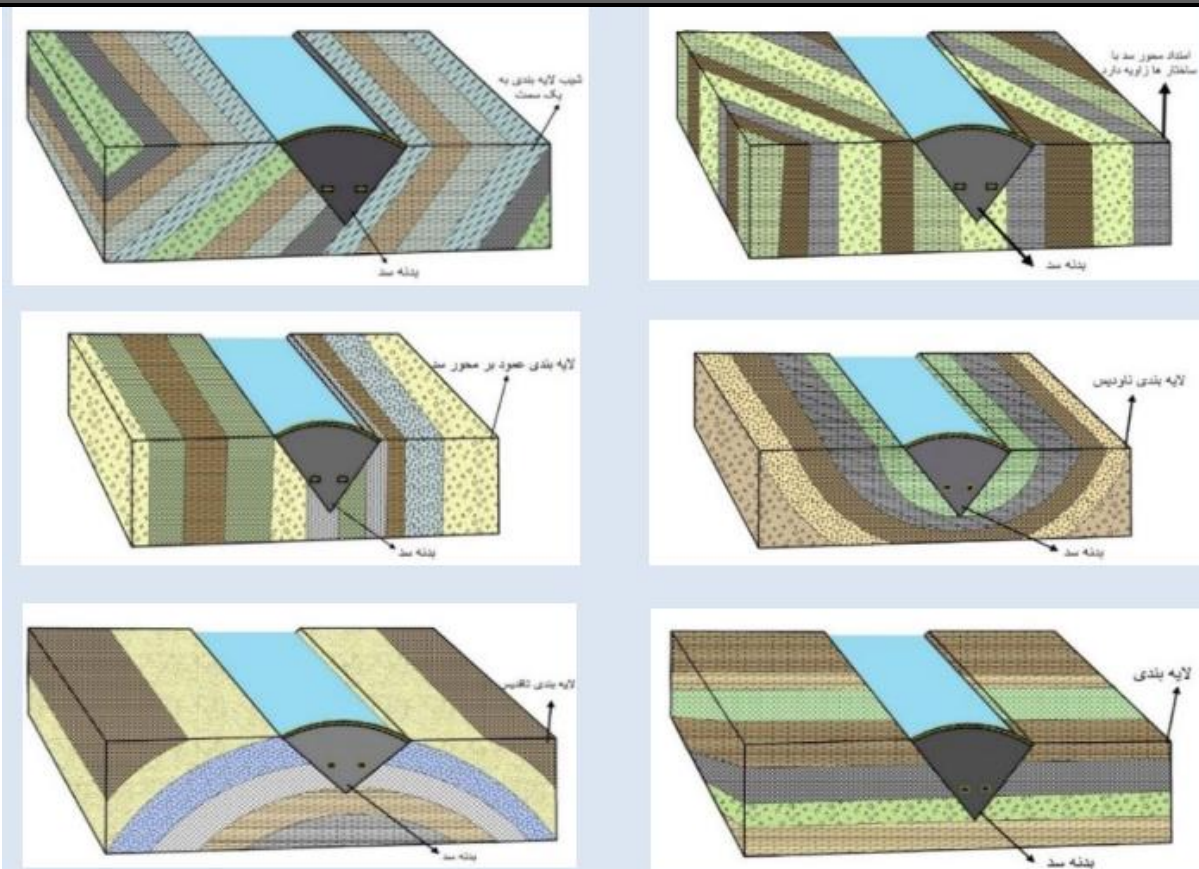
البته می توانید به آدرس زیر هم مراجعه کنید.

<http://daminfo.wrm.ir/>

<https://fa.wikipedia.org/wiki/>

با هم بیندیشید صفحه ۷۴

شرایط مختلفی از وضعیت شیب و امتداد لایه های سنگی و موقعیت انتخابی برای ساختگاه سد، در شکل زیر نمایش داده شده است. با در نظر گرفتن فرار آب و پایداری بدنه سد، حالت مطلوب و حالت نامطلوب را برای احداث سد مشخص کنید.



-اگر سدی بدون مطالعه و بررسی کافی زمین‌شناسی احداث گردد، بی شک تنها یک فاجعه اقتصادی و محیط زیستی از خود بجا می‌گذارد. تمامی نواحی که دریاچه سد آن‌ها را می‌پوشاند و همچنین زیر سازه سد باید بطور دقیق مورد گمانه زنی‌های کارشناسی قرار گیرد. وجود تنها یک بخش آهکی در اطراف دریاچه باعث خواهد شد تا آب به تدریج بخش آهکی را از بین برده و به خارج راه نفوذ پیدا کند یا در دراز مدت برهم ریختن محاسبه‌ها را سبب شود. نظیر چنین واقعه‌ای برای سد لار افتاد و این سد در حال حاضر از یک سوم ظرفیتش بهره‌برداری می‌نماید.

مطالعات زیست‌محیطی به مجموعه مطالعاتی گفته می‌شود که اثر تغییرات ایجاد شده توسط سد و دریاچه آن و همچنین تقلیل آب پایین دست را بر روی زیست‌بوم منطقه شناسایی، محاسبه و هزینه یابی می‌کنند. علاوه بر این، این اثر باید بر روی شهرها و روستاها و سایر المان‌ها (همچون آثار باستانی در مورد سد سیوند) در کنار ارزیابی تاثیرها بر محیط زیست مورد بررسی قرار گیرند تا در محاسبه‌های سود و زیان کلی پروژه، و گزینش‌های پایانی در نظر گرفته شوند؛ که در کنار این شناخت با استفاده از مدل سازی اطلاعات ساختمان می‌توان به بهینه‌ترین برنامه تعمیرات و نگهداری هر ساختمانی از جمله سازه سد رسید که بهره‌برداران را در راهبری این گونه سرمایه‌های ملی یاری می‌دهد.

-عوامل مؤثر در انتخاب ساختگاه سد

موفقیت یک سد در درجه اول به انتخاب صحیح ساختگاه آن بستگی دارد. در انتخاب محل یک سد لازم است که دو شاخص اصلی در نظر گرفته شود،

۱- تأمین پایداری بدنه و مخزن

۲- آب بندی محدوده احداث سد .

-عوامل متعددی در انتخاب ساختگاه یک سد مؤثر می باشند که مهمترین آنها عبارتند از : شرایط توپوگرافی، ساختارهای زمین شناسی و وضعیت حوزه آبریز . تأثیر هر کدام از این عوامل در انتخاب ساخت گاه سد به شرح زیر می باشد.

شرایط توپوگرافی

ناهمواری های سطح زمین و مورفولوژی آن معمولاً توسط نقشه های توپوگرافی نشان داده می شوند. بهترین موقعیت برای احداث سد معمولاً جایی انتخاب می شود که یک دره تنگ به وسیله یک دره باز در سمت بالادست دنبال شود. دره تنگ معرف استقامت بالای سنگ می باشد که در مقابل جریان آب رودخانه مقاومت بیشتری را نشان داده و دره باز محل مناسبی جهت مخزن می باشد که ظرفیت ذخیره سازی آب را بالا می برد.

تأثیر شرایط توپوگرافی در انتخاب ساختگاه سد

ساختار زمین شناسی

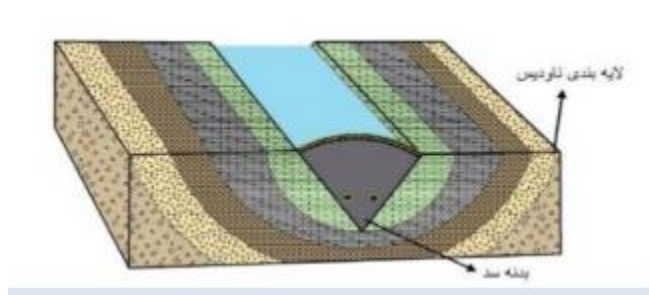
ساختار زمین شناسی یک محل به وسیله عواملی همچون امتداد و شیب لایه ها، ساختمان های چین خورده، گسلها و درزه ها کنترل می شود که به شرح زیر مورد بررسی قرار می گیرند:

امتداد لایه ها

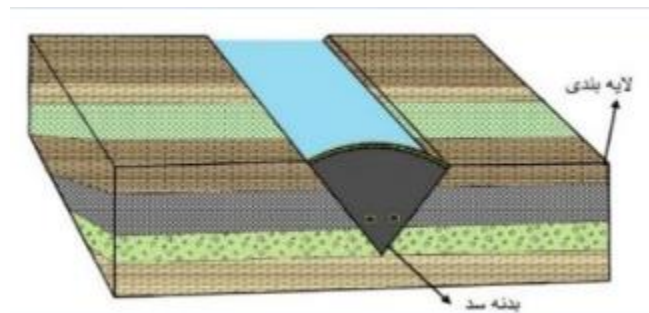
در محل هایی که لایه بندی سنگ مشخص باشد بهتر است محل احداث سد جایی انتخاب شود که محور سد موازی با امتداد لایه ها و یا دارای زاویه کمتری با امتداد لایه ها باشد.

شیب لایه ها

به طور کلی بهتر است محل احداث سد جایی انتخاب شود که جهت شیب لایه ها به سمت بالا دست باشد یا به عبارت دیگر جهت شیب لایه ها در جهت عکس جریان آب باشد.



در این شکل حالت نامطلوب برای احداث سد دیده می شود به دلیل وجود گسل فرار آب وجود دارد و جهت محور سد با سطح لایه بندی موازی نیست و...



در شکل ب حالت مطلوب دیده می شود زیرا لایه بندی ها با جهت محور سد موازی است. در محل هایی که لایه بندی سنگ مشخص باشد بهتر است محل احداث سد جایی انتخاب شود که محور سد موازی با امتداد لایه ها و یا دارای زاویه کمتری با امتداد لایه ها باشد. علت این انتخاب را می توان در موارد زیر توجیه کرد:

الف) در صورتی که محور سد دارای زاویه کمتری با امتداد لایه ها باشد امکان دور ماندن از نقاط ضعف بیشتر است.

لازم به ذکر است که نقاط ضعف مورد بحث را می توان به شرح زیر بیان داشت:

- لایه های سنگی سست و ضعیف مانند سنگهای شیلی و مارنی

- لایه های سنگی دربر گیرنده حفرات و دیگر پدیده های کارستی حاصل از انحلال توده سنگ

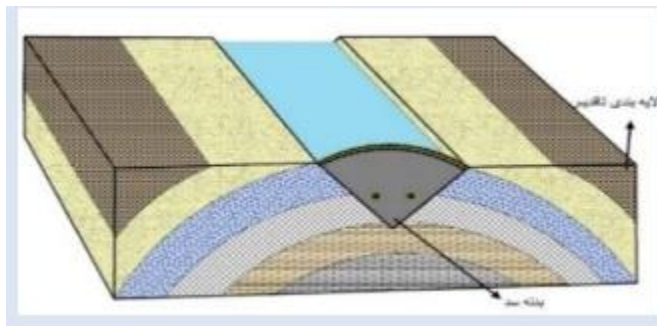
- لایه های سنگی کاملاً خرد شده و یا کاملاً هوا زده شده .

گسلها و مناطق گسله که عموماً با خردشدگی و شکستگی های زیاد همراه می باشد .

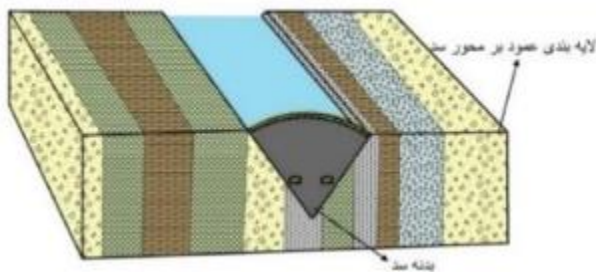
ب) در صورتی که محور سد موازی با امتداد لایه ها باشد سنگهایی با شرایط و خصوصیات یکسان در محدوده تکیه گاه ها و پی سد قرار می گیرند. بنابراین سنگها رفتار مشابهی در طول محل بار گذاری خواهند داشت و پایداری سد بیشتر خواهد بود. در چنین شرایطی طراحی سد نیز ساده تر خواهد بود .

ج) در صورتی که محور سد موازی با امتداد لایه ها باشد امکان فرار آب کمتر است. دلیل آن به این صورت است که لایه ها در جهت عمود بر مسیر جریان آب قرار داشته و نفوذ پذیری در آن جهت کاهش می یابد. د- به طور کلی بهتر است محل احداث سد جایی انتخاب شود که جهت شیب لایه ها به سمت بالا دست باشد یا به عبارت دیگر جهت شیب لایه ها در جهت عکس جریان آب باشد. در این شکل به نظری رسد شیب لایه ها به طرف بالا دست می باشد.

البته در شکل ب به دلیل وجود گسل فرار آب وجود دارد.



در این شکل حالت نامطلوب برای احداث سد دیده می شود به دلیل وجود گسل فرار آب وجود دارد و جهت محور سد با سطح لایه بندی موازی نیست و...



در این شکل حالت نامطلوب برای احداث سد دیده می شود به دلیل وجود گسل فرار آب وجود دارد و جهت محور سد با سطح لایه بندی موازی نیست و شیب هم مناسب نیست.

جمع آوری اطلاعات صفحه ۷۴

در مورد علت فرار آب از مخزن سد لار اطلاعات جمع آوری کنید و در کلاس ارائه دهید.

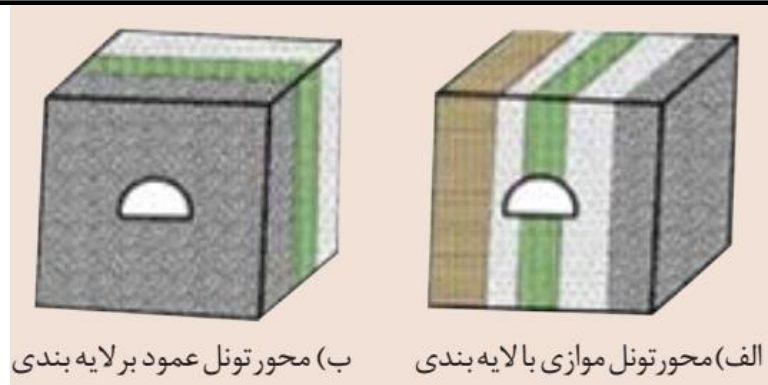
یکی از دلایل خالی بودن ۹۵ درصد مخزن سد لار، کاهش آوردهای رودخانه ای به تبع کاهش بارش هاست. اما دلیل اصلی چیز دیگری است. حدود ۳۵ سال از آگیری این سد می گذرد و در این مدت بخشی از بدنه مخزن سد نشستی دارد. آب از رودخانه های بالادست جریان یافته و به مخزن سد لار می ریزد اما مخزن این سد نمی تواند بخش قابل توجهی از این آب را نگه داشته و با فرار آب از بدنه مخزن این سد، چشمه های کوچک و بزرگ در پایین آن از دل خاک بیرون آمده و آب فرار کرده از این چشمه ها جاری می شود.

برآورد بلند مدت (۲۵ ساله) نشان می دهد که حداقل فرار آب از مخزن سد لار ۳ مترمکعب در ثانیه و حداکثر آن حدود ۱۳ مترمکعب در ثانیه است. متوسط فرار آب این سد در طول سال حدود ۷ مترمکعب در ثانیه برآورد می شود. از اینرو، به طور متوسط در یک ۲۴ ساعت، حدود ۶۰۵ هزار مترمکعب آب از مخزن سد لار به پایین دست نشت می کند. این رقم در طول یکسال حجم ۲۲۰ میلیون مترمکعب آب شیرین را شامل می شود که رقم بسیار بزرگی است.

در طرح علاج بخشی سد لار، مقرر شده بود تا با جمع آوری آب از چشمه های پایین دست و محل های فرار آب، تونلی به طول ۲۹ کیلومتر جهت انتقال فرار آب سد لار به سد لتیان احداث شود. پیش بینی ها مبنی بر این است که با احداث این تونل بخش قابل توجهی از فرار آب سد لار به حجم ۱۷۰ میلیون مترمکعب در سال جمع آوری شده و به سد لتیان منتقل می شود.

با هم بیندیشید صفحه ۷۵

با توجه به شکل های روبه رو، احداث تونل در کدام مناسب تر است؟ دلیل خود را بیان کنید.



البته با شکل هایی که آمده نمی توان بطور دقیق بررسی کرد والبته تونل ها انواع مختلف دارند ولی می توان تا حدودی به شکل زیر مطرح کرد:

در شکل الف: اگر لایه بندی با جهت تونل یکی باشد و این لایه زیاد سخت نباشد حفرتونل راحت تر و با هزینه کم تری انجام می شود و در شکل ب محور تونل عمود بر لایه بندی است و احتمالاً بوسی از لایه ها بسیار سخت می باشند و حفرتونل را با مشکلاتی روبه رو می کند و هزینه ها را افزایش می دهد.

کاوش کنید صفحه ۷۶

دلیل ناپایداری تونل در زیر سطح ایستابی را بررسی کنید.

اگر تونل در زیر سطح ایستابی باشد به دلیل ورود آب به داخل تونل مشکلات فراوانی را ایجاد می کند و...

با هم بیندیشید صفحه ۷۸

اثرات مثبت و منفی پوشش گیاهی، در پایدارسازی دامنه ها چگونه است؟

پوشش گیاهی نقش مهمی در پایدارسازی دامنه ها دارد و موجب جلوگیری از فرسایش دامنه ها می شود و... و به نظرم افزایش پوشش گیاهی نقش منفی در پایدارسازی دامنه ها ندارد.

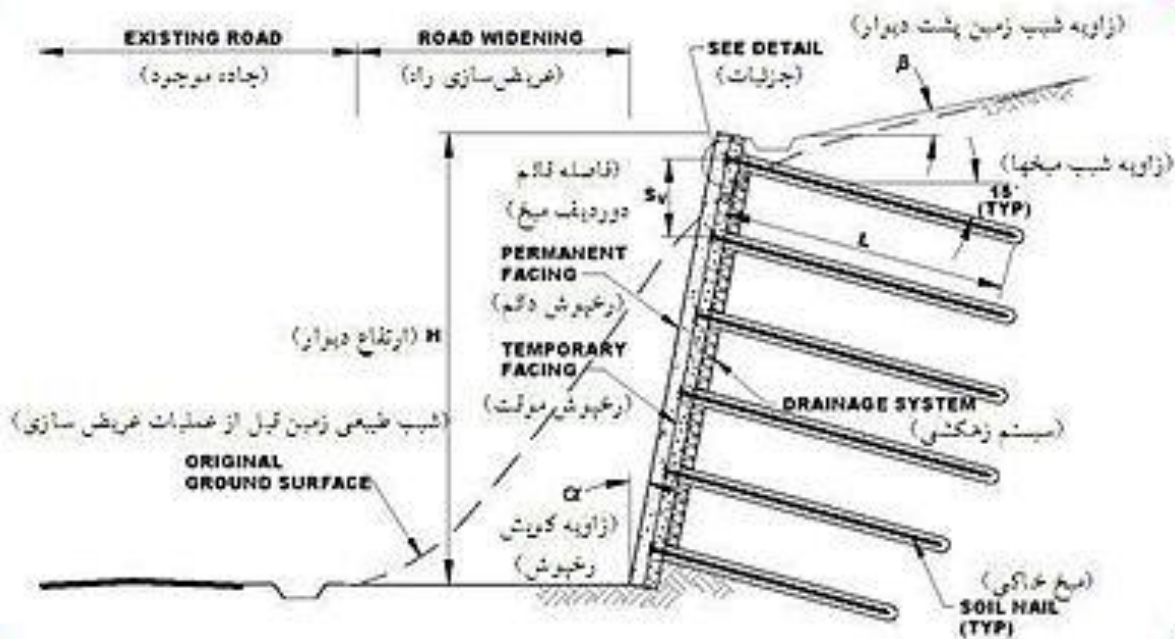
با هم بیندیشید صفحه ۷۹

یکی از روش های پایدارسازی دامنه ها و ترانشه ها، میخکوبی (nailing) است که در شکل زیر نشان داده شده است. در مورد این روشها در کلاس بحث کنید.



پایدارسازی شیب به روش میخکوبی

میخکوبی خاک (به انگلیسی: Soil Nailing) جزو بهترین روش های به کار بسته شده برای پایدارسازی شیب های خاکی است. نحوه کلی کار در این روش، حفر شبکه ای از سوراخها در دیواره خاکی، قرار دادن میلگردهای فولادی و در نهایت پر نمودن فضای خالی سوراخها با استفاده از دوغاب سیمان است.



مراحل اجرای دیوارهای میخکوبی شده:

مرحله ۱. گودبرداری:

گودبرداری اولیه تا عمقی صورت می‌پذیرد که دیواره گودبرداری شده بتواند در مدت کوتاهی بین ۲۴ تا ۴۸ ساعت پایداری خود را حفظ کند. عمق گودبرداری جهت تأمین کوتاه مدت پایداری در بین ۱ تا ۲ متر می‌باشد. عرض گودبرداری انجام شده حداقل باید به اندازه‌ای باشد که بتوان ابزارهای لازم را در محل مستقر کرد. عرض مش فولادی در تعیین عرض گودبرداری مؤثر است، در عین حال، خاکبرداری در عرض‌های بزرگ‌تر از ۱۲ متر موجب افزایش تغییر شکل‌های افقی می‌گردد. پانل‌های خاکبرداری، یک در میان برداشت می‌شوند.

مرحله ۲. حفاری چال برای اجرای میخ:

چال‌های مورد نظر با طول، قطر و شیب مشخص اجرا می‌شوند و امتداد آن‌ها تقریباً افقی می‌باشد.

مرحله ۳. نصب میخ و دوغاب ریزی:

در این مرحله میلگردهای فولادی (میخ‌ها) در چال‌های پیش‌حفاری شده کار گذاشته می‌شوند. میلگردهای به کار رفته شده اغلب تو پر هستند اما می‌توان از میلگردهای توخالی نیز مطابق به آیین‌نامه اجرایی وزارت راه آمریکا مربوط به میخکوبی با میلگردهای توخالی نیز استفاده کرد.

جهت آنکه راستای میلگردها دقیقاً در امتداد محور استوانه چال‌های حفر شده باشد از ابزاری به نام مرکز‌کننده استفاده می‌شود. میلگردها در داخل مرکز‌کننده‌ها فرورفته و سپس در داخل چال، جاگذاری می‌شوند. چنانچه شرایط خوردگی شدید باشد از غلاف‌های پلاستیکی مخصوصی جهت محافظت از میخ‌ها استفاده می‌شود. در همین حال یک لوله دوغاب ریزی به انتهای چال رفته و فضای خالی باقی مانده را از انتها تا ابتدای چال دوغاب ریزی می‌کند. شیب چال‌های حفر همان‌طور که پیش از این نیز گفته شد به مقدار ملایمی در پایین سطح افق قرار دارد؛ لذا دوغاب با نیروی وزن وارد شده بر آن به خوبی در حفره‌ها جا می‌گیرد. به چنین روشی، روش دوغاب ریزی ثقیلی گفته می‌شود که جزء

روش‌های متداول در میخکوبی به حساب می‌رود. پیش از مرحله ۰ بعدی، نوارهای زهکشی ژئوکامپوزیتی بر روی سطح گودبرداری و به طور تقریبی بین شبکه ۰ میخ‌های بیرون آمده کار گذاشته می‌شود. نوارهای زهکشی تا قسمت تحتانی گودبرداری ادامه می‌یابد تا زه‌آب جمع شده را به پاشنه ۰ دیوار هدایت و خارج کند.

مرحله ۴. ساخت پوشش شاتکریت موقتی:

قبل از آنکه مرحله بعدی گودبرداری شروع شود شاتکریت جهت یک‌پارچه سازی ابتدای میخ‌ها و کل سیستم بر روی سطح گود پاشیده می‌شود. نحوه ۰ متداول اجرا به این صورت است که از یک پوشش شاتکریتی با میزان ملایمی از تسلیح فولادی استفاده شود. تسلیح فولادی اغلب شبکه مش‌بندی شده از سیم‌های به هم جوش خورده است. طول پانل‌های مش فولادی جوش خورده باید به اندازه‌ای باشد که هر پانل با پانل کنار تا اندازه‌ای همپوشانی داشته باشد. در این مرحله لایه نازک بتن شاتکریت بر روی سطح گود پاشیده می‌شود. بعد از آن یک صفحه پلیت فولادی بر روی نوک میخ کار گذاشته می‌شود. از واشر و مهره‌های شش گوش برای اتصال میخ به صفحه پلیت استفاده می‌شود. توجه شود که مدت ۷۲ ساعت لازم است تا بتن شاتکریت به مقاومت سه روزه تقریباً معادل ۱۰/۵ مگاپاسکال برسد و بعد گودبرداری مرحله ۰ بعد انجام شود.

مرحله ۵. ساخت دیواره میخکوبی شده تا عمق مورد نظر:

مراحل ۱ تا ۴ تا عمق مورد نظر جهت گودبرداری ادامه می‌یابد. در هر مرحله از گودبرداری، نوارهای زهکشی قائم که در انتهای گود به صورت لوله‌ای جمع شده‌است، در امتداد بعدی گودبرداری گسترده می‌شود. سپس پانل‌های مش‌بندی جدید بر روی پوشش کار گذاشته می‌شود. شاتکریت با همپوشانی قابل قبولی نسبت به لایه ۰ بالایی شاتکریت بر روی دیوار پاشیده می‌شود. در انتهای گود نوار زهکشی دوباره لوله شده تا برای مرحله بعدی استفاده شود.

مرحله ۶. ساخت پوشش دائمی و نهایی:

وقتی گودبرداری تا عمق مورد نظر ادامه یافت، سیستم میخکوبی شده در تمام سطح دیوار نصب شد و نیز آزمایش‌های لازم جهت اطمینان از عدم رخداد هر نوع گسیختگی انجام گرفت، ممکن است پوشش نهایی و دائمی ساخته شود. همان‌طور که گفته شد از پوشش دائمی در شرایطی استفاده می‌شود که از دیوار میخکوبی جهت سیستم پایدارسازی دائمی گود بهره گرفته شده باشد. برای پوشش‌های دائمی ممکن است از بتن مسلح درجا، شاتکریت مسلح یا پانل‌های پیش‌ساخته استفاده شود.

جمع آوری اطلاعات صفحه ۸۰

به چه دلیل از هسته رسی برای ساخت سدهای خاکی استفاده می‌شود؟



مراحل ساخت سد خاکی



هسته رسی یک سد خاکی

سدهای خاکی با هسته رسی می باشند. آب در حین عبور از هسته سد به دلیل نفوذ پذیری بسیار کم، مقدار زیادی از انرژی پتانسیل خود را بدلیل اصطکاک از دست می دهد و در نتیجه مقدار نشست نیز به تناسب کاهش می یابد. این نوع سدها خود می توانند با هسته مرکزی قائم یا هسته شیب دار (مایل) ساخته شوند که انتخاب هر نوع از این هسته ها در یک سد خاکی مزیت ها و معایبی را به همراه دارد. یکی از مسائلی که نوع هسته رسی (مایل یا قائم) در آن نقش دارد، تاثیر متفاوت هر نوع هسته رسی بر پایداری دینامیکی یک سد خاکی میباشد که متاسفانه علی رغم اهمیت بالای این مسئله تا کنون تحقیقات دقیقی در این مورد صورت نگرفته است. در این تحقیق پس از انجام تحلیل دینامیکی با دو روش شبه استاتیکی و دینامیکی مشاهده میشود که یک سد خاکی با هسته رسی مایل رفتار دینامیکی پایدارتری نسبت به یک سد خاکی با هسته قائم دارد.

مشاهده کنید صفحه ۸۱

یک کلوخ را روی سطح صافی قرار دهید و به تدریج روی آن آب بریزید و رطوبت آن را به تدریج افزایش دهید. تغییر شکل آن را در مراحل مختلف مشاهده کنید.

با رختن آب بر روی یک کلوخ، به مرور کلوخ با عمل فرسایش به وسیله آب تبدیل به گل می شود و در آخر تمام کلوخ تمام شده و به رسوبات گلی تبدیل می شود و...

جمع آوری اطلاعات صفحه ۸۹

– گیاهانی را معرفی کنید که می توانند عناصر خاصی را در خود متمرکز کنند.

نیشکر دارای عناصری مانند قندها، پتاسیم، کلسیم و سدیم می باشد.

اسفناج دارای آهن و منیزیم می باشد.

سیب زمینی دارای منیزیم و کلسیم است.

بادام دارای منیزیم است.

– بررسی کنید که ماهی چه عناصری را در بدن خود متمرکز می کند؟

ماهی دارای عناصری مانند کلسیم و فسفر می باشد.

جمع آوری اطلاعات صفحه ۹۳

در مورد ملقمه کردن طلا با جیوه، اطلاعات جمع آوری و در کلاس ارائه کنید.

– ملقمه کردن ؛ روشی است برای استخراج طلا و نقره از کانی های آن ها به وسیله جیوه است . از قرن شانزدهم تا نوزدهم مهمترین روش استخراج طلا بوده است . روش عمل چنین بوده است : کانی طلا و نقره را پس از آسیا کردن ، با جیوه به صورت مخلوط یکنواختی درمی آورند. طلا و نقره با جیوه به صورت ملقمه درمی آید و از ناخالصی جدا می شود. پس از آن به وسیله تقطیر ملقمه در ظرف های آهنی مخصوص جیوه را از آن جدا می کنند تا طلا و نقره به صورت خالص درآید.

طلا در رگه ها و نهشته های آبرفتی وجود دارد و اغلب از سنگها و دیگر مواد معدنی بوسیله استخراج و عملیات گل شویی جدا می گردد. طلا از کانه های آن به روش های سیانیداسیون (Cyaniding) ، ملقمه سازی (Amalgamating) و گداختن (Smelting) استحصال می شود. تصفیه و خالص سازی طلا نیز با الکترولیز آن انجام می گیرد. طلا در آب دریا به مقدار ۲-۱/۰ میلی گرم در تن وجود دارد که هنوز روشی برای استحصال آن یافت نشده است.

روش های کانه آرایی

– کانسنگ های طلا:

روش های مختلفی برای فرآوری کانسنگ های طلا وجود دارد که باید با مطالعاتی که بر روی کانسنگ انجام می شود روش مناسبی برای فرآوری آن انتخاب کرد. اگر طلا بصورت ذخایر آبرفتی باشد برای فرآوری آن روشهای ثقلی مناسبترین روش است، اگر طلا بصورت آزاد یا ناتیو باشد روش ثقلی پیش فرآوری و روش نهایی آمالگاسیون است، اگر بصورت ذرات خیلی ریز در داخل سنگ باشد روش سیانوراسیون قابل توصیه خواهد بود.

اگر طلا بصورت ترکیب با کانی های دیگر باشد فرآوری مشکل تر و پیچیده تر می شود و هزینه سرمایه گذاری لازم برای فرآوری و استحصال کانسارهای پیچیده طلا زیاد می شود. حتی بعضی کانسارهای طلا وجود دارند که هنوز روش فرآوری مناسبی برای آنها پیدا نشده است، در زیر به روش های مختلف فرآوری اشاره می گردد.

-روش آمالگاسیون یا ملقمه سازی:

در طی قرن‌ها روش ملقمه‌سازی عمده‌ترین روش برای جداکردن طلا و نقره آزاد یا طبیعی از کانه‌های حاوی آنها بوده‌است. اساس این روش بر خاصیت جذب طلا و نقره توسط جیوه استوار است. با استفاده از این روش به‌سادگی می‌توان طلا را از دیگر کانی‌های باطله جدا نمود. این روش برای کانسارهایی که طلای آزاد با عیار قابل ملاحظه‌ای دارند کاربرد دارد. در ابتدا از این روش به‌تنهایی استفاده می‌شد ولی بعد از استفاده از روش سیانوراسیون، روش ملقمه‌سازی به عنوان روش مکمل سیانوراسیون به کار برده می‌شود.

-اصول روش ملقمه‌سازی:

عمولا در این روش ماده معدنی تا ۷۵ درصد زیر ۷۵ میکرون (۲۰۰ مش) خرد شده و سپس پالپی با غلظت ۴۰ درصد وزنی جامد تهیه می‌شود. پالپ را داخل یک آسیای گلوله‌ای می‌ریزند و حداقل به اندازه وزن طلا و نقره موجود در ماده معدنی، به آن جیوه اضافه می‌کنند (البته همیشه ۱۰ تا ۲۰ درصد بیشتر از وزن طلا و نقره موجود به آن جیوه اضافه می‌شود). تعداد کمی هم گلوله به آن اضافه می‌کنند و به مدت ۲ تا ۱۲ ساعت آسیا را به کار می‌اندازند.

پس از آنکه طلا و نقره کاملا جذب جیوه شد محتویات آنرا خارج کرده داخل آسیا را کاملا تمیز می‌کنند. در زیر آسیا چند میز که با هم اختلاف ارتفاعی حدود ۱۰ تا ۱۵ سانتی‌متر دارند وجود دارد و سه عدد ظرف جداگانه در بین میزها قرار دارد. محتویات داخل آسیا را با آب به‌داخل اولین ظرف ریخته، ضمن شستشو مواد خارج شده و از اولین ظرف روی اولین میز ریخته و سپس از آن وارد دومین میز می‌گردد.

از ظرف دوم مواد بر روی میز دوم ریخته می‌شود. میز دوم از جنس مس ساخته شده که روی آن جیوه اندود شده‌است هنگامی که پالپ به آرامی از روی میز دوم عبور می‌کند ذرات جیوه حاوی طلا که در کف میز حرکت می‌کنند به میز می‌چسبند. سپس این مخلوط را شستشو می‌دهند تا گل و لای آن کاملا جدا شود، جیوه‌ای که روی میز باقیمانده را جمع‌آوری می‌کنند و بوسیله فیلتر کردن بر روی پارچه ضخیمی آب و جیوه بوسیله فشار هوا تبخیر می‌شود و طلا و نقره باقیمانده بر روی فیلتر جمع‌آوری شده و به بخش ذوب ارسال می‌گردد.

جمع آوری اطلاعات صفحه ۹۵

—خمیر دندان مصرفی شما چه مقدار فلورئور باید داشته باشد؟

پوسیدگی به مرور ترکیبات مینای دندان را تخریب می‌کند. افرادی که مستعد این مشکل هستند، نباید به مسواک زدن روزانه بسنده کنند، بلکه باید از محصولات حاوی فلوراید استفاده کنند. این ترکیب به طور مستقیم روی مینای دندان تاثیر گذاشته و مانع از پوسیدگی دندان می‌شود. برای افراد بزرگسال میزان فلورئور باید بین ۱۰۰۰ تا ۱۵۰۰ پی پی ام (ppm) باشد. فقط در مورد کودکان باید دقت کنیم تا زمانی که کودک، توانایی بیرون ریختن محتویات دهان را پیدا نکرده است از خمیردندان حاوی فلوراید استفاده نکنیم که این زمان حدود ۳ سالگی است.

— آیا مردم ساکن در مناطق مختلف یک کشور باید از یک نوع خمیردندان استفاده کنند؟

خیر خمیردندان‌ها بسیار متفاوت‌اند و مردم با توجه به ساختار بدنی خود و هدفی که دارند خمیردندان مرد نیاز را استفاده کند.

توضیحاتی در مورد انواع خمیردندان در اینجا آورده می‌شود:

خمیردندان‌های ضد پوسیدگی:

خمیردندان‌های حاوی فلوراید، اثر کاهش دهندگی پوسیدگی دندان‌ها را بر عهده دارند. مطالعات نشان می‌دهد اگر شما در سنین کودکی یعنی حدود ۲ سالگی از خمیردندان فلوراید دار استفاده کنید و همچنان به مصرف آن در سنین بزرگسالی ادامه دهید، می‌توانید تا ۴۴ درصد از پوسیدگی دندان‌ها جلوگیری کنید. اگر شما دنبال خرید این خمیردندان‌ها هستید، باید بگوییم که در این نوع خمیردندان‌ها معمولاً فرمول فلوراید و یا کلمه فلوراید دار را به زبان کشور سازنده روی تیوپ خمیر دندان می‌نویسند.

خمیردندان‌های سفید کننده:

این روزها خیلی‌ها به دنبال خرید خمیردندان‌هایی هستند که هر چه بیشتر دندان‌هایشان را سفید کند. از طرفی دیگر شرکت‌های سازنده خمیردندان نیز در رقابت شدید با هم هستند تا خمیردندان‌هایی را ارائه دهند که مشتریان بیشتری را به خاطر خواص سفید کنندگی بیشتر آن، جذب کند.

خمیردندان‌های ضد حساسیت:

بیشتر شرکت‌های تولید کننده خمیردندان در میان محصولات خود، خمیردندان‌های ضد حساسیت را هم به بازار عرضه می‌کنند. این خمیردندان‌ها مخصوص افرادی است که دندان‌های حساسی دارند و با خوردن بستنی یا آب یخ یا چای و قهوه داغ، ناگهان دندان‌هایشان درد شدیدی را احساس می‌کند.

اگر شما هم چنین مشکلی دارید یک تیوپ از این خمیردندان‌ها بخرید، ولی فراموش نکنید این خمیردندان‌ها برای استفاده روزمره و دائمی نیست. به طور معمول باید دو هفته از این خمیردندان‌ها استفاده کنید و بعد از آن تا چند هفته با خمیردندان معمولی دندان‌هایتان را مسواک بزنید. سپس با توصیه دندان پزشک، برای برطرف شدن مشکلاتان، یک یا چند دوره دیگر از این خمیردندان‌ها استفاده کنید.

خمیردندان‌های ضد جرم:

اگر سیگاری باشید، گاهی وسوسه می‌شوید که یک خمیردندان ضد جرم مخصوص سیگاری‌ها را بخرید و از شر جرم‌های روی دندان و تغییر رنگ آن خلاص شوید.

هنگام خرید خمیر دندان، باید وجود موادی مانند "دی‌اتیلن گلیکول، دی‌گلیکول" و یا "دی‌گلیکول استئارات" را در آن بررسی کنید، اما ممکن است بعضی از خمیردندان‌ها، لیست مواد تشکیل دهنده را ذکر نکرده باشند که در این صورت باید به نام کشور سازنده، نشان استاندارد و مجوز وزارت بهداشت توجه کنید.

بنابراین متوجه شدیم که همه مردم نمی‌توانند از یک خمیردندان استفاده کنند.

—در مورد روش های مختلف جبران فلوئور، اطلاعاتی جمع آوری و در کلاس گفت و گو کنید.

منبع عمده فلوئور عمدتاً آب آشامیدنی است؛ به طوری که اگر آب حاوی یک قسمت در میلیون، فلوئور باشد، روزانه یک تا دو میلی گرم از این عنصر در بدن تأمین می گردد. حدود ۲۵٪ میلی گرم دیگر نیز از طریق چای و غذاهای جامد به بدن می رسد. ماهی نیز منبع خوبی از فلوئور است. برخی مطالعات نشان می دهند که مقدار فلوئور غذاهای آماده شده یا پخته ممکن است ۲ تا ۳ برابر بیش از غذاهای تازه باشد و البته این در صورتی است که غذا با آب فلوریده شده تهیه شده باشد. فلوئور موجود در سبزیجات نیز بستگی به فلوریده شدن آب آن منطقه دارد که در آن صورت میزانش افزایش می یابد. مقدار فلوئور رژیم غذایی جوامع ساکن در این مناطق حدود ۳ تا ۴ برابر بیش از جوامعی است که آب منطقه شان فلوریده نشده است. جالب است بدانید که یک لیوان چای حاوی یک میلی گرم فلوئور است. غذاهای حیوانی مانند انواع گوشت، جگر و غذاهای دریایی مقادیر قابل توجهی فلوئور به ما می رسانند. پختن غذاها در ظروف تفلون (یک پلیمر حاوی فلوئور) میزان دریافت آن را افزایش می دهد.

یک دستور غذایی حاوی فلوئور:

سوپ سفید

مواد لازم:

قلم گوساله بریده شده، ۱/۵ کیلوگرم

هویج ورقه شده، ۱ عدد

پیاز خرد شده، ۱ عدد

برگ بو، چند دانه

آویشن، ۱ شاخه (یا به صورت پودر به میزان لازم)

آب، ۲/۵ لیتر

سیر، ۱ حبه

فلفل سیاه دانه، ۸ عدد

نمک، ۱ قاشق چایخوری

همه مواد را در یک قابلمه بزرگ قرار داده و روی آن آب بریزید. جوش که آمد حرارت آن را کم کنید و به مدت ۵ ساعت بپزید و سپس صاف کنید. حدود یک لیتر سوپ خواهید داشت. برای سوپهای غلیظ که شیر مخلوط دارند به عنوان مایه می توان از این سوپ که به علت دارا بودن مواد قلم گوساله حاوی فلوئور زیادی است، استفاده کرد. این سوپ را می توانید در ظروف دربسته داخل فریزر نگهدارید.

پیوند با زیست شناسی صفحه ۹۵

استفاده از اندوخته غذایی کدام گیاهان، سبب تأمین سلنیم مورد نیاز بدن می شود؟

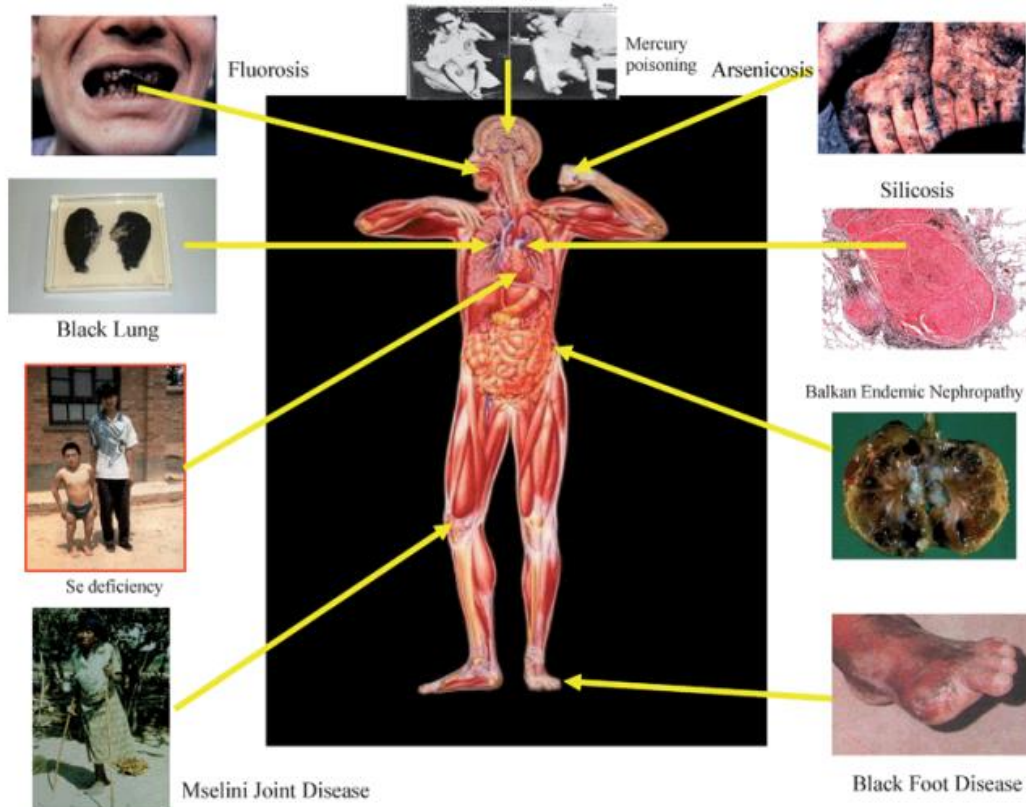
بیشتر سلنیوم مورد نیاز بدن از رژیم غذایی تأمین می شود. سبوس گندم، کره، ماهی و ماهی صدف، سیر، غلات، تخم آفتابگردان، کنجد و آجیل منابع خوبی از سلنیوم هستند. همچنین سلنیوم در یونجه، دانه رازیانه، برگ تمشک و بومادران یافت می شود.

در کتاب علوم با کانی آزیست و تأثیر آن بر سلامت انسان آشنا شدید. در مورد استفاده از آزیست در ساخت وسایل مختلف و اثرات آن، مطالبی جمع آوری و در کلاس بحث کنید.

الیاف پنبه کوهی می‌تواند به ذرات بسیار ریز و نامریی تبدیل شود. این ذرات نامریی که قطر آن‌ها کمتر از $5/0$ میکرون است، در هنگام تنفس به اعماق شش نفوذ می‌کنند و برای همیشه در آن جا می‌مانند. با گذشت زمان این ذرات بر اثر تحریکات مداوم خود می‌توانند سبب بیماری‌های آزیستوز (Asbestosis)، سرطان ریه یا بیماری مزوتلیوما (Mesothelioma) شوند که همه آن‌ها در نهایت به مرگ منتهی می‌شوند. هنگام کار با پنبه کوهی باید لباس‌های مخصوص پوشید.

خود را بیازماید صفحه ۹۹

علت ایجاد هریک از بیماری‌های مشخص شده در تصویر زیر چیست؟



۱- فزونی جیوه، آسیب‌های مغزی

اثرات سمی جیوه از چندین دهه گذشته شناخته شده‌اند. جیوه ماده سمی بسیار خطرناکی است که به‌آسانی از طریق بافتهای پوستی، تنفسی و گوارشی جذب می‌شود. یکی از موارد مسمومیت با جیوه به حساب می‌آید. جیوه، سیستم عصبی مرکزی را مورد تهاجم قرار داده و تاثیرات بسیار بدی روی دهان، لثه و دندان

می‌گذارد. تماس با مقدار زیاد جیوه و در مدت طولانی باعث آسیب‌های مغزی و در نهایت منجر به مرگ خواهد شد.



۲- فزونی آرسنیک، بیماری خشک شدن پوست

آرسنیک و بسیاری از ترکیبات آن سمی هستند. آرسنیک با مختل کردن وسیع سیستم گوارشی و ایجاد شوک منجر به مرگ می‌شود و سایر عوارض بلند مدت این سم سرطان پوست و صدمات جدی به روده و کبد می‌باشد. استفاده از دستگاه تصفیه آب به مقدار قابل قبول آرسنیک را تصفیه می‌نماید و در صورت اجبار به مصرف آب آلوده، مصرف شیر و سیر و اسفناج و پرتقال و کلم بروکلی برای سم زدایی توصیه شده است.

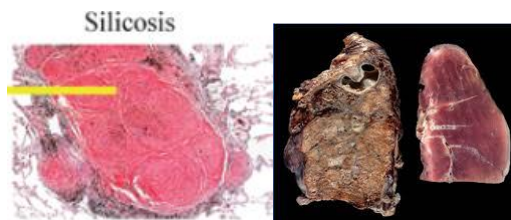


Arsenicosis



۳- غبار سیلیس، سیلیکوزیس

سیلیکوزیس (به انگلیسی: Silicosis) یک بیماری شغلی ریه است که بر اثر تنفس طولانی مدت غبارهای سیلیس ایجاد می‌شود.



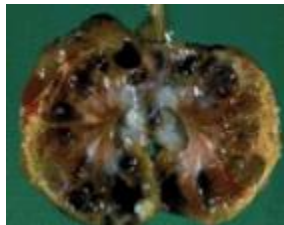
۴- فزونی آرسنیک، بیماری پای سیاه (قانقاریا)

قانقاریا یا سیاه‌مردگی فساد و عفونتی است که در قسمتی از ماهیچه یا استخوان پیدا شود و آن را سیاه و فاسد کند.



Black Foot Disease

۵- فزونی کادمیم، مقدار زیاد عنصر کادمیم در ادرار نشان دهنده خطر مرگ ناشی از بیماری‌های کبدی است. کادمیم از طریق باتری‌ها، آلودگی‌های صنعتی و همچنین دود ناشی از استعمال دخانیات وارد بدن می‌شود



۶- کمبود سلنیم، بیماری کشان Keshan disease

بیماری مربوط به عضلات قلب، آسیب‌های فیزیولوژیکی شدید و ناراحتی‌های قلبی در جوانان که در نهایت به مرگ منجر می‌گردد. این بیماری اغلب کودکان و زنان را درگیر می‌کند. بیمار نارسایی قلبی و ریوی دارد. درمان با مکمل‌های سلنیوم است. این بیماری اصولاً در کشورهای که سلنیوم خاک کم است مشاهده می‌شود. بطور کلی منابع غذایی سلنیوم شامل: مغزها (خشکبار)، ماهی تن، گوشت گوساله، بوقلمون، مرغ، مخمر آبجو، سبوس گندم، تخمه آفتابگردان، سیر، دانه‌ها، گردو، کشمش، امعاء واحشاء مانند جگر، قلوه و انواع ماهیهای آب شور و شیرین است.



۷- غبار زغال سنگ، بیماری ریه سیاه



۸- فزونی فلئور، بیماری فلورسیس Fluorosis



۹- بیماری مفاصل



فصل ۶

یادآوری صفحه ۱۰۳

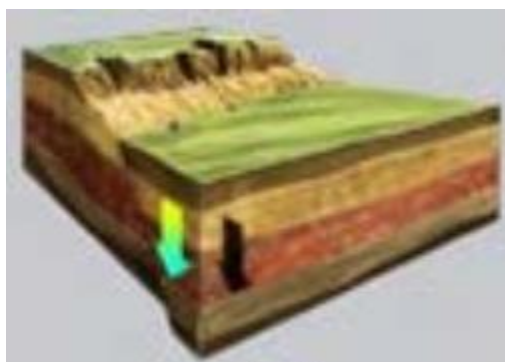
در کتاب علوم آموختید که شکستگی ها، به دو دسته درزه و گسل تقسیم می شوند. تفاوت و تشابه درزه و گسل را بیان کنید.

گسلها شکستگی هایی در پوسته زمین هستند که در طول آنها تغییر شکلهای قابل توجهی ایجاد شده است. گاهی اوقات گسلهای کوچک در ترانشه های جاده، جایی که لایه های رسوبی چند متر جابجا شده اند، قابل تشخیص هستند. گسلهایی در این مقیاس و اندازه معمولا بصورت تک گسیختگی جدا اتفاق می افتد. در مقابل گسلهای بزرگ، شامل چندین صفحه گسل درگیر می باشند. این منطقه های گسله، می توانند چندین کیلومتر پهنا داشته باشند و معمولا از روی عکسهای هوایی راحتتر قابل تشخیص هستند تا سطح زمین. در واقع حضور گسل در یک منطقه نشان می دهد که در یک زمان گذشته، در طول آن جابجایی رخ داده است. این جابجایی ها می توانسته یا بصورت جابجائی آرام باشد که هیچ گونه لرزشی در زمین ایجاد نمی کند و یا اینکه بصورت ناگهانی اتفاق بیفتد که جابجایی های ناگهانی در طول گسلها عامل ایجاد اغلب زلزله ها می باشد. بیشتر گسلها غیر فعال هستند، و باقیمانده ای از تغییر شکلهای گذشته می باشند. در امتداد گسلهای فعال، حین جابجائی فرسایشی دو قطعه پوسته ای در کنار هم، سنگها شکسته و فشرده می شوند. در سطح صفحات گسلی، سنگها بشدت صیقلی و شیاردار می شوند. این سطوح صیقلی و شیاردار به زمین شناسان در شناخت جهت آخرین جابجایی ایجادشده در طول گسل کمک می کند. که زمین شناسان بر اساس جهت حرکت گسلها، آنها را به انواع مختلفی تقسیم بندی می کنند.

درزه ها عبارت از شکستگی هایی است که غالبا در سنگ مشاهده می شود. مهمترین مشخصه درزه ها این است که در این نوع شکستگی ها، حرکت نسبی به موازات صفحه شکستگی وجود ندارد و در صورتی که در این سطح حرکتی وجود داشته باشد، شکستگی حاصله را گسل می نامند. بایستی توجه داشت که در بسیاری موارد ممکن است سنگهای موجود در دو طرف سطح شکستگی در امتداد عمود بر این سطح حرکت کنند.

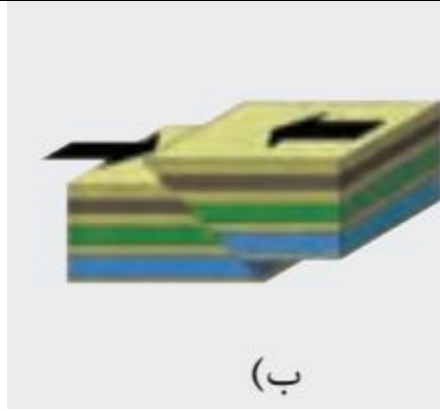
فکر کنید صفحه ۱۰۵

در هر یک از گسلهای زیر نوع گسل را مشخص کنید.



(الف)

گسل عادی



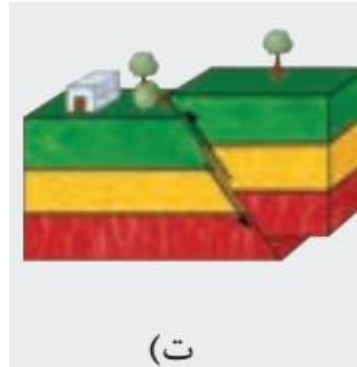
(ب)

گسل معکوس



(پ)

گسل معکوس



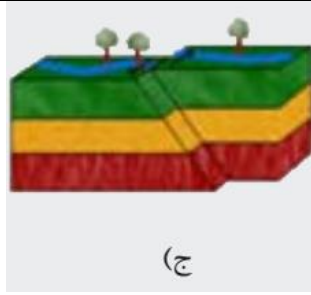
(ت)

گسل معکوس امتداد لغز



(ث)

گسل عادی



امتداد لغز

با هم بیندیشید

با استفاده از اطلاعات موجود در تصویر روبه رو در مورد پراکندگی جغرافیایی زمین لرزه های

جهان، به پرسش های زیر پاسخ دهید:

۱- زمین لرزه ها بیشتر درون ورقه های سنگ گره رخ می دهند یا در حاشیه آنها؟ برای اثبات نظر خود دلیل بیاورید.

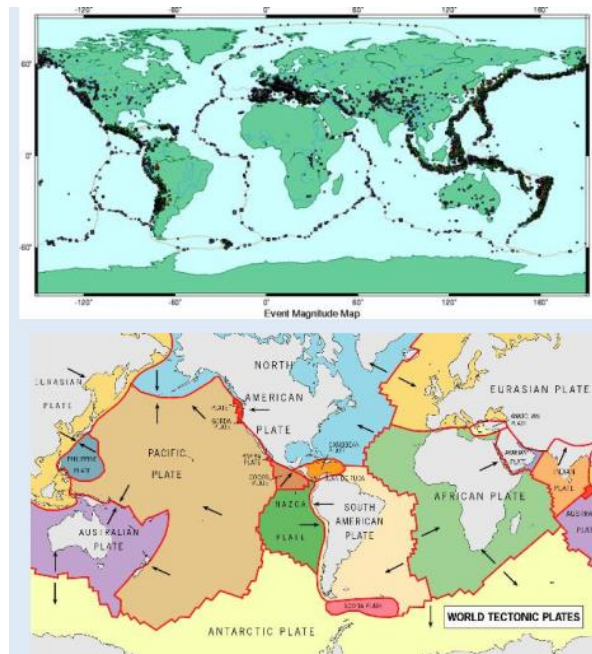
بیشتر زمین لرزه ها در حاشیه ورقه ها اتفاق می افتد. ورقه ها وقتی از هم دور می شوند و یا به هم برخورد می کنند و یا در امتداد هم حرکت می کنند موجب زمین لرزه می شوند و محل این سه حرکت در حاشیه ورقه ها اتفاق می افتد و در نقشه مشخص می باشد.

۲- محدوده کمربند لرزه خیز آلپ - هیمالیا را مشخص کنید.

محدوده کمربند لرزه خیز آلپ - هیمالیا شامل محدوده رشته کوه آلپ در اروپا، کوه های ترکیه، رشته کوه های البرز و زاگرس ایران، رشته کوه هندوکش، رشته کوه هیمالیا تا مناطق جنوب شرقی آسیا می باشد.

۳- در سال نهم با ورقه های سنگ گره آشنا شدید. دو تصویر روبه رو را با هم مقایسه کنید. چه نتیجه ای

می گیرید؟



نواحی لرزه خیز و آتشفشانی که در نقشه بالا مشخص شده با حاشیه ورقه ها منطبق می باشد. یعنی حاشیه ورقه ها به دلیل برخورد ورقه ها، دور شدن ورقه ها و حرکت در امتداد هم باعث وقوع زمین لرزه و فعالیت های آتشفشانی می شود.

گفت و گو کنید صفحه ۱۰۷

کدام یک از فعالیت های انسانی زیر می تواند باعث وقوع زمین لرزه شود؟

انفجار معدن – تخلیه ناگهانی آب پشت سد – شخم زدن زمین – انفجارهای اتمی – آتش سوزی جنگل ها
 فعالیت های انسانی نیز می تواند زمین لرزه تولید کند. چهار گونه فعالیت های اصلی در این پدیده مشارکت می کنند: احداث سدها و ساختمان های بزرگ، حفاری و تزریق مایع به داخل چاه، استخراج از معادن زغال سنگ، و استخراج نفت. البته انفجارهای اتمی هم در وقوع زمین لرزه نقش دارد.
 به نظرمی رسد آتش سوزی جنگل ها و شخم زدن زمین نقشی در وقوع زمین لرزه ندارد.

پاسخ دهید صفحه ۱۰۷

طرح سه بعدی مقابل، برخی از مشخصات محل وقوع زمین لرزه را نشان می دهد. با استفاده از اطلاعات موجود در تصویر، میزان خسارت احتمالی در دو نقطه X و Y را مشخص کنید.



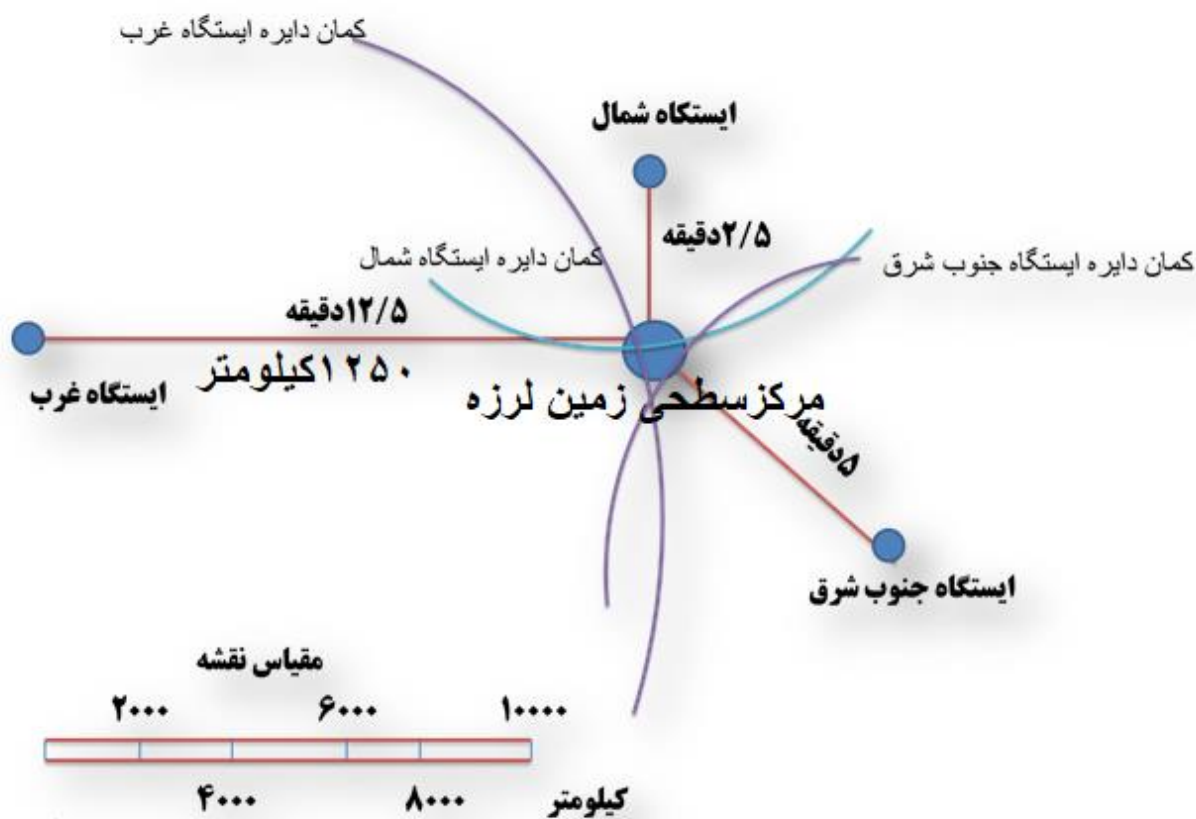
میزان خسارت در نقطه Y نسبت به X کم تر است زیرا نقطه X به مرکز سطحی زلزله نزدیک تر است هر چه نقطه ای به مرکز سطحی زمین لرزه نزدیک تر باشد میزان خرابی ناشی از زمین لرزه بیشتر است و همچنین نقطه X به خط گسل نزدیک می باشد. ولی در نقطه Y فاصله ای زیادی با مرکز سطحی زمین لرزه دارد و بنابراین خرابی ناشی از زمین لرزه کمتر از نقطه X می باشد و ضمناً فاصله نقطه Y از خط گسل زیاد تر از نقطه X می باشد...

پیوند با ریاضی صفحه ۱۰۹

۱- جدول زیر، فاصله زمانی ثبت امواج P و S یک زمین لرزه، در سه ایستگاه لرزه نگاری را نشان می دهد. مرکز زمین لرزه را تعیین کنید.

موقعیت ایستگاه	فاصله زمانی بین موج S و P
شمال	۲/۵ دقیقه
جنوب شرقی	۵ دقیقه
غرب	۱۲/۵ دقیقه

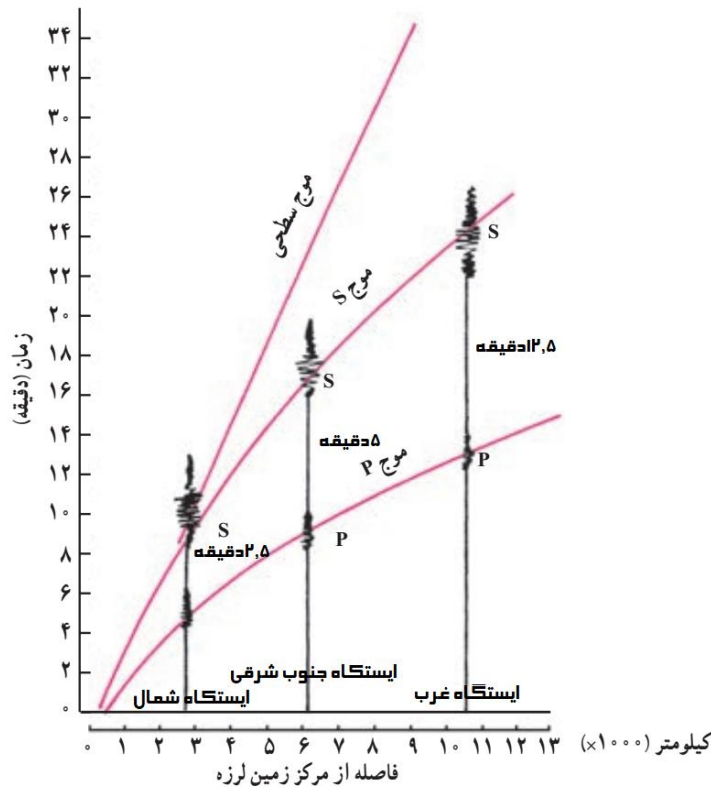
- با توجه به این که امواج S و P ۱۰۰۰۰ کیلومتر در ۱۰ دقیقه طی می کنند و با توجه به اطلاعات فاصله زمانی امواج اولیه و ثانویه به ایستگاه در داخل جدول مراحل زیر را انجام می دهیم:
- ۱- مشخص کردن سه ایستگاه در روی نقشه
 - ۲- مشخص کردن اطلاعات مربوط به فاصله زمانی بین دو موج S و P
 - ۳- مشخص کردن مقیاس ترسیمی در نقشه
 - ۴- مشخص کردن فواصل در سه ایستگاه با توجه به مقیاس نقشه
 - ۵- رسم کمان دایره ای سه ایستگاه بر روی نقشه با توجه به مقیاس نقشه
 - ۶- نقطه ای که سه کمان دایره با هم تداخل پیدا می کند مرکز سطحی زمین لرزه می باشد.
- به نقشه ای که رسم شده توجه کنید.



۲- توضیح دهید چرا برای تعیین مرکز سطحی زمین لرزه، لازم است حداقل فاصله زمانی امواج P و

S، در سه ایستگاه لرزه نگاری را داشته باشیم؟

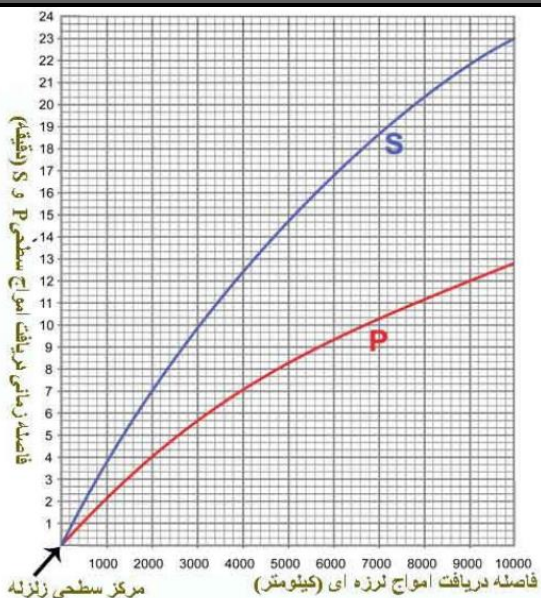
با داشتن اختلاف زمان رسیدن امواج P و S به دستگاه لرزه نگار، پیدا کردن مرکز سطحی زمین لرزه آسان است. برای این کار اختلاف زمان مزبور را در هر ایستگاه با منحنی مخصوص مقایسه و به این ترتیب، فاصله میان ایستگاه لرزه نگاری و مرکز سطحی زمین لرزه را مشخص می کنند. سپس به مرکز ایستگاه لرزه نگاری و به شعاع فاصله به دست آمده دایره ای رسم می کنیم. همین کار را برای حداقل دو ایستگاه لرزه نگاری دیگر انجام می دهیم. محل تلاقی سه دایره، همان مرکز سطحی زمین لرزه است.



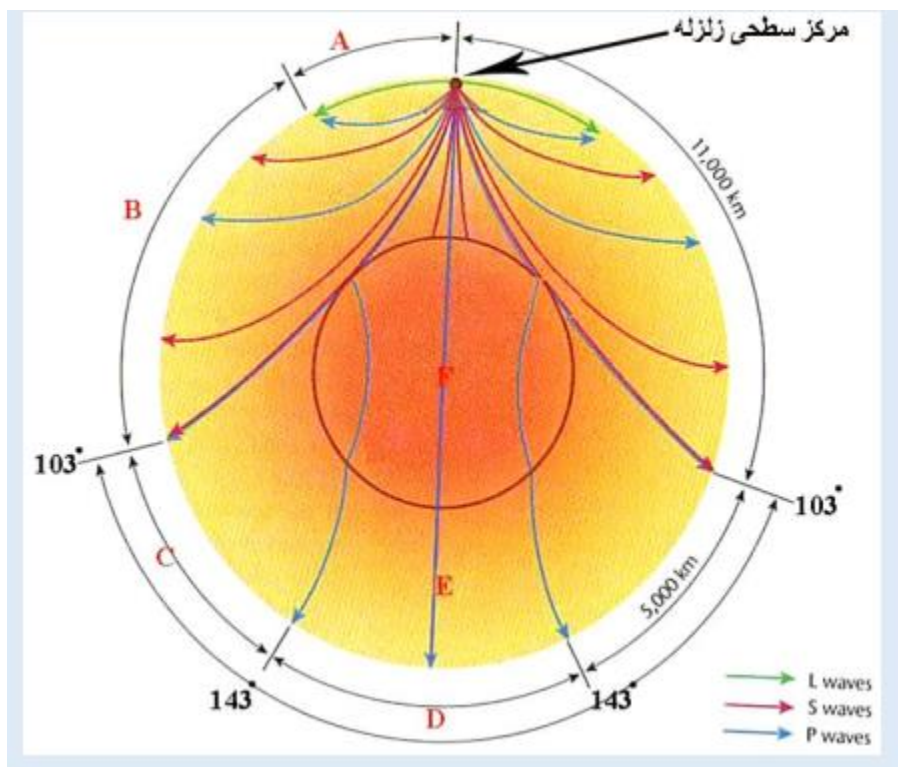
در نمودار بالا موقعیت سه ایستگاه مشخص شده است.

۳- در فاصله ۱۰۰۰ و ۲۰۰۰ کیلومتری، موج S نسبت به P با چه اختلاف زمانی دریافت می شود؟

به شکل پایین نگاه کنید در سمت راست پایین شکل فاصله ۱۰۰۰ کیلومتری از مرکز سطحی زلزله مشخص شده است. در سمت راست شکل فاصله زمانی امواج P، ۱۳ دقیقه و فاصله زمانی امواج S، ۲۳ دقیقه می باشد یعنی امواج P فاصله ۱۰۰۰ کیلومتری را در ۱۳ دقیقه و امواج S این فاصله را در ۲۳ دقیقه طی می کنند تا به ایستگاه برسند. بنابراین اختلاف زمانی دو موج در فاصله ۱۰۰۰ کیلومتری ۱۰ دقیقه می باشد.



پاسخ دهید صفحه ۱۱۰



با استفاده از اطلاعات موجود در تصویر رو به رو که انتشار امواج زمین لرزه ای در بخشهای درون کره زمین را نشان می دهد، به پرسش زیر پاسخ دهید:
 کدام موج، پس از شکست در مرز هسته خارجی به درون آن وارد نمی شود؟ چرا؟

امواج ثانویه یا S زیرا امواج ثانویه فقط از جامدات عبور می کنند و وقتی به هسته خارجی که حالت آن مایع (آهن مذاب) می باشد برخورد می کند وارد آن نمی شود. ولی امواج اولیه یا P وارد هسته خارجی شده و می شکند. در واقع در زاویه بین 10^3 تا 10^4 درجه ای مرکز سطحی زلزله امواج توسط لرزه نگاره ها دریافت نمی شوند.

پیوند با ریاضی صفحه ۱۱۱

مقدار انرژی آزاد شده و دامنه امواج زمین لرزه های با بزرگای ۶ ریشتر، چند برابر زمین لرزه های با

بزرگای ۴ ریشتر است؟

مقیاس ریشتر بیانگر میزان انرژی آزاد شده در کانون زلزله است. اگر بزرگی زلزله ای M در مقیاس ریشتر باشد. انرژی آزاد شده آن زلزله E در واحد ارگ (Erg) خواهد بود:

$$\log E = 11.8 + 1.5M$$

رابطه فوق نشان می دهد اضافه شدن هر یک درجه به بزرگی زلزله، انرژی آزاد شده آن را تقریباً $31/6$ برابر بیشتر می نماید.

بنابراین:

$$31,6 \times 31,6 = 998,56$$

فکر کنید صفحه ۱۱۱

بزرگا و شدت زمین لرزه بم را در شهرهای بم و تهران با هم مقایسه کنید.

رشد شهری در تهران بشکل کاملاً منطقی انجام نشده و حدود ۸ میلیون نفر از جمعیت تهران در ناحیه بسیار خطرناک قرار دارند یک تحقیق زمین شناسی پیش بینی می کند که زلزله ای با بزرگی ۷ ریشتر در تهران $640,000$ مسکن را از مجموع $1,100,000$ مسکن ویران کرده و علاوه بر این بیش از یک میلیون و نیم از جمعیت تهران را کشته و حدود چهار میلیون و سیصد هزار نفر را زخمی کند.

زمین لرزه بم، زمین لرزه ای بود به شدت $6/6$ ریشتر که در ساعت ۵:۲۶ بامداد ۵ دی ۱۳۸۲ شهر بم و مناطق اطراف آن در شرق استان کرمان را لرزاند.

طبق آمار رسمی این زمین لرزه $26,271$ قربانی، 30 هزار مجروح و بیش از صد هزار نفر بی خانمان به جای گذاشت. این در حالی است که تعداد واقعی قربانیان به مراتب بیش از میزان اعلام شده بود.

فعالیت صفحه ۱۱۲

محل های امن نسبت به زمین لرزه را در مدرسه و منزل مشخص کنید.

محل های امن مدرسه و مدرسه تان را با راهنمایی های دبیرتان مشخص کنید و به نکات زیرهم توجه کنید برای شناسایی جاهای امن مدرسه و خانه

۱- محیط کنار ستون های اصلی ساختمان ها و دیوارهای بین آنها (دیوار حمال)؛ امن ترین نقاط در برابر ریزش آوار بوده و بیشترین مثلث حیات در آنها تشکیل می گردد. به هنگام وقوع زلزله به صورت درازکش و با پوشاندن سر در کنار این دیوارها و به حالت نشسته با پوشاندن سر در کنار ستونهای اصلی قرار گیرید.

- ۲- روی تخت خواب، زیر میز، چارچوب در، داخل آسانسور، راه پله و وسط اتاق، محیط مجاور پنجره ها از نا ایمن ترین نقاط در هنگام وقوع زلزله می باشند. در این هنگام اکیداً از قرار گرفتن در این نقاط خودداری کنید.
- ۳- اگر در آسانسور بودید و متوقف کردن آن ناممکن بود، سریعاً در یکی از گوشه های آسانسور قرار بگیرید و زانوهای خود را شل کنید.
- ۴- اگر در راه پله بودید و فرصت خروج نداشتید؛ سریعاً در پاگرد قرار بگیرید و در حالت نشسته سر خود را با دو دست ببوشانید.
- ۵- در داخل و خارج ساختمان از قرار گرفتن در کنار دیوارهای جانبی ساختمان اکیداً خودداری کنید.
- ۶- در خارج از ساختمان از زیر درختان، پنجره ها، کابل های برق و اقلام در حال سقوط دوری کنید و به وسط خیابان ها پناه ببرید.
- ۷- در هنگام رانندگی و در گاراژ خودرو از خودرو خارج شده و در کنار شاسی آن به صورت درازکش پناه بگیرید. شاسی خودرو یکی از بهترین مثلث های حیات را برایتان ایجاد می نماید.
- ۸- یخچال، فریزر، لباسشویی می توانند وزن آوار را منحرف نمایند؛ پس حوالی آنها نیز جانپناه خوبیست.
- ۹- نوزادان و اطفال را در قسمت داخل شکم خود در زمانی که در نقطه ایمن قرار دارید؛ قرار دهید و سر و روی آنها را ببوشانید.
- ۱۰- در زیر آوار به صورت آرام و شمرده نفس بکشید و تنها فریاد خود را برای زمانی نگهدارید که مطمئن هستید که ناجی بالای آوار به دنبال شماست.
- ۱۱- برای فرار به هیچ وجه از آسانسور استفاده ننمائید.

فصل ۷

تحقیق کنید صفحه ۱۲۱

قدیمی ترین سنگ های ایران در کدام مناطق یافت می شوند؟

سری سنگ های قدیمی بعدی ایران سنگ های بنه شور در نزدیکی رباط پشت بادام است این سنگ ها از کانی های گنیس ارتوکلاز گرانیت اناتکسی امفیبولیت تشکیل شده و در آن فعالیت آتشفشانی با توف دیده می شود که بازیک هستند. در رده بندی بعدی سنگ های قدیمی به سنگ های غرب دریاچه ی ارومیه به نام کمپلکس سلوانا با ترکیب سنگی تقریباً مشابه با سنگ هاس چایدونی میرسیم و بعد از آن سنگ های شیلی سیریسیتی با رنگ سبز (کلریت در محیط احیایی) کهر کرج قرار دارد.

در مورد سنگهای آذرین در رشته کوه البرز، اطلاعات جمع آوری و به کلاس گزارش دهید.

در اثر جدا شدن صفحه ایران از بزرگ قاره جنوبی "گندوانا" و مهاجرت آن به سوی شمال در طی پالئوزونک در زمان تریاس میانی، با صفحه توران برخورد کرده و رشته کوههای قدیمی پلئوزوئیک و مزوزوئیک زیرین را به وجود آورده، از این پس صفحه ایران بخشی از بزرگ قاره شمال (اوراسیا) محسوب شده و حوضه رسوبی مشترکی با البرز داشته است. حد فاصل بین این دو صفحه زمین درزی به نام زمین درز پالئوتتیس وجود دارد که بیشتر کانونت‌های زمین لرزه‌های قدیمی و کنونی این منطقه منطبق بر گستره این زمین درز است. کلیه سنگهای تشکیل دهنده رشته کوه کپه داغ، از نوع سنگهای رسوبی و بیشتر سنگهای کربناته و کمتر سنگهای تخریبی است. این رسوبت در دیایی نه چندان ژرف تا کم ژرف نهشته شده است، به دلیل شکل چین خوردگی این رشته کوهها، امکان تجمع مواد هیروکربوری و به تله افتادن آنها در مناطقی خاص، پهنه‌ای با پتانسیل ذخایر نفت و گاز را در این بخش از ایران زمین به وجود آمده است. بخش جنوبی و یا در حقیقت رشته کوههای البرز، به دلیل این که در زمانهای مختلف از نظر زمین ساختی، گستره‌ای پویا بوده است. فعالیت‌های ماگمایی در دوره‌هایی خاص وجود داشته است. در رشته کوههای البرز خاوری، از قدیمی ترین سنگهای پالئوزوئیک از جنس سنگهای آذرین، سنگهای رسوبی تخریبی و سنگهای رسوبیکربناته (شیمیایی) تا عهد حاضر وجود دارد.

سنگهای آذرین ساب ولکانیک ترشیری به صورت سیل، دایک و استوک در دامنه های جنوبی البرز مرکزی در شمال تهران مشاهده می شوند. ترکیب سنگ شناسی آنها از گابرو تامونزوگابرو و مونزودیوریت تغییر میکند. بررسی تجزیه های شیمیایی اکسیدهای اصلی و طیف وسیعی از عناصر ناچیز ۲۲ نمونه از سنگهای منطقه نشان میدهد که خصوصیات ژئوشیمیایی این سنگها با خصوصیات سنگهای قوسهای آتشفشانی در حاشیه های صفحه ای مخرب شباهت زیادی دارند.

جمع آوری اطلاعات صفحه ۱۲۸**در مورد معادن شدادی استان خود تحقیق کنید.**

فعالیت‌های معدنکاری که امروزه در حال انجام است به نوعی ادامه معدنکاری‌هایی است که پیشینیان ما در هزاران سال پیش انجام داده و از آن با عنوان معدنکاری «شدادی» یاد می‌شود. در واقع لزوم استفاده از ابزارآلات و تجهیزات فلزی و مصنوعات طلا باعث شده تا پیشینیان به تامین مواد اولیه از طریق معدنکاری روی آورند. موضوعی که آثار آن را در معادن کنونی همچون طلای زرشوران شاهد هستیم. شاید به جرات بتوان لقب نخستین معدنکاری را به ایرانیان نسبت داد به گونه‌ای که بررسی روش و چگونگی معدنکاری شدادی هم‌اکنون نیز به کمک معدنکاری مدرن آمده و زمینه سرمایه‌گذاری دوباره و استحصال مواد معدنی را فراهم کرده است.

بسیاری از اسامی شهرها از فعالیت پیشینیان در معدنکاری خبر می‌دهد. به عنوان مثال درباره ذخایر طلای موجود در کشور به مواردی همچون کوه زر، زرشوران، زرمهر و.. اشاره شده است. در حال حاضر بیش از ۱۱۰ نام در نقاط مختلف

کشور وجود دارد که اسامی آنها نشانه وجود طلا در این مناطق است. از دیگر مواردی که می‌توان به آن اشاره کرد منطقه‌ای به نام آهنگران در قائن است که به دلیل وجود ذخایران این نام را برای شهر برگزیده‌اند همچنین «قومس» که در محور «پارشیرین ترو» دامغان قرار دارد وجود ذخایر فراوان مس در این منطقه سبب شد تا نام‌های برگزیده برای آنها بر اساس نوع کانی‌ها باشد.

در حال حاضر ۱۲۰۰ معدن شدادی در کشور وجود دارد که خیلی از معادن بزرگ فعالیت خود را از همین معادن آغاز کرده‌اند و این موضوع نشان از توانایی و فهم بالای پیشینیان در فعالیت‌های معدنی دارد. فعالیت‌های معدنکاری در گذشته بیشتر به صورت سطحی انجام می‌شده و عمق معدنکاری در حالت معمول بین ۲۵ تا ۵۰ متر و حداکثر آن ۱۰۰ متر بوده است.

پاسخ دهید صفحه ۱۳۵

در نزدیکی محل سکونت شما کدام گسل / گسل‌ها وجود دارد؟

گسل‌های مهم ایران

زاگرس

راندگی اصلی زاگرس • کازرون • دنا • میناب • اردل • زردکوه • گسل آغاچاری • گسل مارون

ایران مرکزی

درونه • بینالود • میامی • ترو و انجیلو • کلمرد • پشت‌بادام • قم-زفره • ایندس • دهشیر • سروستان • شهداد • کوهبنان • جرجافک • گلباف • نایبند

خاور و جنوب خاوری ایران

نهبندان • بشاگرد • هریرود • کشف‌رود

البرز باختری-آذربایجان

گسل ارومیه-زربینه‌رود • آستارا • تبریز • سلطانیه • گسل‌های البرز • البرز • سمنان • مشاء-فشم • کندوان • شمال تهران • دامغان • عطاری • گسل‌های زمین‌لرزه‌ای



آیا در سال های اخیر این گسل / گسل ها باعث زمین لرزه شده است؟

درمحل زندگی تان تحقیق کنید.

تحقیق کنید صفحه ۱۳۷

۱- زمین گردشگری چگونه در رونق اقتصادی کشور تأثیر می گذارد و شما در زمینه حفاظت از آن چه نقشی می توانید داشته باشید؟

متصدیان زمین گردشگری در منطقه بهترین سرویس، خدمات و تدارکات را برای گردشگران آماده می کنند و در قبال این موارد، هزینه آنها را دریافت می کنند که به مردم بومی آن منطقه کمک فراوانی کند و...و در مجموع موجب توسعه و پیشرفت منطقه می شود. ما می توانیم با افزایش سواد زیست محیطی گردشگران و افراد بومی منطقه از طریق آموزش از تخریب طبیعت جلوگیری کنیم. اگر گردشگران و افراد بومی ارزش محیط زیست را بدانند و اگر در مورد روش های حفظ محیط زیست و طبیعت بی جان آگاهی کسب کنند قطعاً در حفظ محیط زیست تلاش می کنند و بهتر است ما دانش

آموزان ابتدا با مطالعه بیشتر سواد زیست محیطی خودمان را بالا ببریم تا بتوانیم در حفظ محیط زیست نقش داشته باشیم و...

۲- یکی از جاذبه های زمین گردشگری در اطراف محل سکونت خود را به کلاس معرفی کنید.

می توانید از کتاب استان شناسی تان که سال قبل مطالعه کردید استفاده کنید.

با تشکر

محسن یوسفی از استان قم